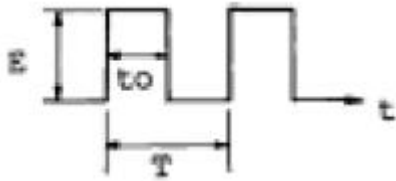


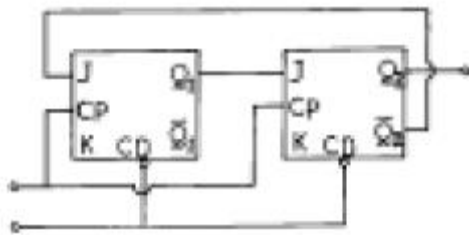
1과목 : 디지털 전자회로

1. 그림은 이상적인 펄스이다. 이 펄스의 점유율 D 는?



- ①  $D=t_0/T$
- ②  $D=T/t_0$
- ③  $D=E/T$
- ④  $D=E/t_0$

2. 다음 그림과 같은 J - K F/F 회로에서 클럭펄스가 몇 개 입력될 때 Q<sub>2</sub>에 출력되는가?



- ① 3
- ② 4
- ③ 5
- ④ 6

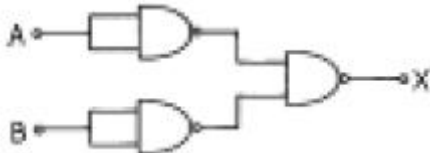
3. 이상적인 연산 증폭기의 특징으로 적당치 않은 것은?

- ① 무한대의 입력 임피던스
- ② 무한대의 출력 임피던스
- ③ 무한대의 전압 이득
- ④ 무한대의 대역폭

4. 전압 증폭도가 20[dB]와, 60[dB]인 증폭기를 직렬로 연결시키면 종합 이득은 얼마인가?

- ① 10
- ② 100
- ③ 1000
- ④ 10000

5. 다음 그림과 같이 NAND 게이트가 연결되어 있다. 이회로와 등가인 게이트는?



- ① OR 게이트
- ② AND 게이트
- ③ NOR 게이트
- ④ NAND 게이트

6. 다음 논리식을 간단히 한 결과는?

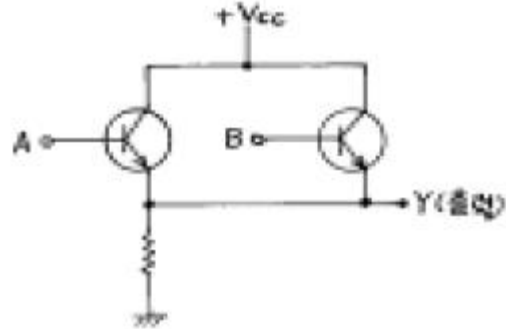
$$\overline{\overline{A+B} + \overline{\overline{A+B}}}$$

- ① A + B
- ② AB
- ③ A
- ④ B

7. 수정발진기의 직렬공진주파수 fs, 전극용량을 포함한 병렬공진주파수를 fp라 할 때 수정발진기가 안정된 발진을 하기 위한 동작주파수의 조건은?

- ① fs 보다 낮게 한다.
- ② fp 보다 높게 한다.
- ③ fs 보다 낮게, fp보다 높게 한다.
- ④ fs 보다 높게, fp보다 낮게 한다.

8. 정논리(positive logic)에서 입력이 A, B일 때 회로의 출력(Y)을 나타내는 논리식은?

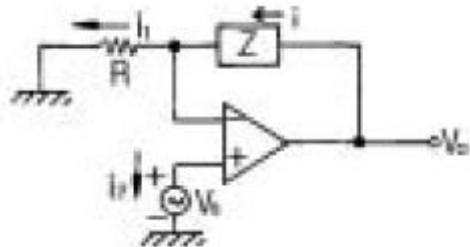


- ① AB
- ② A+B
- ③ A'B'
- ④ A'+B'

9. 플립플롭을 구성하는데 주로 이용되는 회로는?

- ① 쌍안정 멀티바이브레이터
- ② 단안정 멀티바이브레이터
- ③ 비안정 멀티바이브레이터
- ④ 무안정 멀티바이브레이터

10. 다음과 같은 연산 증폭회로에서 Z에 흐르는 전류 i의 값은 얼마인가?



- ① 0
- ② i<sub>1</sub>
- ③ (Z/R)i<sub>1</sub>
- ④ i<sub>1</sub> + i<sub>2</sub>

11. 주파수변조에서 다음 변조지수 중 대역폭이 가장 넓은 것은?

- ① 0.17
- ② 2.9
- ③ 3.1
- ④ 4.2

12. 다음 중 수정 발진자의 특징과 거리가 가장 먼 것은?

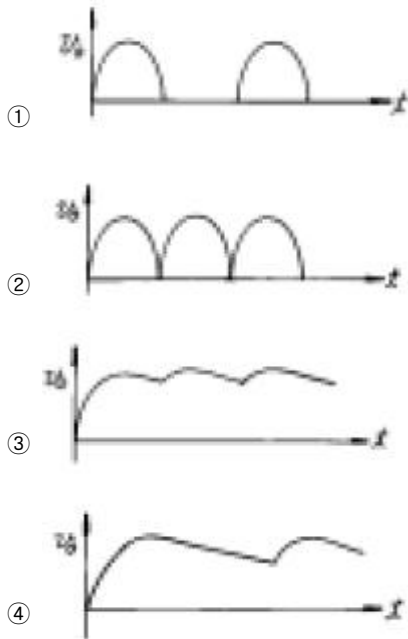
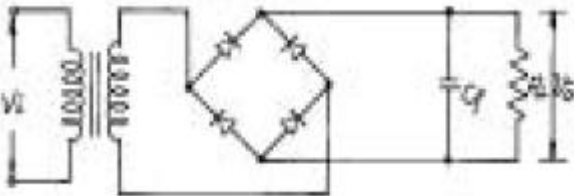
- ① Q(Quality factor)가 매우 높다.
- ② 주파수 안정도가 10<sup>5</sup>~10<sup>8</sup> 정도로 매우 안정하다.
- ③ 유도성 영역이 매우 좁다.
- ④ 병렬공진주파수 부근에서 대단히 큰 LC동조회로와 같은 임피던스 특징을 갖는다.

13. 진폭변조에서 변조도 80[%]이고 반송파 평균전력이 300[W]일 때 피변조파의 평균 전력은?

- ① 328[W]
- ② 396[W]
- ③ 440[W]
- ④ 520[W]



- ① 매우 작게 만들수 있어 도파관, 전송선에 용이하게 장치하여 적은 전력측정에 사용된다.
  - ② FM송신기의 전력측정에 사용된다.
  - ③ 더미스터와 바레터가 있는데, 특히 더미스터는 주위 온도변화에 영향을 받지 않는다.
  - ④ 방향성 결합기를 사용하여 대전력을 감시하는데에도 사용할 수 있다.
31. 무선통신 시스템에서 변·복조를 하는 이유 중 타당성이 적은 것은?
- ① 통신로의 효율적 이용
  - ② 잡음과 간섭억제
  - ③ 근접거리의 선로 전송에 유리
  - ④ 신호의 다중화
32. 반송파가 80[MHz], 최대주파수 편이가 60[kHz]이고 신호파는 10[kHz]인 경우 FM 변조 했을 때 변조지수는 얼마인가?
- ① mf = 8                      ② mf = 6
  - ③ mf = 5                      ④ mf = 4
33. 그림과 같은 정류 회로에서 콘덴서 Cf의 리이드가 단선되었을 때 출력 전압의 파형은 어떤 상태가 되는가? (단, 입력 Vi에는 정현파 가해진다.)



34. 주파수에 대한 진폭을 그래프로 표시되도록 고안된 측정 장치는?
- ① 스펙트럼 분석기      ② 계수형 주파수계
  - ③ 오실로스코우프      ④ 레벨미터
35. 축전지의 AH(암페어시)가 의미하는 것은?
- ① 사용가능 시간      ② 충전전류

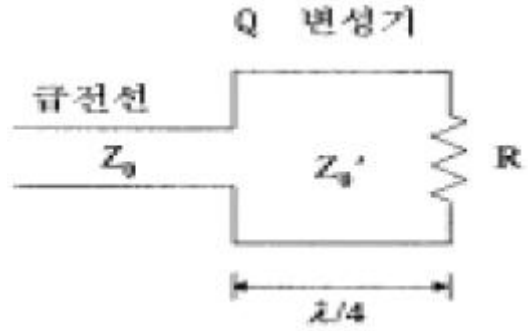
- ③ 축전지의 용량      ④ 최대 사용 전류
36. DSB와 비교하여 SSB(단측파대) 통신방식의 특징 중 틀린 것은?
- ① 어느 정도 비밀성이 있다.
  - ② 소비 전력이 크다.
  - ③ 점유주파수 대역폭이 반 이하가 되어 다중통신에 적합하다.
  - ④ 신호대 잡음비(S/N)가 좋아진다.
37. SSB 수신기가 AGC의 사용이 어려운 이유는?
- ① 반송파가 거의 발사되지 않으므로
  - ② 측파대가 없기 때문에
  - ③ 송신 출력이 적기 때문에
  - ④ 신호 주파수가 적으므로
38. 다음 중 송신기의 조건으로 맞지 않는 것은?
- ① 출력전력이 높을 것
  - ② 발사 주파수의 안정도가 좋을 것
  - ③ 점유주파수대폭이 필요 최소한 일 것
  - ④ 전력효율이 높을 것
39. 다음 중 FM 수신기의 보조회로가 아닌 것은?
- ① 진폭제한기
  - ② De-emphasis 회로
  - ③ 순시주파수편이 제어회로(IDC)
  - ④ 스킨치(Squelch)회로
40. 위성 중계기에서 잡음의 영향을 최소화하기 위해서 저잡음 증폭기에 사용되는 소자는?
- ① MASER                      ② HPA
  - ③ SSPA                        ④ GaAsFET

**3과목 : 안테나 개론**

41. 엔드 파이어 헬리컬 안테나의 특성이 아닌 것은? (문제 오류로 보기 내용이 정확하지 않습니다. 정확한 내용을 아시는분께서는 오류 신고를 통하여 작성 부탁드립니다. 정답은 4번입니다.)
- ① 광대역 진행파 안테나이다.
  - ② 이득은 약 11-15dB 정도이다.
  - ③ 복사저항은 약 100-200Ω 정도이다.
  - ④ 반치각은 (복원중)이다.
42. 위성통신 지구국용의 고이득, 저잡음 안테나로서 위성 통신 지구국에서 주로 사용하고 있는 안테나는?
- ① 브라운 안테나                      ② 카세그레인 안테나
  - ③ 혼 리플렉터 안테나                      ④ 슬롯 어레이 안테나
43. 대수주기형(log periodic)안테나에 대한 설명으로 옳지 않은 것은?
- ① 각 소자의 치수가 대수비례로만 커진다.
  - ② 안테나의 모양이 비례적으로 커지는 여러개의 안테나 소자로 되어있다.
  - ③ 주파수의 대수값이 일정한 값만큼씩 달라지는 주파수때

- 마다 동일한 복사특성을 나타낸다.
- ④ 매우 넓은 주파수 대역을 갖는다.
44. 폴디드(folded)다이폴 안테나에 관한 설명 중 틀린 것은?  
 ① 2개 접어진 안테나인 경우 급전점 임피던스는 약 292[Ω]이다.  
 ② 두 도체의 굵기가 다르면 임피던스도 달라진다.  
 ③ 수신 최대 유효전력은 반파장 다이폴의 1/4로 된다.  
 ④ 지향성은 반파장 다이폴과 같다.
45. 주파수 3[MHz]의 전파에 사용하는 반파장 다이폴 안테나의 길이는 얼마인가?  
 ① 30[m]                      ② 50[m]  
 ③ 100[m]                      ④ 300[m]
46. 다음의 전자파 성질 중 옳은 것은?  
 ① 매질에 관계없이 전파속도는 일정하다.  
 ② 유전율이 클수록 파장은 길다.  
 ③ 전파의 속도는 유전율과 투자율에 따라 달라진다.  
 ④ 전파는 종파이다.
47. 도파관 임피던스 정합 방법과 관계 없는 것은?  
 ①  $\lambda/4$  임피던스 변환기  
 ② 스텐브튜너(stub tuner)  
 ③ 다이플렉서(diplexer)  
 ④ 테이퍼선로(Tapered line)
48. 단파대에서 제1종 감쇠의 설명으로 맞는 것은?  
 ① E층의 전자밀도가 클수록, 주파수가 낮을수록 크다.  
 ② E층의 전자밀도와 주파수가 클수록 크다.  
 ③ E층의 전자밀도와 주파수가 낮을수록 크다.  
 ④ E층의 전자밀도가 작을수록, 주파수가 클수록 크다.
49. 안테나 회로를 정합하는 이유로 틀리는 것은?  
 ① 정재파비를 크게 한다.  
 ② 최대 전력을 전송한다.  
 ③ 주파수 특성을 좋게 한다.  
 ④ 손실을 적게 한다.
50. 안테나의 전력이 10[KW]에서 85[KW]로 증가하였을 때 전계강도는 몇배가 증가하는가?  
 ① 3.5 배                      ② 2.9 배  
 ③ 2.5 배                      ④ 2.4 배
51. 면적 0.5[m<sup>2</sup>], 권수 100인 루프안테나를 1[MHz]의 수신용으로 사용할때 실효고는 얼마인가?  
 ①  $\pi$  [m]                      ②  $\text{Å}/2$  [m]  
 ③  $\text{Å}/3$  [m]                      ④  $\text{Å}/4$  [m]
52. 평행 2선식 급전선중 가장 특성 임피던스가 높은 것은?  
 ① 선경 1.2 [mm], 선간격 20 [cm]  
 ② 선경 1.2 [mm], 선간격 30 [cm]  
 ③ 선경 2.9 [mm], 선간격 30 [cm]  
 ④ 선경 2.9 [mm], 선간격 20 [cm]

53. 복사저항이 30[Ω], 손실저항이 5[Ω], 도체저항이 5[Ω]인 안테나의 효율은 몇 [%] 인가?  
 ① 25[%]                      ② 50[%]  
 ③ 75[%]                      ④ 80[%]
54. 루프 안테나에 관한 설명으로 옳지 못한 것은?  
 ① 실효길이는 파장에 비례하고 권수(감이수)에 반비례한다.  
 ② 효율이 나쁘고 급전선과의 정합이 어렵다.  
 ③ 전파 도래 방향과 루프면이 일치할 때 최대감도이다.  
 ④ 수평면내의 지향특성은 주파수에 관계없이 8자 지향특성을 나타낸다.
55. 다음 중 웨이브(Wave)안테나의 특징이 아닌 것은?  
 ① 광대역 지향성 수신 안테나이다.  
 ② 주로 초단파대 수신용 안테나이다.  
 ③ 진행파 안테나의 일종이다.  
 ④ 다중 수신이 가능하다..
56. MUF(최고사용가능 주파수)가 6[MHz]일때 FOT (최적운용주파수)는?  
 ① 4.1MHz                      ② 5.1MHz  
 ③ 6.1MHz                      ④ 7.1MHz
57. 마이크로 웨이브(micro wave) 통신의 장점이 아닌 것은?  
 ① 광대역 통신이 가능하다.  
 ② PTP(point to point) 통신에 적합하다.  
 ③ 중계없이 원거리 통신이 가능하다.  
 ④ 외부 잡음의 영향이 적다.
58. 다음과 같은 회로에서 R=100[Ω], Z<sub>0</sub>=200[Ω] 일 때 정합을 하고자 한다. 이때 Z<sub>0</sub>' 는 약 몇[Ω] 인가?



- ① 120[Ω]                      ② 140[Ω]  
 ③ 150[Ω]                      ④ 300[Ω]
59. 다음은 라디오 덕트(radio duct)에 대한 설명이다. 잘못된 것은?  
 ① 극초단파대의 고정통신용으로 사용한다.  
 ② 전파를 trap시키는 대기층이다.  
 ③ 초단파대에서 전파가 가시거리보다 먼 거리까지 도달할 수 있다.  
 ④ 전파가 라디오 덕트(radio duct)내를 전파하는 것은 전파가 도파관을 전파하는 것과 같다.
60. 회절파에 대한 설명으로 틀린 것은?

- ① 극초단파대에서도 일어난다.
- ② 프레즈넬 존(Fresnel zone)이 있으면 잘 일어난다.
- ③ 깎기형 장애물(Knife edge)이 있으면 잘 일어난다.
- ④ 직접파에 의한 전계강도 보다도 더 크다.

**4과목 : 전자계산기 일반 및 무선설비기준**

61. 인터럽트(interrupt)가 발생했을 때 수행해야 할 일이 아닌 것은?
- ① 인터럽트 처리 루틴을 수행한다.
  - ② 어느 장치에서 인터럽트가 요청되었는지를 조사한다.
  - ③ 수행중인 프로그램을 보조 기억 장치에 보관한다.
  - ④ 프로그램 카운터의 내용을 보관한다.
62. ROM에 대한 설명 중 잘못된 것은?
- ① 내용을 읽어내는 것만 가능하다.
  - ② 기억된 내용을 임의로 변경시킬 수 없다.
  - ③ 주로 마이크로 프로그램과 같은 제어 프로그램을 기억시키는데 사용한다.
  - ④ 사용자가 작성한 프로그램이나 데이터를 기억시켜 처리하기 위해 사용하는 메모리이다.
63. 다음 코드 중 7 비트 코드로 구성된 것은? (단, Parity bit는 제외)
- ① EBCDIC 코드            ② BCD 코드
  - ③ GRAY 코드            ④ ASCII 코드
64. 프로그램상의 오류를 수정하는 작업을 무엇이라 하는가?
- ① 테스트            ② 디버깅
  - ③ 컴파일            ④ 코드설계
65. 사용자가 고급언어로서 초기에 작성한 프로그램을 무엇이라고 하는가?
- ① 목적 프로그램            ② 원시 프로그램
  - ③ 로드 프로그램            ④ 연계 편집 프로그램
66. 컴퓨터와 오퍼레이터 사이에 필요한 정보를 주고받을 수 있는 장치는?
- ① 라인 프린터            ② 콘솔
  - ③ 자기디스크            ④ 데이터
67. 다음은 10진수를 BCD코드로 표현한 것이다. 이 코드로 표현된 10진수는 어느 것인가?
- |      |      |      |      |
|------|------|------|------|
| 0001 | 1001 | 1000 | 0100 |
|------|------|------|------|
- ① 2673            ② 1984
  - ③ 1784            ④ 1094
68. 다음 중 CPU가 수행하는 4개 사이클(cycle)에 속하지 않는 것은?
- ① Fetch cycle            ② Execute cycle
  - ③ Interrupt cycle            ④ jump cycle
69. 부호와 1의 보수 표현 방법에 의해 8비트로 10진수 27과 -35를 표현하면?

- ① 00011011, 10100011            ② 00011011, 11011100
  - ③ 11100100, 01011100            ④ 11100101, 01011101
70. 컴퓨터의 주메모리(main memory)장치에 널리 사용 되는 것은?
- ① 자기테이프            ② 플로피 디스크
  - ③ 하드 디스크            ④ 반도체 IC 메모리
71. 디지털 선택호출장치를 설치한 의무선박국은 선박의 항행중 몇 회이상 그 기능을 확인하여야 하는가?
- ① 매일 1회 이상            ② 매주 1회 이상
  - ③ 매월 1회 이상            ④ 매년 1회 이상
72. 전파형식 표기법 중 발사의 등급 특성의 해설로서 적합지 못한 것은?
- ① 첫째기호 - 주반송파의 변조형식
  - ② 둘째기호 - 주반송파를 변조하는 신호의 특성
  - ③ 셋째기호 - 송신할 정보의 형태
  - ④ 넷째기호 - 다중화 방식
73. 다음 중 안전시설에 대하여 틀리게 설명한 것은?
- ① 산업용 전파응용설비는 신체의 안전을 위하여 접지장치를 설치한다.
  - ② 고정국에 설치된 피뢰기는 별도의 접지장치를 설치하여야 한다.
  - ③ 무선설비의 공중선은 공중선주의 동요에 절단되지 않도록 보호되어야 한다.
  - ④ 육상이동국 등 휴대형 무선설비는 공중선의 안전시설을 설치하여야 한다.
74. 다음 중 정보통신기기인증규칙에 의하여 인증이 면제되지 않는 무선설비는?
- ① 시험·연구용 무선설비의 기기
  - ② 여행자가 판매를 목적으로 반입하는 무선설비
  - ③ 전시회 등에서의 판매를 목적으로 하지 않는 무선설비
  - ④ 외국으로부터 도입한 선박에 설치된 무선설비
75. 해상이동업무에서의 통신의 우선순위가 높은순으로 나열된 것은?
- ① 공중통신-긴급통신-안전통신-조난통신
  - ② 긴급통신-안전통신-조난통신-공중통신
  - ③ 안전통신-조난통신-공중통신-긴급통신
  - ④ 조난통신-긴급통신-안전통신-공중통신
76. 공중선전력의 표시방법으로 틀린 것은?
- ① PM            ② PZ
  - ③ PY            ④ PX
77. 다음은 인증번호부여 방법의 보기를 나타낸 것이다. 설명이 적합하지 않는 것은?
- |                       |
|-----------------------|
| A - BBBBB - CC - DDDD |
|-----------------------|
- ① A : 인증의 모델            ② BBBBB : 기기부호
  - ③ CC : 인증연도            ④ DDDD : 일련번호
78. 무선측위업무에서 스푸리어스발사의 허용치는 공중선전력에

대한 감쇠값(데시벨)으로 얼마인가?

- ①  $43 + 10\log(PY)$  또는 60dBc중 덜 엄격한 값
- ②  $43 + 10\log(PX)$  또는 60dB 중 덜 엄격한 값
- ③  $46 + 10\log(PY)$  또는 80dBc중 덜 엄격한 값
- ④  $46 + 10\log(PX)$  또는 80dB 중 덜 엄격한 값

79. 산업용 전파응용설비는 사용하는 고주파출력이 몇 W를 초과하는 것을 말하는가?

- ① 10 W 초과                      ② 30 W 초과
- ③ 50 W 초과                      ④ 100 W 초과

80. 사용하는 주파수대가 4[MHz] ~ 29.7[MHz]인 무선국의 허용 편차로 적합하지 않는 것은? (단, Hz를 붙인 것을 제외하고는 백만분을 임)

- ① 방송국 : 10[Hz]                      ② 표준주파수국 : 10
- ③ 간이무선국 : 50                      ④ 우주국 : 20

1	2	3	4	5	6	7	8	9	10
①	①	②	④	①	③	④	②	①	②
11	12	13	14	15	16	17	18	19	20
④	②	②	④	④	③	①	②	②	②
21	22	23	24	25	26	27	28	29	30
②	④	④	④	①	①	④	③	③	③
31	32	33	34	35	36	37	38	39	40
③	②	②	①	③	②	①	①	③	④
41	42	43	44	45	46	47	48	49	50
④	②	①	③	②	③	③	①	①	②
51	52	53	54	55	56	57	58	59	60
③	②	③	①	②	②	③	②	①	④
61	62	63	64	65	66	67	68	69	70
③	④	④	②	②	②	②	④	②	④
71	72	73	74	75	76	77	78	79	80
①	④	④	②	④	①	①	②	③	②