

1과목 : 실험계획법

1. 2<sup>2</sup> 요인배치에서 A×B교호작용의 효과는?

B \ A	A <sub>0</sub>	A <sub>1</sub>
B <sub>0</sub>	270	320
B <sub>1</sub>	150	380

- ① -90                      ② -5
- ③ 5                         ④ 90

2. 동일한 물건을 생산하는 5대의 기계에서 부적합품 여부의 동일성에 관한 실험을 하였다. 적합품이면 0, 부적합품이면 1의 값을 주기로 하고, 5대의 기계에서 각각 200개씩의 제품을 만들어 부적합품을 만들어 부적합품 여부를 실험하여, 다음과 같은 분산분석표의 일부자료를 얻었다. 기계간의 부적합품 여부를 실험하여, 다음과 같은 분산분석표의 일부자료를 얻었다. 기계간의 부적합품률에 서로 차이가 있는지에 관한 가설 검정을 실시했을 때 판정기준으로 맞는 것은?

요인	SS	DF	MS	F <sub>0</sub>	F <sub>0.95</sub>	F <sub>0.99</sub>
A	0.596	( )	( )	( )	2.37	3.32
e	( )	995	( )			
T	62.511	999				

- ① F<sub>0</sub> < F<sub>0.99</sub>이므로 1%의 위험률로 기계간의 부적합품률의 차가 있다고 할 수 있다.
- ② F<sub>0</sub> > F<sub>0.95</sub>이므로 5%의 위험률로 기계간의 부적합품률의 차가 있다고 할 수 없다.
- ③ F<sub>0</sub> > F<sub>0.99</sub>이므로 1%의 위험률로 기계간의 부적합품률의 차가 있다고 할 수 없다.
- ④ F<sub>0</sub> > F<sub>0.95</sub>이므로 5%의 위험률로 기계간의 부적합품률의 차가 있다고 할 수 있다.

3. 품질특성을 3가지 형태로 구분할 때 관련 없는 것은?

- ① 망소특성                      ② 망중특성
- ③ 망대특성                      ④ 망목특성

4. L<sub>3</sub>(s<sup>7</sup>) 직교배열표를 이용하여 관심이 있는 요인효과들의 배치와 표와 같다. 실험번호 3번의 실험조건으로 맞는 것은?

실험 번호	열번호						
	1	2	3	4	5	6	7
1	0	0	0	0	0	0	0
2	0	0	0	1	1	1	1
3	0	1	1	0	0	1	1
4	0	1	1	1	1	0	0
5	1	0	1	0	1	0	1
6	1	0	1	1	0	1	0
7	1	1	0	0	1	1	0
8	1	1	0	1	0	0	1
기본 표시	a	b	ab	c	ac	bc	abc
실험 배치	A	B	A×B	C	A×C	e	D

- ① A<sub>0</sub>B<sub>0</sub>C<sub>0</sub>D<sub>1</sub>                      ② A<sub>0</sub>B<sub>1</sub>C<sub>1</sub>D<sub>0</sub>
- ③ A<sub>0</sub>B<sub>1</sub>C<sub>0</sub>D<sub>1</sub>                      ④ A<sub>1</sub>B<sub>1</sub>C<sub>0</sub>D<sub>1</sub>

5. 모수요인 A, 변량요인 B의 수준수가 각각 1, m이고 반복수가 r회인 2요인실험에서 요인 A의 평균제곱의 기댓값은?

- ①  $\sigma_e^2 + mr\sigma_A^2$                       ②  $\sigma_e^2 + l\sigma_A^2 \times B$
- ③  $\sigma_e^2 + lmr\sigma_A^2$                       ④  $\sigma_e^2 + mr\sigma_A^2 + r\sigma_A^2 \times B$

6. 다음의 1요인 분산분석표에 의하여 구한 검정통계량 F<sub>0</sub>의 값은 약 얼마인가?

요인	SS	DF
A	3.87	3
e	3.48	
계		15

- ① 4.45                              ② 5.45
- ③ 6.45                              ④ 7.45

7. 요인 A의 수준수는 5, 요인 B의 수준수는 4이며, 모든 수준 조합에서 3회씩 반복하여 실험하였다. 분산분석 결과로 교호작용은 무시할 수 있었다. 두 요인의 수준조합에서의 분산추정을 위한 유효반복수는 얼마인가? (단, 요인 A와 요인 B는 모수요인이다.)

- ① 2.5                                ② 3
- ③ 7.5                                ④ 12

8. 다음은 1 요인실험에 의해 얻어진 데이터이다. 오차의 제곱합(S<sub>e</sub>)은 약 얼마인가?

수준 I	90, 82, 70, 71, 81
수준 II	93, 94, 80, 88, 92, 80, 73
수준 III	55, 48, 62, 43, 57, 86

- ① 120                                ② 135

- ③ 1254                      ④ 1806

9. 다음의 두 선형식은 대비의 조건을 만족하고,  $c_1c_1'+c_2c_2'+\dots+c_1c_1'=0$ 이 성립될 때,  $L_1, L_2$ 는 서로 무엇을 하고 있다고 할 수 있는가?

$$L_1 = c_1T_1 + c_2T_2 + \dots + c_1T_1$$

$$L_2 = c_1'T_1 + c_2'T_2 + \dots + c_1'T_1$$

- ① 직교                      ② 종속  
③ 교각                      ④ 교호작용

10. 두 변수  $x, y$  간에 다음의 데이터가 얻어졌다. 단순 회귀식을 적용할 때, 회귀에 의하여 설명되는 제곱합  $S_R$ 을 구하면?

$x_1$	1	2	3	4	5
$y_1$	8	7	5	3	2

- ① 0.4                      ② 0.98  
③ 25.6                    ④ 26.0

11. 실험분석결과와 해석과 조치에 대한 설명으로 틀린 것은?

- ① 실험결과와 해석은 실험에서 주어진 조건 내에서만 결론을 지어야 한다.  
② 실험결과로부터 최적조건이 얻어지면 확인실험을 실시할 필요가 없다.  
③ 취급한 요인에 대한 결론은 그 요인수준의 범위 내에서만 얻어지는 결론이다.  
④ 실험결과와 해석이 끝나면 작업표준을 개정하는 등 적절한 조치를 취해야 한다.

12. 교각법에 관한 설명으로 틀린 것은?

- ① 실험횟수를 늘리지 않는다.  
② 실험전체를 몇 개의 블록으로 나누어 배치한다.  
③ 다른 환경내의 실험횟수는 적게 하도록 고안되었다.  
④ 실험으로 실험오차를 적게 할 수 있으므로 실험정도가 향상된다.

13. 요인 수가 3개(A, B, C)인 반복 있는 3요인실험에서 요인의 수준수를 각각  $l, m, n$ 이고 반복수가  $r$ 이다. A, B요인은 모수이고 C요인이 변량일 때, 평균제곱의 기댓값  $E(V_A)$ 를 구하는 식으로 맞는 것은?

- ①  $\sigma_e^2 + mn r \sigma_A^2$   
②  $\sigma_e^2 + m r \sigma_A^2 \times C + mn r \sigma_A^2$   
③  $\sigma_e^2 + r \sigma_A^2 \times B \times C + mn r \sigma_A^2$   
④  $\sigma_e^2 + r \sigma_A^2 \times B \times C + m r \sigma_A^2 \times C + mn r \sigma_A^2$

14.  $L_{27}(3^{13})$ 의 직교배열표에 있어서 배치된 요인수가 10개일 때, 오차의 자유도는?

- ① 6                      ② 8  
③ 9                      ④ 10

15. 반복이 없는 2요인실험(모수모형)의 분산분석표에서 ( )에 들어갈 식은?

요인	SS	DF	MS	E(V)
A	772	4	193.0	$\sigma_e^2 + 4\sigma_A^2$
B	587	3	195.7	( )
e	234	12	19.5	
T	1593	19		

- ①  $\sigma_e^2 + 2\sigma_B^2$                       ②  $\sigma_e^2 + 3\sigma_B^2$   
③  $\sigma_e^2 + 4\sigma_B^2$                       ④  $\sigma_e^2 + 5\sigma_B^2$

16.  $A_1$  수준에 속해 있는  $B_1$ 과  $A_2$  수준에 속해 있는  $B_1$ 은 동일한 것이 아닌 실험설계법은?

- ① 난괴법                      ② 지분실험법  
③ 교각법                      ④ 라틴방격법

17. A, B, C 3요인 라틴방격 실험에서 분산분석 후의 추정에 관한 설명 중 맞는 것은?

①  $u(A_i)$ 의  $(1-\alpha)$  신뢰구간은

$$\bar{x}_i \pm t_{1-\alpha/2}(v_e) \sqrt{\frac{V_e}{k}}$$
 이다.

② 3요인 수준조합  $A_i, B_j, C_k$ 에서의 유효반복수( $n_e$ )는

$$\frac{k^2}{3k-1}$$
 이다.

③ 분산분석표의 F 검정에서 유의한 요인에 대해서는 각 요인 수준에서 특성치의 모평균을 추정하는 것은 의미가 없다.

④ B는 유의하고 A, C는 유의하지 않을 때  $A_i, C_j$ 의 수준조합에서  $(1-\alpha)$  신뢰구간은

$$(\bar{x}_i - \bar{x} - \bar{x}_j + \bar{x}) \pm t_{1-\alpha}(v_e) \sqrt{\frac{2V_e}{n_e}}$$
 이다.

18. 일부실험(분수요인설계)에 대한 설명으로 틀린 것은?

- ① 요인의 조합 중 일부만을 실시한다.  
② 고차의 교호작용이 존재하면 용이해진다.  
③ 각 효과의 추정식이 같다면 각 요인은 별명이다.  
④ 실험의 크기를 될수록 작게 하고자 할 때 사용한다.

19. 1요인 실험의 분산분석에서 데이터의 구조모형은  $x_{ij} = \mu + a_i + e_{ij}$ 로 표시될 때,  $e_{ij}$ (오차)의 가정이 아닌 것은?

- ① 비정규성:  $e_{ij} \sim N(\mu, \sigma_e^2)$ 에 따르지 않는다.  
② 불편성: 오차  $e_{ij}$ 의 기대치는 0이고, 편의는 없다.  
③ 독립성: 임의의  $e_{ij}$ 와  $e_{ij'}(i \neq i' \text{ 또는 } j \neq j')$ 는 서로 독립이다.  
④ 등분산성: 오차  $e_{ij}$ 의 분산을  $\sigma_e^2$ 으로 어떤  $i, j$ 에 대해서도 일정하다.

20. 1차 단위가 일원배치인 단일분할법의 특징 중 틀린 것은?

- ① 2차 단위 요인이 1차 단위 요인보다 더 정도가 좋게 추정된다.  
② A, B, 두 인자 중 수준의 변경이 어려운 인자는 1차 단



- 다.
- ②  $u_0 = -4.8$ 으로  $H_0$  기각, 모부적합수가 달라졌다고 할 수 있다.
  - ③  $u_0 = -1.12$ 으로  $H_0$  채택, 모부적합수가 달라졌다고 할 수 없다.
  - ④  $u_0 = -1.0$ 으로  $H_0$  채택, 모부적합수가 달라졌다고 할 수 없다.

32. 어떤 상관표로부터 계산한 결과가  $\bar{X} = 4.855$ ,  $\bar{Y} = 63.55$ ,  $S_{xx} = 92.9095$ ,  $S_{yy} = 651.695$ 이었을 때,  $x$ 를 독립변수로 하는 회귀직선식은?
- ①  $y = 29.50 + 0.143x$
  - ②  $y = 29.50 + 7.014x$
  - ③  $y = 34.17 + 0.143x$
  - ④  $y = 34.17 + 7.014x$

33. 새로운 작업방법으로 시험제작한 화학약품의 성분 함유량의 모평균이 기준으로 설정된 값과 같은지의 여부를 검정하고자 할 때 검정통계량의 식으로 맞는 것은? (단, 모표준편차는 모른다고 가정한다.)

①  $u_0 = \frac{\bar{x} - \mu}{\sigma / \sqrt{n}}$       ②  $u_0 = \frac{x - \mu}{\sigma}$

③  $t_0 = \frac{\bar{x} - \mu}{s / \sqrt{n}}$       ④  $t_0 = \frac{\bar{x} - \mu}{\sqrt{s/n}}$

34. 오차에 관한 설명으로 틀린 것은?
- ① 측정값들의 산포의 크기가 정밀도이다.
  - ② 측정값의  $\sigma$ 값이 작을수록 측정값의 정밀도는 나빠진다.
  - ③ 측정오차는 측정계의 부정확, 측정자의 기술부족 등에서 오는 오차이다.
  - ④ 샘플링 오차는 시료를 랜덤하게 샘플링하지 못함으로써 발생하는 오차이다.
35.  $\bar{X}$ -R 관리도에서 관리계수( $C_i$ )가 1.3이었다면, 이 공정에 대한 판정으로 맞는 것은?
- ① 급간변동이 크다.
  - ② 군구분이 나쁘다.
  - ③ 공정상태를 알 수 없다.
  - ④ 대체로 관리상태로 볼 수 있다.

36. 기대치와 분산의 계산식 중 틀린 것은? (단,  $X, Y$ 는 서로 독립이다.)
- ①  $Cov(X, Y) = 0$
  - ②  $E(X, Y) = E(X) \cdot E(Y)$
  - ③  $V(X) = \sigma^2 = E(X^2) - \mu$
  - ④  $V(X \pm Y) = V(X) + V(Y)$

37. 다음 자료로서  $X$ 관리도의  $U_{CL}$ 을 구하면? (단, 합리적인 군으로 나눌 수 있는 경우이다.)(관련 규정 개정전 문제로 여기서는 기존 정답인 4번을 누르면 정답 처리됩니다. 자세한 내용은 해설을 참고하세요.)

$n = 4, \bar{x} = 5.0, \bar{R} = 1.5, A_2 = 0.73$

- ① 5.05
- ② 6.10
- ③ 6.46
- ④ 7.19

38. 검사단위의 품질표시방법으로 맞는 것은?
- ① 특성치에 의한 표시방법
  - ② 샘플링검사에 의한 표시방법
  - ③ 검사성적서에 의한 표시방법
  - ④ 엄격도검사에 의한 표시방법
39. 좋은 관리도로서 가져야 할 조건으로 가장 타당한 것은?
- ①  $\sigma$ 수준이 높은 관리도
  - ② 공정이 이상상태임을 자주 신호해주는 관리도
  - ③ 관리상한( $U_{CL}$ )과 관리하한( $L_{CL}$ )의 간격이 좁은 관리도
  - ④ 공정이 이상상태로 전환되면 이를 빨리 탐지하면서 오경보(false alarm)가 작은 관리도
40. 어떤 정규모집단으로부터  $n=9$ 의 랜덤샘플을 추출,  $\bar{X}$ 를 구하여  $H_0: \mu=58$ ,  $H_1: \mu \neq 58$ 의 가설을 1%의 유의수준으로 검정하려고 한다. 만일  $\sigma=6$ 이라면 채택역은? (단,  $u_{0.975}=1.96$ ,  $u_{0.995}=2.576$ ,  $t_{0.975}(8)=2.306$ ,  $t_{0.995}(8)=3.355$ 이다.)
- ①  $51.300 < \bar{X} < 64.700$
  - ②  $52.848 < \bar{X} < 63.152$
  - ③  $53.388 < \bar{X} < 62.612$
  - ④  $54.080 < \bar{X} < 61.920$

3과목 : 생산시스템

41. MRP 시스템의 투입자료가 아닌 것은?
- ① 자재명세서(bill of materials)
  - ② 제품설계도(product drawing)
  - ③ 재고기록파일(inventory record file)
  - ④ 대일정계획(master production schedule)
42. 포드(Ford) 시스템의 생산표준화 대상에 해당하지 않는 것은?
- ① 제품의 단순화
  - ② 부품의 표준화
  - ③ 작업자의 단순화
  - ④ 기계 및 공구의 전문화
43. 생산시스템의 운영 시 수행목표가 되는 4가지에 해당하지 않는 것은?
- ① 재고
  - ② 품질
  - ③ 원가
  - ④ 유연성
44. 다음에서 설비효율을 저해하는 7대 손실에 해당하는 것을 모두 고른다면?

- |          |               |
|----------|---------------|
| ㉠ 고장손실   | ㉡ 지구공구손실      |
| ㉢ 수율손실   | ㉣ 속도저하손실      |
| ㉤ 초기손실   | ㉥ 불량·재작업손실    |
| ㉦ 에너지 손실 | ㉧ 준비작업·조정손실   |
| ㉨ 절삭기구손실 | ㉩ 일시정지·공운전 손실 |

- ① ㉠, ㉡, ㉢, ㉣, ㉤, ㉥, ㉦
- ② ㉠, ㉡, ㉢, ㉣, ㉤, ㉥, ㉦
- ③ ㉠, ㉡, ㉢, ㉣, ㉤, ㉥, ㉦
- ④ ㉠, ㉡, ㉢, ㉣, ㉤, ㉥, ㉦

45. 구매업무의 성과를 평가하기 위한 객관적인 척도에 해당하지 않는 것은?  
 ① 예산 절감액                      ② 거래업체의 수  
 ③ 납기준수 실적                      ④ 구매물품의 품질수준
46. 불확실성하의 의사결정기법에 대한 설명으로 틀린 것은?  
 ① 기대화폐가치(EMV)기준은 낙관계수를 사용한다.  
 ② 최소성과최대화(Maximin) 기준은 비관주의적 기준이다.  
 ③ 라플라스(Laplace)기준은 동일확률기준 이라고도 한다.  
 ④ 최대후회최소화(Minimax regret)기준은 기회손실의 최대값이 최소화되는 대안을 선택한다.
47. 워크샘플링 기법을 이용하여 표준시간을 결정하기 적합한 작업유형으로 맞는 것은?  
 ① 주기가 짧고 반복적인 작업  
 ② 주기가 짧고 비반복적인 작업  
 ③ 주기가 길고 비반복적인 작업  
 ④ 작업 공정과 시간이 고정된 작업
48. JIT 시스템과 MRP 시스템을 비교 설명한 것 중 틀린 것은?  
 ① JIT 시스템은 재고를 부채로 인식하지만, MRP 시스템은 재고를 자산으로 인식한다.  
 ② JIT 시스템은 납품업자를 동반자 관계로 보지만, MRP 시스템은 이해관계에 의한다.  
 ③ JIT 시스템은에서 작업자 관리는 지시, 명령에 의하지만, MRP 시스템은 의견일치 등의 합의제에 의해 관리한다.  
 ④ JIT 시스템은 최소량의 로트 크기를 추구하지만, MRP 시스템은 생산준비비용과 재고유지비용의 균형점에서 로트의 크기를 결정한다.
49. 4가지 주문작업을 1대의 기계에서 처리하고자 한다. 최소납기일 규칙에 의해 작업순서를 결정할 경우 최대납기지연시간은 얼마가 되는가? (단, 오늘은 4월 1일 아침이다.)

작업	처리시간(일)	납기
A	5	4월 10일
B	4	4월 8일
C	6	4월 16일
D	11	4월 19일

- ① 5일                                      ② 6일  
 ③ 7일                                      ④ 8일
50. 총괄생산계획(APP) 수립에 사용되는 기법이 아닌 것은?  
 ① 도시법(Graph)                      ② 선형결정기법(LDR)  
 ③ 탐색결정기법(SDR)                      ④ 라인밸런싱기법(LOB)
51. Line 생산시스템의 균형효율(Balance Rfficirncy)에 관한 산출식으로 틀린 것은? (단, N:작업장 수, C:사이클 타임,  $\sum t_i$ :작업장별 표준시간합계, I=유휴시간)

① 균형효율=  $\frac{\sum t_i}{NC}$                       ② 불균형효율=  $1 - \frac{\sum t_i}{NC}$   
 ③ 균형효율=  $1 - \frac{I}{NC}$                       ④ 유휴시간=  $1 - (NC - \sum t_i)$

52. 길브레스(Gilbreth) 부부의 업적에 해당하지 않는 것은?  
 ① 가치분석                              ② 필름분석  
 ③ 동작분석                              ④ 서블릭기호
53. 다중활동분석표(Multiple Activity Chart)를 사용하는 경우에 해당하지 않는 것은?  
 ① 복수의 작업자가 조작업을 할 경우  
 ② 한 명의 작업자가 1대 또는 2대 이상의 기계를 조작할 경우  
 ③ 복수의 작업자가 1대 또는 2대 이상의 기계를 조작할 경우  
 ④ 사이클(cycle) 시간이 길고 비 반복적인 작업을 개인이 수행하는 경우
54. 설비보전 중 지역보전의 단점이 아닌 것은?  
 ① 실제적인 전문가를 채용하는 것이 어렵다.  
 ② 작업 의뢰에서 완성까지 시간이 많이 소요된다.  
 ③ 지역별로 보전 요원을 여분으로 배치하는 경향이 있다.  
 ④ 배치전환, 교용, 초과 근무에 대하여 인간 문제나 제약이 많다.
55. 원자재를 가공하여 제품을 생산하는 제조공장을 대상으로 수행하는 방법연구에서 작업구분이 큰 것부터 순서대로 나열한 것은?  
 ① 공정-단위작업-요소작업-동작요소  
 ② 공정-단위작업-동작요소-요소작업  
 ③ 공정-요소작업-단위작업-동작요소  
 ④ 공정-요소작업-동작요소-단위작업
56. 다품종소량생산 환경에서 수요나 공정의 변화에 대응하기 쉽도록 주로 범용설비를 이용하여 구성하는 배치형태는?  
 ① 공정별배치                              ② Line 배치  
 ③ 제품별배치                              ④ 고정위치배치
57. 간트 차트가 지니고 있는 결점이 아닌 것은?  
 ① 상황이 변동될 때 일정을 수정하기 어렵다.  
 ② 작업의 성과를 작업장별로 파악하기 어렵다.  
 ③ 문제점을 파악하여 사전에 중점관리할 수 없다.  
 ④ 프로젝트 규모가 크고 작업활동이 복잡한 경우에는 적합하지 않다.
58. 어떤 제품의 판매가격은 1000원, 생산량이 20000개이다. 이 제품의 고정비는 1200000원, 변동비는 4000000원일 때, 이 제품의 손익분기점 매출액은 얼마인가?  
 ① 1000000원                              ② 1500000원  
 ③ 2000000원                              ④ 2500000원
59. 수요예측방법 중 n기간 단순이동평균법에 대한 설명으로 틀린 것은?  
 ① 극단적인 실적값이 미치는 영향이 크다.  
 ② n은 증가시키면 변동을 잘 평할 수 있다.  
 ③ 평균치를 사용하므로 추세를 반영할 수 없다.  
 ④ 최적 n을 수리적 모형으로 결정하기 용이하다.
60. 구매전략 중 중앙(또는 집중)구매의 특징에 해당하지 않는 것은?

- ① 구매업무의 리드타임이 길어질 수 있다.
- ② 구매력 증진에 의한 경비절감이 가능하다.
- ③ 소량의 품목을 긴급 구매하는데 유리하다.
- ④ 구매업무의 전문화로 효율적 구매가 가능하다.

4과목 : 신뢰성관리

61. Y 제품에 수명시험 결과 얻은 데이터를 와이블 확률지를 사용하여 모수를 추정하였더니 형상모수  $m=1.0$ , 척도모수  $\eta=3500$ 시간, 위치모수  $r=0$ 이 되었다. 이 제품의 MTBF는 얼마인가? (단,  $\Gamma(1.5)=0.88623$ ,  $\Gamma(2)=1.00000$ ,  $\Gamma(2.5)=1.32934$ 이다.)

- ① 2205시간                      ② 3102시간
- ③ 3500시간                      ④ 4653시간

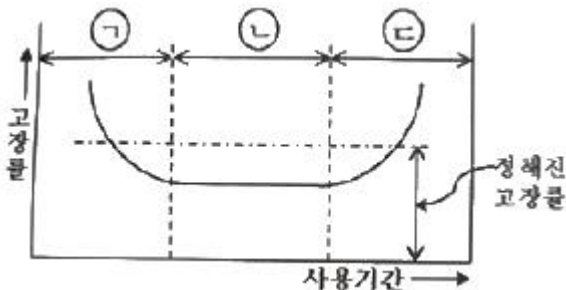
62. 개량 1회 샘플링 검사(DOD-HDBK H108)에서 샘플수와 총 시험시간이 주어지고, 총시험시간까지 시험하여 발생한 고장계수가 합격판정계수보다 적을 경우 로트를 합격하는 시험방법은?

- ① 현지시험                      ② 정수중단시험
- ③ 강제열화시험                ④ 정시중단시험

63. 신뢰도가 R인 부품 3개가 병렬결합모델로 설계되어 있을 때, 시스템 신뢰도의 표현으로 맞는 것은?

- ① 3R                              ②  $3R-3R^2+R^3$
- ③  $(1-R)^3$                       ④  $\{1-(1-R)^2\}+R$

64. 그림은 고장율의 변화를 나타내는 욕조곡선(bath-tub curve)이다. 각 고장기간을 맞게 나타낸 것은?



- ① ㉠:초기고장기간, ㉡:마모고장기간, ㉢:우발고장기간
- ② ㉠:우발고장기간, ㉡:초기고장기간, ㉢:마모고장기간
- ③ ㉠:초기고장기간, ㉡:우발고장기간, ㉢:마모고장기간
- ④ ㉠:마모고장기간, ㉡:초기고장기간, ㉢:우발고장기간

65. 제조공정에 있는 한 기계의 가동시간과 고장 수리시간을 조사하였더니 표와 같았다. 데이터로부터 이 기계의 가용도를 구하면 약 몇 %인가?

가동시간	고장수리시간
0~63	63~72
72~121	121~133
133~165	165~170
170~270	270~285
285~310	310~323
323~365	365~391
391~463	463~472

- ① 12.7                            ② 54.7

- ③ 81.1                            ④ 92.8

66. n개는 아이টে를 수명시험하여 데이터를 크기 순서대로  $t_1, \dots, t_n$ 으로 얻었다. 고장포함수  $F(t)$ 의 추정을 평균순위법으로 한다면, 이 아이টে가  $t_r(1 \leq r \leq n)$ 이상 고장이 없을 신뢰도는 얼마로 추정할 수 있는가?

- ①  $\frac{n-r}{r}$                               ②  $\frac{n+1-r}{n+1}$
- ③  $\frac{n-r}{n+1}$                             ④  $\frac{n-r+0.5}{n}$

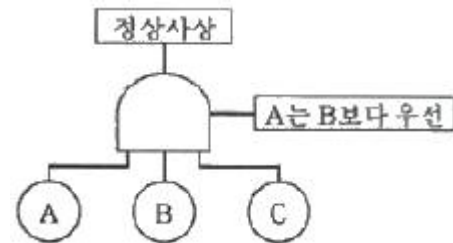
67. 수명분포가 지수분포인 부품 n개의 고장시간이 각각  $X_1, \dots, X_n$ 일 때, 고장률  $\lambda$ 에 대한 추정치λ는?

- ①  $\lambda = n / \sum_{i=1}^n X_i$                 ②  $\lambda = n / \sum_{i=1}^n \ln X_i$
- ③  $\lambda = \frac{1}{n} \sum_{i=1}^n X_i$                 ④  $\lambda = \frac{1}{n} \sum_{i=1}^n \ln X_i$

68. 와이블(Weibull) 분포에 대한 설명으로 틀린 것은?

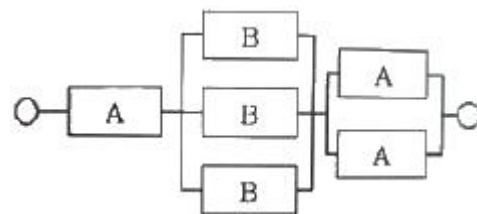
- ① 형상모수에 따라 다양한 고장특성을 갖는다.
- ② 고장률
- ③ 비기억(memoryless) 특성을 가지므로 사용이 편리하다.
- ④ 증가, 감소, 일정한 형태의 고장률을 모두 표현할 수 있다.

69. 우선적 AND 게이트가 있는 고장목(Fault Tree)에 관한 설명으로 가장 적절한 것은?



- ① 입력사상 A, B, C가 모두 발생될 때 정상사상이 발생된다.
- ② 입력사상 A, B, C가 모두 발생하고 입력사상 A가 B와 C보다 우선적으로 발생될 때 정상사상이 발생된다.
- ③ 입력사상 A, B, C가 모두 발생하고 입력사상 A가 B보다 우선적으로 발생될 때 정상사상이 발생된다.
- ④ 3개의 입력사상 A, B, C 중 2개의 입력사상 A와 B만 발생하고 A가 B보다 우선적으로 발생될 때 정상사상이 발생된다.

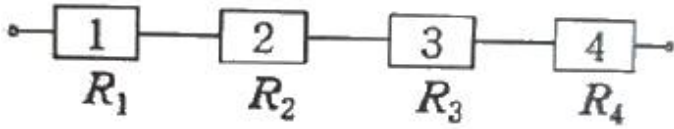
70. 그림과 같은 시스템의 신뢰도는 약 얼마인가? (단, A와 B는 신뢰도는 각각 0.9와 0.8이다.)



- ① 0.8624                            ② 0.8839

- ③ 0.9027                      ④ 0.9907

71. 그림과 같이 4개의 부품의 직렬구조로 연결되어 있는 시스템의 신뢰도는? (단, 각 부품의 신뢰도는  $R_1, R_2, R_3, R_4$ 이다.)



- ①  $R_1R_2R_3R_4$   
 ②  $1-R_1R_2R_3R_4$   
 ③  $(1-R_1)(1-R_2)(1-R_3)(1-R_4)$   
 ④  $1-(1-R_1)(1-R_2)(1-R_3)(1-R_4)$
72. 시험분석 및 시정조치(TAAF) 프로그램에 의하여 설계 및 제조상의 결함을 발견하고, 이를 시정조치함으로써 시간이 지남에 따라 신뢰성 척도가 점진적으로 향상되는 과정에 대한 시험을 무엇이라 하는가?  
 ① 신뢰성 성장시험                      ② 신뢰성 인증시험  
 ③ 생산 신뢰성 수락시험                ④ 환경 스트레스 스크리닝 시험
73. 체계 전체의 설계 목표치를 설정함과 동시에 하위 체계에 대하여 각각 신뢰성 목표치를 배분하는 신뢰성 배분의 일반적인 방침과 가장 거리가 먼 것은?  
 ① 기술적으로 복잡한 구성품에 대해서는 낮은 목표치를 배분한다.  
 ② 원리적으로 단순한 구성품에 대해서는 높은 목표치를 배분한다.  
 ③ 사용경험이 많은 구성품에 대해서는 높은 목표치를 배분한다.  
 ④ 고성능을 요구하는 구성품에 대해서는 높은 목표치를 배분한다.
74. 일반적인 FMEA 분해레벨의 배열 순서로 맞는 것은?  
 ① 서브시스템→시스템→컴포넌트→부품  
 ② 시스템→서브시스템→부품→컴포넌트  
 ③ 시스템→컴포넌트→부품→서브시스템  
 ④ 시스템→서브시스템→컴포넌트→부품
75. 어떤 재려의 강도는 평균  $40\text{kg/mm}^2$ 이고, 표준편차가  $4\text{kg/mm}^2$ 인 정규분포를 따른다. 이 재료에 걸리는 부하는 평균이  $25\text{kg/mm}^2$ 이고, 표준편차가  $3\text{kg/mm}^2$ 이다. 이때 재료가 파괴 될 확률은 약 얼마인가? (단,  $P(u > 2) = 0.02275$ ,  $P(u > 3) = 0.00135$ 이다.)  
 ① 0.00135                      ② 0.02275  
 ③ 0.99725                      ④ 0.99865
76. 온도에 의한 기속수명시험에서 고장의 가속의 모형화하는데 가장 널리 사용되는 수명-스트레스 관계식 모형은?  
 ① 피로모형                      ② 아레니우스모형  
 ③ 거듭제곱모형                ④ 마이그레이션모형
77. 기계 C의 평균고장률이 0.001/시간인 지수분포를 따를 경우, 100시간 사용하였을 때 신뢰도는 약 얼마인가?  
 ① 0.9048                      ② 0.9231  
 ③ 0.9418                      ④ 0.9512

78. Y 수리계 시스템을 총 50시간 동안(수리시간 포함) 연속 사용한 경우 5회의 고장이 발생하였고 각각의 수리시간이 0.5, 0.5, 1.0, 1.5, 1.5시간 이었다면 MTBF는 얼마인가?  
 ① 5시간                      ② 9시간  
 ③ 14시간                      ④ 40시간
79. 제품의 설계단계에서 고유신뢰성을 증대시킬 수 있는 방법은?  
 ① 공정의 자동화                      ② 품질의 통계적 관리  
 ③ 부품과 제품의 burn-in            ④ 병렬 및 대기 리던던시 활용
80. 시료 n개를 샘플링하여 미리 정해진 시험 중단 시간인  $t_0$ 시간까지 시험하고,  $t_0$ 시간이 되면 시험을 중단하는 정시중단 시험에서 평균수명을 구하는 식은? (단, 고장이 발생하여도 교체하지 않는 경우이며, r은 고장 계수이다.)

$$\text{① } \frac{rt_0}{n} \qquad \text{② } \frac{\sum_{i=1}^r t_i + (n-r)t_0}{n}$$

$$\text{③ } \frac{nt_0}{r} \qquad \text{④ } \frac{\sum_{i=1}^r t_i + (n-r)t_0}{r}$$

**5과목 : 품질경영**

81. 품질경영의 성숙과정(quality management maturity grid)을 5단계로 나누어 품질코스트 프로그램의 추진단계를 기술한 것 중 단계별 내용이 틀린 것은?  
 ① 제1단계인 수동적 관리에서는 품질관리가 전혀 실시되지 않고 있는 수준이다.  
 ② 제2단계인 품질경영 정착에서는 품질경영이 기업시스템의 필수기능이 되는 단계이다.  
 ③ 제3단계인 공정관리에서는 공정품질의 개선을 통하여 품질이 안정되어 품질경영이 점차 제도화되는 단계이다.  
 ④ 제4단계인 예방적 관리에서는 전사적인 품질경영의 필요성이 인식되고 품질경영에서 최고경영자와 구성원의 역할이 강조되는 단계이다.
82. 허즈버그(Herzberg)의 동기요인-위생요인 이론에서 동기(만족)요인에 해당하지 않는 것은?  
 ① 인정                      ② 자기실현  
 ③ 성취감                      ④ 승진, 지위
83. 기업에서 제안활동이 종업원의 참여의식을 높일 수 있는 유효한 방법임은 분명하지만 활성화되지 않는 경우가 있는데, 그 이유가 아닌 것은?  
 ① 최고경영자의 지원과 관심이 부족함  
 ② 심사지연이나 비합리적인 평가제도를 운영함  
 ③ 교육이나 홍보의 미비로 인한 종업원의 관심부족  
 ④ 종업원 개인들 간의 업무수행능력 차이와 자부심 결여
84. Y 품질 특성값의 규격은 50~60으로 규정되어 있다. 평균값이 55, 표준편차가 1인 공정의 시그마( $\sigma$ )의 수준은 어느 정도인가?  
 ① 2 시그마 수준                      ② 3 시그마 수준  
 ③ 4 시그마 수준                      ④ 5 시그마 수준



이다.)

- ① 0.003                      ② 0.484
- ③ 1.064                      ④ 2.064

100. 설계결함에 의한 제품책임 문제를 사전에 예방하기 위한 개발·설계부문의 예방활동으로 볼 수 없는 것은?

- ① 신뢰성 및 안정성에 대한 확인시험을 실시한다.
- ② 기획·조사단계에서 표적이 되는 제품의 안정성에 대해서 조사한다.
- ③ 공급물품의 지속적인 품질유지 및 향상을 위해 기술지도와 관리점검을 강화한다.
- ④ 중요 구성품에 대해서 신뢰성 예측, 고장해석 등을 제품 라이프 사이클의 입방에서 검토한다.

1	2	3	4	5	6	7	8	9	10
④	④	②	③	④	①	③	④	①	③
11	12	13	14	15	16	17	18	19	20
②	③	②	①	④	②	①	②	①	③
21	22	23	24	25	26	27	28	29	30
①	④	③	②	①	③	③	②	①	④
31	32	33	34	35	36	37	38	39	40
④	②	③	②	①	③	④	①	④	②
41	42	43	44	45	46	47	48	49	50
②	③	①	④	②	①	③	③	③	④
51	52	53	54	55	56	57	58	59	60
④	①	④	②	①	①	②	②	④	③
61	62	63	64	65	66	67	68	69	70
③	④	②	③	③	②	①	③	③	②
71	72	73	74	75	76	77	78	79	80
①	①	④	④	①	②	①	②	④	④
81	82	83	84	85	86	87	88	89	90
②	④	④	④	②	①	②	②	③	④
91	92	93	94	95	96	97	98	99	100
①	①	①	③	③	③	②	①	④	③