

1과목 : 실험계획법

1. 반복이 없는 2원 배치법에 대한 설명 중 틀린 것은? (A의 수준수는 l , B의 수준수는 m 이다.)

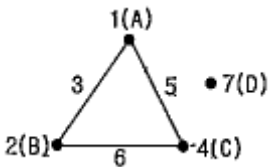
- ① 특별히 한 인자는 모수이고, 나머지 인자는 변량인 경우를 난괴법이라 한다.
- ② 분리해 낼 수 있는 변동의 종류는 $S_A, S_B, S_{A \times B}, S_e$ 가 있다.
- ③ 오차항의 자유도는 $(l-1)(m-1)$ 이다.
- ④ 모수모형의 경우 결측치가 발생하면 Yates가 제안한 방법으로 결측치를 추정하여 분석할 수 있다.

2. 동일한 제품을 생산하는 3대의 기계가 있다. 이들 간에 부적합품률에 차이가 있는가를 조사하기 위하여 적합품을 0, 부적합품을 1로 하는 계수치 데이터의 분산분석을 실시한 결과 아래와 같은 표를 얻었다. 오차항의 자유도 $?_e$ 를 구하면?

기계	A ₁	A ₂	A ₃
적합품	190	170	180
부적합품	10	30	20

- ① $?_e = 599$
- ② $?_e = 3$
- ③ $?_e = 597$
- ④ $?_e = 2$

3. 아래와 같은 $L_8(2^7)$ 형의 선점도의 1, 2, 4, 7열에 각각 4개의 인자 A, B, C, D를 배치하여 실험하였다. 설명이 틀린 것은?



- ① 제4열 - C인자의 자유도는 1이다.
- ② 제5열 - 인자 A와 인자 C의 교호작용이 나타난다.
- ③ 제6열 - B×C의 교호작용이 나타나며 자유도는 1이다.
- ④ 제7열 - D인자는 외면점으로 오차항으로 활용해야 한다.

4. 실험의 정도를 올릴 목적으로 실험의 장을 총별하기 위해서 채택한 인자로 수준의 재현성도 없고, 제어인자와의 교호작용도 의미가 없지만 실험값에는 영향을 주는 인자는?

- ① 표시인자
- ② 보조인자
- ③ 오차인자
- ④ 불럭인자

5. 모수모형에서 완전 랜덤 실험계획(completely randomized design)을 이용하여 정해진 4개의 실험조건에서 각각 5회씩 반복 실험했다. 이 측정치를 분석하기 위한 다음 내용을 읽고 가장 올바른 것을 고르면?

㉞ 수학적 모형은 $X_{ij} = \mu + a_i + e_{ij}; i = 1, 2, 3, 4, j = 1, 2, 3, 4, 5$

㉟ $\sum_{j=1}^4 a_j \neq 0$ 이 성립한다.

㊱ 분산분석을 위해서는 F-검정을 활용한다.

㊲ 분산분석에서 실험조건에 따른 유의차가 없다는 가설은 $H_0: a_1 = a_2 = a_3 = a_4 = 0$

- ① ㉞, ㉟, ㊱만 옳다.
- ② ㉞, ㉟, ㊲만 옳다.
- ③ ㉞, ㊲만 옳다.
- ④ ㉞, ㉟, ㊱, ㊲가 옳다.

6. 반 투명경의 투과율을 측정하기 위하여 측정광원의 파장(A)을 4수준 지정하고 다수의 측정자로부터 랜덤으로 4명(B)을 뽑아 반복이 없는 이원배치실험을 행하고 그 결과를 분산분석 한 결과 다음 표를 얻었다. 측정자에 의한 분산성분의 추정치 $\hat{\sigma}_B^2$ 의 값은 약 얼마인가?

요인	SS	DF	MS
A	3,690	3	1,230
B	9,430	3	3,143
e	7,698	9	0,855
T	20,818	15	

- ① 0.763
- ② 0.572
- ③ 0.507
- ④ 0.322

7. 반복수가 n 으로 동일하고 a 개의 수준을 갖는 일원배치법에서 처리제곱합(sum of square treatment)은 몇 개의 직교대비로 분해 가능한가?

- ① a 개
- ② n 개
- ③ $a-1$ 개
- ④ $n-1$ 개

8. 일차단위가 1원 배치인 단일분할법에서 A, B는 모수인자. 반복 R은 변량인자인 경우, 추정치 및 통계량을 구하는 공식이 옳지 않은 것은? (단, A, B의 수준수는 l, m 이다.)

- ① $\hat{\sigma}_R^2 = \frac{V_R - V_{e1}}{lm}$
- ② $\hat{\sigma}_{e1}^2 = \frac{V_{e2} - V_{e1}}{m}$
- ③ $\hat{\sigma}_R^2 = V_{e2}$
- ④ $F_{e1} = \frac{V_{e1}}{V_{e2}}$

9. 다음은 인자 A 4수준, 인자 B 2수준, 인자 C 2수준, 반복 2회의 지분실험법을 실시한 결과를 분산분석표로 나타낸 것이다. 설명이 옳지 않은 것은?

인자	SS	df	MS	F_0	$F_{0.95}$
A	1,893				6,59
B(A)	0,748				3,01
C(AB)	0,344				2,59
e	0,032				
T	3,017				

- ① 인자 A의 자유도는 3이다.
- ② 오차항 e의 자유도는 $(N-1)-l(mn)(r-1)=15$
- ③ 인자 B(A)의 자유도는 $?_{A \times B} + ?_B = 3 \times 1 + 1 = 4$ 이다.

④ 인자 B(A)의 분산비 검정은 인자 C(AB)의 분산으로 검정한다.

10. 다음 표는 3² 요인실험의 결과표이다. 인자 B의 변동 S_B를 구하면 약 얼마인가?

B \ A	A ₁	A ₂	A ₃
	A ₁	A ₂	A ₃
B ₁	1	-2	3
B ₂	0	4	1
B ₃	2	-1	2

- ① 1.56 ② 4.22
- ③ 23.11 ④ 28.89

11. 실험계획법에 관련된 설명 중 가장 올바른 것은?

- ① 자유도는 제곱을 한 편차의 개수에서 편차들의 선형제약 조건의 개수를 뺀 것과 같다.
- ② 자유도는 수준 i에서의 모평균 μ_i 가 전체의 모평균 μ 로부터 어느 정도의 치우침을 가지는가를 나타내는 변수이다.
- ③ 오차항에서 가정되는 4가지 특성은 정규성, 독립성, 불편성, 랜덤성이 있다.
- ④ 1원 배치법의 ANOVA에 대한 가설검정의 귀무가설은 $\sigma^2_A > 0$ 이다.

12. 교락법에서 블록반복을 행하는 경우에 각 반복마다 블록효과와 교락시키는 요인이 다른 경우를 무엇이라 하는가?

- ① 완전교락 ② 단독교락
- ③ 이중교락 ④ 부분교락

13. 교락법에서 블록과 교락시키는 것은?

- ① 주효과 ② 불필요한 고차의 교호작용
- ③ 오차 ④ 특성치

14. 반복이 있는 2원 배치법의 실험에서 다음의 분산분석표를 얻었다. 이 실험의 반복수 r은 얼마인가?

요인	SS	DF
A		3
B		2
A×B		6
e		24
T		35

- ① 2 ② 3
- ③ 4 ④ 5

15. 라틴방격법의 설명 중 틀린 것은?

- ① 서로 직교하는 라틴방격 두 개를 조합한 것을 초크레코 라틴방격이라 한다.
- ② 라틴방격법은 3인자의 실험에 쓰여지며 각 인자의 수준수가 반드시 동일해야 한다.
- ③ 라틴방격법에서는 일반적으로 인자 간의 교호작용을 검출할 수 없다.

④ 라틴방격법의 수준수를 k라 하면 총 실험회수는 k²이 된다.

16. 어떤 부품의 다수 로트에서 3로트(A₁, A₂, A₃)를 골라 각 로트에서 랜덤하게 8개씩 샘플링하여 그 치수를 측정 후 분

산분석표를 작성하였다. $\hat{\sigma}_A^2$ 을 추정하면 약 얼마인가?

요인	SS	df	MS	F ₀
A	0.206	()	()	()
e	1.534	()	()	()
T	1.740			

- ① 0.00374 ② 0.0220
- ③ 0.0515 ④ 0.073

17. 모수모형 반복 없는 3원 배치 실험을 실시하였다. 유의수준 5%로 유의한 인자는 와 A×C로 나타났다. 인자 A의 수준수 l, B의 수준수 m, C의 수준수 n일 때 다음 중 설명이 옳지 않은 것은?

① 최적해의 점추정치는 $\hat{\mu}(A_i C_k) = \bar{x}_{i.k} - \bar{x}_{.k} + \bar{x}$ 이다.

② 유효반복수 $\frac{1}{n_e} = \frac{1}{m} - \frac{1}{lm} + \frac{1}{lmn}$ 이다.

③ $E(V_A) = mn\sigma_A^2 + \sigma_e^2$ 이다.

④ A 인자에 대한 분산비의 계산은 $F_0 = \frac{V_A}{V_{A \times B}}$ 이다.

18. 독립변수가 1개인 직선회귀의 분산분석표가 아래와 같을 때 F₀의 검정 결과는? (단, F_{0.99}(v₁, v₂)=11.1, F_{0.95}(v₁, v₂)=4.60)

요인	SS	DF
회귀	3.612	v ₁
잔차	1.086	v ₂
T	4.698	15

- ① 회귀관계가 깊다고 판단된다.
- ② 회귀관계가 거의 없다고 판단된다.
- ③ 회귀관계가 전혀 없다고 할 수 있다.
- ④ 위 자료로서는 판단할 수 없다.

19. 파라미터의 설계에 의하여 최적조건을 구하였으나 품질특성치의 산포가 만족할 만한 상태가 아닌 경우에 수행되는 설계는?

- ① 시스템설계 ② 제품설계
- ③ 허용차설계 ④ 공정설계

20. 모수인자에 대한 설명으로 가장 올바른 것은?

의한 변동의 값은 얼마인가?

[데이터] $S_{(xx)} = 151.4$ $S_{(yy)} = 40.1$ $S_{(xy)} = 76.3$

- ① 0.498 ② 1.65
- ③ 10.25 ④ 38.45

34. 검사특성곡선(Operating Characteristic Curve)에 관한 설명으로 옳은 것은?

- ① 1회 샘플링검사 방식에만 적용할 수 있다.
- ② 계량형 샘플링검사에는 적용할 수 없다.
- ③ 부적합품률이 커짐에 따라 로트의 합격확률은 높아진다.
- ④ 샘플링 검사방식이 부적합품률에 해당될 경우 로트의 부적합품률과 로트의 합격확률의 관계를 나타낸 그래프이다.

35. 다음의 데이터로 np 관리도를 작성할 경우 관리한계선은 약 얼마인가?

No	1	2	3	4	5
검사개수	200	200	200	200	2
부적합품수	14	13	20	13	20

- ① 16 ± 8.51 ② 16 ± 11.51
- ③ 15 ± 1.51 ④ 15 ± 11.51

36. 모평균에 대한 추정의 95% 오차한계를 5 이하로 하기를 원할 때, 필요한 최소한 표본의 크기는? (단, 모표준편차는 30이다.)

- ① 11 ② 36
- ③ 60 ④ 139

37. 확률변수 x, y 사이의 공분산(共分散) Cov(x, y) 특성으로 옳지 않은 것은?

- ① $-\infty < Cov(x, y) < \infty$
- ② x, y의 측정단위에 따라 Cov(x, y)의 값이 변한다.
- ③ 공분산의 단위는 없다.
- ④ $Cov(x, y) = 0$ 이란 상관관계가 없음을 뜻한다.

38. 현 시점에서 거슬러 올라간 개개의 관측치 또는 군의 평균치에 대하여 과거로 거슬러 올라간 것만큼 작은 비중을 부여하여 가중평균을 계산한 관리도를 무엇이라 하는가?

- ① EWMA 관리도 ② Cusum 관리도
- ③ C 관리도 ④ σ 관리도

39. KS A ISO 8258 : 2008 슈하트 관리도의 이상원인에 대한 판정기준으로 옳지 않은 것은?

- ① 14점이 교대로 증감하는 현상이 나타날 때
- ② 중심선의 한쪽에 연속해서 5점이 나타날 때
- ③ 연속 6점이 점점 올라가는 현상이 나타날 때
- ④ 점이 관리한계선에 접근하여 연속 3점 중 2점이 나타날 때

40. 평균치의 산포는 원래의 산포와 비교하여 어떠한가?

- ① n 만큼 크다. ② \sqrt{n} 만큼 크다.
- ③ $1/\sqrt{n}$ 만큼 작다. ④ n만큼 작다.

3과목 : 생산시스템

41. 필요한 물품을 주문하여 이것이 입수될 때 구매 및 조달에 수반되어 발생하는 비용을 무엇이라 하는가?

- ① 재고부족비 ② 발주비용
- ③ 생산준비비 ④ 재고유지비

42. 운전요원이 수시로 근무 중 짧은 시간에 간단히 청소, 급유, 점검 등의 활동을 행하는 것을 무엇이라 하는가?

- ① 보전예방 ② 자주보전
- ③ 정기보전 ④ 전문보전

43. 포드시스템과 가장 관계가 깊은 것은?

- ① 이동조립법 ② 시간연구
- ③ 최적과업설정 ④ 고임금 저노무비

44. 프로젝트 K와 관련된 정보가 다음의 표와 같다. 모든 작업을 정상작업으로 수행할 경우의 주경로(Critical Path)는 유일하며 (A-B-E)라고 가정한다. 이 프로젝트의 전체 일정을 1일 단축시키기 위해서는 어떤 작업을 단축하는 것이 가장 경제적인가?

작업	정상작업		긴급작업	
	기간(일)	비용(만원)	기간(일)	비용(만원)
A	4	400	2	1,000
B	5	300	3	500
C	13	1,200	11	2,000
D	6	400	4	500
E	6	600	5	800

- ① A ② B
- ③ C ④ D

45. MRP에서 부품전개를 위해 사용되는 양식에 쓰이는 용어에 관한 설명으로 옳지 않은 것은?

- ① 계획수취량(planned Receipts)은 초기에 보충되어야 할 계획된 주문량을 말한다.
- ② 예정수취량(scheduled receipts)은 주문은 했으나 아직 도착하지 않은 주문량을 말한다.
- ③ 순소요량(net requirements)은 총수요량에서 현재고량을 뺀 후 예정수취량을 더한 것이다.
- ④ 발주계획량(planned order releases)은 필요시 수령이 가능하도록 구매주문이나 제조주문을 통해 발령하는 수량으로 계획수취량과 동일하다.

46. JIT 생산시스템의 특징으로 옳지 않은 것은?

- ① 간판시스템의 운영으로 재고수준을 감소시킨다.
- ② 작업의 표준화로 라인의 동기화(同期化)를 달성할 수 있다.
- ③ 준비교체시간을 최소화시켜 유연성의 향상을 추구한다.
- ④ 자재의 흐름은 푸시(push)방법이다.

47. 한국회사의 Y제품 가격이 1,500원, 한계이익률이 0.75일 때 생산량은 150개이다. 고정비는 얼마인가?

- ① 975원 ② 1,388원
- ③ 18,475원 ④ 168,750원

③ $\hat{\theta} = \frac{rt_0}{n}$ ④ $\hat{\theta} = \frac{\sum_{i=0}^r t_i + (n-r)t_0}{n}$

62. 고장시점에서부터 시간을 측정하여 t에서 수리가 완료될 확률밀도함수를 m(t)라 할 때, 보전도 M(t)를 정의하면?

① $\int_t^{\infty} m(t)dt$ ② $\int_0^t m(t)dt$
 ③ $\int_0^t t m(t)dt$ ④ $\int_0^{\infty} t m(t)dt$

63. 어떤 시스템의 MTBF가 500시간, MTTR이 40시간이라고 할 때 이 시스템의 가용도(Availability)는 약 얼마인가?

- ① 91.4% ② 92.6%
- ③ 97.2% ④ 98.2%

64. 다음 중 설계단계에서 고유신뢰성을 향상시키는 방법으로 가장 거리가 먼 것은?

- ① 제품의 단순화
- ② 중복 설계 방법의 활용
- ③ 고신뢰도 부품의 사용
- ④ 부품과 제품의 번인(Burn-in) 시험

65. 평균고장률이 0.001/시간인 부품과 평균고장률이 0.004/시간인 부품이 병렬결합모형으로 만들어진 장치가 있다. 이 장치의 평균수명은 얼마인가?

- ① 950시간 ② 1,050시간
- ③ 1,250시간 ④ 1,450시간

66. 어떤 재료에 가해지는 부하의 분포는 평균 1,500kg/mm², 표준편차 30kg/mm²인 정규분포를 따르고, 사용재료의 강도의 분포는 평균 1,600kg/mm², 표준편차 40kg/mm²인 정규분포를 따른다. 이 재료의 신뢰도는 약 얼마인가?

- ① 68.27% ② 95.46%
- ③ 97.72% ④ 99.73%

67. 갑자기 발생하여 사전에 또는 감시에 의해 예지할 수 없는 고장은?

- ① 마모고장 ② 오용고장
- ③ 열화고장 ④ 돌발고장

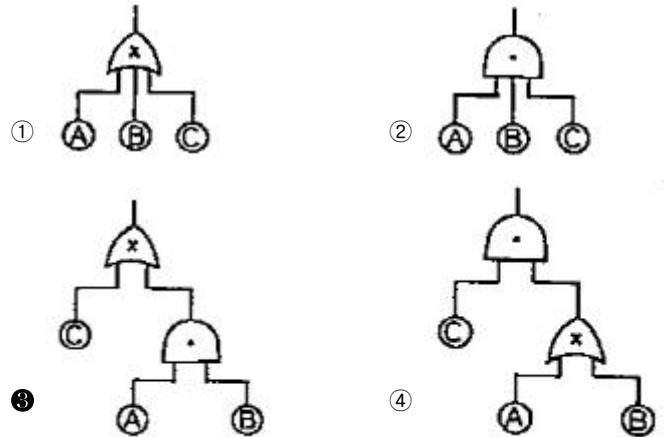
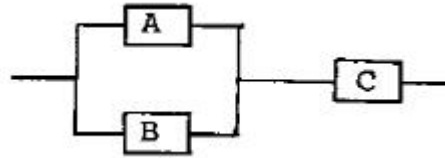
68. 기본설계 단계에서 FMEA를 실시한다면 큰 효과를 발휘할 수 있다. 다음 중 FMEA의 결과로 얻을 수 있는 항목으로 가장 거리가 먼 내용은?

- ① 임무달성에 큰 방해가 되는 고장모드 발견
- ② 인명손실, 건물파손 등 넓은 범위에 걸쳐 피해를 주는 고장모드 발견
- ③ 컴포넌트 고장이 발생하는 확률의 발견
- ④ 설계상 약점이 무엇인지 파악

69. M 제품의 평균수명이 450시간, 표준편차가 50시간인 정규분포를 따른다고 한다. 이 제품 100개를 새로 사용하기 시작했다면 지금부터 500~600시간 사이에서는 평균 몇 개가 고장나겠는가? (단, $U_{0.8413}=1.0$, $U_{0.9987}$)

- ① 16 ② 14
- ③ 12 ④ 10

70. 다음과 같은 불력도를 갖는 어떤 시스템의 FT도를 바르게 작성한 것은?



71. 컴퓨터 플로피 디스크 드라이브 10개의 샘플을 관측한 결과 500시간까지 고장이 한 개도 발생하지 않았다. 이 제품의 고장이 지수분포를 따를 때 신뢰수준 90%에서 MTBF를 추정할 값은 약 얼마인가?

- ① 3,887시간 ② 2,799시간
- ③ 2,174시간 ④ 1,875시간

72. 메디안 순위표에서 n=8, 고장순위 i=1일 때 R(t)값은 약 얼마인가?

- ① 0.872 ② 0.917
- ③ 0.945 ④ 0.95

73. 가속수명시험을 위한 아레니우스(Arrhenius) 모델에서 가장 중요한 영향을 미치는 가속인자로 사용하고 있는 것은?

- ① 전압 ② 온도
- ③ 습도 ④ 압력

74. 간섭이론의 부하강도 모델에서 부하가 평균 μ_X , 표준편차 σ_X 인 정규분포에 따르고, 강도가 평균 μ_Y , 표준편차 σ_Y 인 정규분포에 따르며, n_Y , n_X 는 μ_Y 와 μ_X 로부터의 거리를 나타낼 때 안전계수 m을 구하는 식은?

① $m = \frac{\mu_Y - n_Y \cdot \sigma_Y}{\mu_X + n_X \cdot \sigma_X}$

② $m = \frac{\mu_Y + n_Y \cdot \sigma_Y}{\mu_X - n_X \cdot \sigma_X}$

③ $m = \frac{\mu_Y + n_Y \cdot \sigma_Y}{\mu_X + n_X \cdot \sigma_X}$

④ 외부고객은 제품의 최종사용자이다. 기업에선 제품의 사용자를 정확하게 파악하여 이들의 의견을 정확하게 청취하여 대책을 세우는 것이 경쟁력을 갖추는 지름길이다.

87. 품질설계에 있어서 소비자 요구 만족도를 향상시키기 위한 2가지 제한조건으로 가장 올바른 것은?

- ① 품질보증과 코스트 ② 품질보증과 품질조사
- ③ 기술수준과 코스트 ④ 시장품질과 공정능력

88. Y품질 특성값의 규격은 50-60으로 규정되어 있다. 평균값이 55, 표준편차가 1인 공정의 시그마(σ) 수준은 어느 정도인가?

- ① 2시그마 수준 ② 3시그마 수준
- ③ 4시그마 수준 ④ 5시그마 수준

89. SI 기본단위가 옳게 짝지어진 것은?

- ① 광도-럭스(Lux) ② 시간-분(M)
- ③ 열역학적 온도-켈빈(K) ④ 질량-그램(g)

90. 다음 조건하에서 계측시스템의 산포(σ_m)는 약 얼마인가?

- 계측기의 산포(σ_1) : 0.8
- 계측자의 산포(σ_0) : 0.3
- 계측방법의 산포(σ_t) : 0.4
- 기타의 산포 : 무시

- ① 0.78 ② 0.84
- ③ 0.87 ④ 0.94

91. 공장조직의 기본형태의 공식조직에서 소규모 조직에 사용되는 원탁형 조직으로 수평적 의사소통 체계를 갖는 비교적 전문화된 조직은 무엇인가?

- ① 위원회식 조직 ② 직계식 조직
- ③ 부문 조직 ④ 기능식 조직

92. 조직을 계획하는 데 이용되는 3가지 도구 중 해당 직종의 책임, 권한, 수행업무 및 타 직무와의 관계 등을 나타낸 것은?

- ① 직무기술서 ② 관리표준서
- ③ 조직표 ④ 책임분장표

93. 서비스 품질을 정의할 수 있다고 해도 서비스 품질을 측정하기는 쉽지 않다. 그 이유에 대해 잘못 설명된 것은?

- ① 서비스 품질의 개념이 객관적이기 때문에 주관적으로 측정하기가 어렵다.
- ② 서비스 품질은 서비스의 전달이 완료되기 이전에는 검증되기가 어렵다.
- ③ 서비스 품질을 측정하려면 고객에게 직접 질의해야 하므로 시간과 비용이 많이 든다.
- ④ 서비스 품질의 측정이 어려운 점은 고객이 서비스 품질에 대한 자신의 정보를 적극적으로 제공하지 않는다는 점이다.

94. 부적합품수, 부적합수 또는 클레임 건수 등을 그 원인이나 내용별로 분류하여 데이터를 취하고, 손실금액이나 부적합품수 등이 많은 순서로 정리하여 그 크기별로 나타낸 그림은?

- ① 관리도 ② 파레토그림

- ③ 히스토그램 ④ 산점도

95. 다음 중 국가 규격이 아닌 것은?

- ① ANSI ② BS
- ③ IEC ④ NF

96. 제조물책임(PL)법에 의한 손해배상 책임을 지는 자가 면책을 받는 사유로 볼 수 없는 것은? (단, 제조물을 공급한 후에 결함 사실을 알아서 그 결함으로 인한 손해의 발생을 방지하기 위하여 적절한 조치를 취한 경우이다.)

- ① 판매를 위해 생산하였으나 일부만 유통되었음을 입증한 경우
- ② 제조업자가 당해 제조물을 공급할 당시의 과학·기술수준으로는 결함의 존재를 발견할 수 없었다는 사실을 입증한 경우
- ③ 제조물의 결함이 제조업자가 당해 제조물을 공급할 당시의 법령이 정하는 기준을 준수함으로 써 발생한 사실을 입증한 경우
- ④ 제조업자가 당해 제조물을 공급하지 않은 사실을 입증한 경우

97. 품질경영정보로서의 품질비용의 역할에 대한 설명으로 틀린 것은?

- ① 품질경영 활동의 목적을 예산으로 구체화한다.
- ② 품질 내지 품질문제의 중요도를 화폐가치로 제시한다.
- ③ 품질개선활동을 주관적으로 측정·평가한다.
- ④ 품질경영에 대한 자본적 지출을 평가한다.

98. 표준서의 서식 및 작성방법(KS 0001 : 2008)에서 “및”의 사용법을 보기로 들었다. 가장 올바르게 표현된 것은?

- ① 모양, 치수 및 무게 ② 모양 및 치수, 무게
- ③ 모양 및 치수, 등 무게 ④ 모양 및 치수 및 무게

99. 표준서의 서식 및 작성방법(KS 0001 : 2008)에서 본문, 그림, 표 등의 내용을 이해하기 위해 없어서는 안 될 것이지만, 그 안에 직접 기재하면 복잡해지는 사항을 따라 기재하는 것을 무엇이라 하는가?

- ① 주 ② 보기
- ③ 해설 ④ 비고

100. 감사의 분류가 적절하게 연결되지 않은 것은?

- ① 내부감사-조직 ② 제2자 감사-고객
- ③ 제3자 감사-인증기관 ④ 제1자 감사-모기업

1	2	3	4	5	6	7	8	9	10
②	③	④	④	②	②	③	②	②	①
11	12	13	14	15	16	17	18	19	20
①	④	②	②	①	①	④	①	③	④
21	22	23	24	25	26	27	28	29	30
③	④	③	③	②	②	①	④	④	③
31	32	33	34	35	36	37	38	39	40
②	②	④	④	②	④	③	①	②	③
41	42	43	44	45	46	47	48	49	50
②	②	①	②	③	④	④	②	③	④
51	52	53	54	55	56	57	58	59	60
①	②	④	③	④	②	②	①	①	②
61	62	63	64	65	66	67	68	69	70
②	②	②	④	②	③	④	③	①	③
71	72	73	74	75	76	77	78	79	80
③	②	②	①	②	④	②	④	②	④
81	82	83	84	85	86	87	88	89	90
④	③	④	④	③	②	①	④	③	④
91	92	93	94	95	96	97	98	99	100
①	①	①	②	③	①	③	①	④	④