

1과목 : 해양학개론

1. 해수 중 용존기체의 해양-대기간 기체교환에 관계가 가장 적은 것은?
 - ① 기체의 확산계수
 - ② 대기와 표층수의 기체분압차이
 - ③ 해수표면막의 두께
 - ④ 표층수의 이온강도(ionic strength)
2. 다음 중 표층 해류 생성의 주된 원인이 되는 것은?
 - ① 해양-대기 열수지
 - ② 바람
 - ③ 밀도구조
 - ④ 지구자전
3. 직경이 62.5 μ m이하의 퇴적물을 입도분석하는 방법은 어떤 것이 가장 적절한가?
 - ① Sieve방법
 - ② Pippette방법
 - ③ Turbidity방법
 - ④ 물리탐사법
4. 일반적인 해수 중의 무기성분 분포 함량을 표시한 것 중 가장 올바른 것은?
 - ① $Na^+ > Ca^{2+} > Mg^{2+}$, $Cl^- > HCO_3^- > SO_4^{2-}$
 - ② $Na^+ > Mg^{2+} > Ca^{2+}$, $Cl^- > SO_4^{2-} > HCO_3^-$
 - ③ $Mg^{2+} > Na^+ > Ca^{2+}$, $Cl^- > SO_4^{2-} > HCO_3^-$
 - ④ $Mg^{2+} > Ca^{2+} > Na^+$, $Cl^- > HCO_3^- > SO_4^{2-}$
5. 다음 중 방사성 핵종의 붕괴방정식으로 맞는 것은? (단, A는 시간 t경과후 방사능 농도, A₀는 초기의 방사능 농도, λ 는 붕괴상수, t는 시간 이다.)
 - ① $A = A_0 \times (-\lambda t)$
 - ② $A_0 = A \times (-\lambda t)$
 - ③ $A_0 = A e^{-\lambda t}$
 - ④ $A = A_0 e^{-\lambda t}$
6. 대양저의 열류량에 대한 일반적인 양상 중 틀린 것은?
 - ① 대서양 중앙해저 산맥에서는 높은 열류량을 나타낸다
 - ② 동태평양 해평에서는 낮은 열류량을 나타낸다.
 - ③ 해구에서는 낮은 열류량을 나타낸다.
 - ④ 해저산맥의 측면을 따라 열류량이 작은 지역이 띠를 이룬다.
7. 다음 중 반원양성(Hemi-pelagic) 퇴적환경인 곳은?
 - ① 대양저
 - ② 대륙붕
 - ③ 대양대지
 - ④ 해구
8. 하와이 동남부에 위치한 망간단괴가 풍부한 C-C Zone은 지질 구조상 다음 중 어느 것에 해당하는가?
 - ① 단열대
 - ② 대양저 산맥
 - ③ 해구
 - ④ 대륙대
9. 대서양형 대륙주변부의 해저지형으로서 가장 수가 많고 많이 발달한 것은?
 - ① 대륙붕 수로
 - ② 삼각주 전면계곡
 - ③ 해저협곡
 - ④ 심해저 수로
10. 한반도 주변에 가장 흔한 점토광물은?
 - ① kaolinite
 - ② chlorite
 - ③ illite
 - ④ smectite

11. 연체동물이나 절족동물(arthropod)에 고농도로 함유되어 있는 원소는?
 - ① 비소
 - ② 철
 - ③ 알루미늄
 - ④ 칼슘
12. 해수 중의 음파의 전파 속도는?
 - ① 수온이 높을수록 빠르고, 수압이 클수록 빠르다.
 - ② 수온이 높을수록 느리고, 수압이 클수록 빠르다.
 - ③ 수온이 높을수록 빠르고, 수압이 클수록 느리다.
 - ④ 수온이 높을수록 느리고, 수압이 클수록 느리다.
13. 성층해수(stratified ocean)에서 해류속도가 수심에 따라 감소할 경우 밀도 경계면의 경사는 해면 경사와 비교하여 그 경사방향과 경사크기는?
 - ① 같은 방향으로 같다.
 - ② 같은 방향으로 더 크다.
 - ③ 반대 방향으로 같다.
 - ④ 반대 방향으로 더 크다.
14. 취송류에서 해면의 유향과 정반대의 유향이 되고 해면 유속의 약 4% 정도의 유속으로 감소되는 심도는?
 - ① 역학심도
 - ② 마찰심도
 - ③ 무류면
 - ④ 보상심도
15. 수준면(Level Surface)이란?
 - ① 중력포텐셜(potential)이 모든 곳에서 같은 면이다.
 - ② 수온이 모든 곳에서 같은 면이다.
 - ③ 염분이 모든 곳에서 같은 면이다.
 - ④ 수온 및 염분이 모든 곳에서 같은 면이다.
16. 지구상에 일어나는 조석(潮汐) 중, 다음 어느 경우가 최소 조차를 보이는가?
 - ① 달과 태양의 위치가 지구에 대해 서로 반대방향으로 일직선상에 있을 때
 - ② 달과 태양의 위치가 지구에 대해 직각을 이룰때
 - ③ 달과 태양의 위치가 지구에 대해 같은 방향으로 일직선상에 있을 때
 - ④ 달과 태양의 위치가 지구에 대해 45° 각도를 이룰 때
17. 대마난류와 무관한 것은?
 - ① 쿠로시오의 한 지류다.
 - ② 한반도 남동해안과 일본서안을 따라 북상한다.
 - ③ 수온이 높은 해수를 동해에 유입시킨다.
 - ④ 염분도가 낮은 해수를 동해에 유입시킨다.
18. 북반구에 존재하는 동안류와 서안류를 비교 기술한 것 중 사실과 다른것은?
 - ① 동안류는 폭이 넓고 서안류는 폭이 좁다.
 - ② 해류층의 두께가 동안류는 얇고 서안류는 두껍다.
 - ③ 동안류는 편서풍대에서 흘러오며, 저온, 저염분이고 서안류는 무역풍대에서 흘러오며 고온, 고염분이다.
 - ④ 연안류와의 경계가 모두 분명하다.
19. 지형류(Geostrophic currents)에서 균형을 이루는 힘이 아닌 것은?

- ① 중력 ② 마찰력
- ③ 압력경도력 ④ 코리올리 힘

20. 해양의 표면염분 분포에 가장 큰 영향을 주는 것은?

- ① 증발-강수량의 차 ② 바람분포
- ③ 수온분포 ④ 심층해류

2과목 : 해양수리학

21. 해빈에 관한 다음 설명중 옳지 못한 것은?

- ① 해안선으로 부터 외해쪽의 모래 또는 자갈부분을 해빈이라 한다.
- ② 해수면과 해빈과의 경계선을 정선(汀線)이라고 한다.
- ③ 해빈의 퇴적시 외빈과 원빈의 경계 부근에 작은 사구가 형성된다.
- ④ 해빈은 원빈, 외빈, 전빈, 후빈 등으로 대별된다.

22. 조석현상중 대조와 소조에 대한 설명으로 옳은 것은?

- ① 평균태양일과 평균태음일의 길이가 다르기 때문에 발생한다.
- ② 대조란 하루중 해면의 높이가 가장 높을때를 말한다.
- ③ 대조시에는 일조부등이 가장 커진다.
- ④ 달이 지구에 가까울때 대조, 가장 먼곳에 있을때 소조가 발생한다.

23. 속도V와 시간T에 관한 Froude 모형법칙은 다음중 어느 것인가? (L : 길이)

- ① $T_r = \sqrt{L_r}, V_r = \sqrt{L_r}$
- ② $T_r = L_r, V_r = \sqrt{L_r}$
- ③ $T_r = L_r, V_r = L_r$
- ④ $T_r = \sqrt{L_r}, V_r = L_r$

24. 수리학에서 모형법칙으로 가장 많이 이용되는 상사법칙은 다음 중 어느 것인가?

- ① Froude, Reynolds의 상사법칙
- ② Weber의 상사법칙
- ③ Cauchy의 상사법칙
- ④ Weber, Cauchy의 상사법칙

25. 속도포텐셜을 갖는 흐름에 대한 다음의 기술 중 옳은 것은?

- ① 흐름이 비회전성이다.
- ② 흐름이 회전성이다.
- ③ 속도포텐셜과 흐름의 회전성 여부는 관련이 없다.
- ④ 흐름의 회전성 여부는 속도포텐셜외에 다른 조건이 있어야 판별된다.

26. 하구에서 장기적으로 오염물질의 확산과 가장 밀접한 관계가 있는 사항은?

- ① 항류에 의한 순환 ② 밀물
- ③ 썰물 ④ 파랑

27. 달과 지구의 운동에 있어서 신월(New moon)과 만월(Full

moon)일때 일어나는 현상을 옳게 기술한 것은?

- ① 기조력은 최소가 되며 최소의 조차를 나타낸다.
- ② 기조력은 최소가 되며 최대의 조차를 나타낸다.
- ③ 기조력은 최대가 되며 최소의 조차를 나타낸다.
- ④ 기조력은 최대가 되며 최대의 조차를 나타낸다.

28. 항만 구조물의 설계시 표사에 대한 대책을 틀리게 서술한 것은?

- ① 방파제는 표사의 이동이 없는 수심까지 연장하는 것이 좋다.
- ② 항만 구조물의 설계시 표사이동은 큰 문제가 되지 않는다.
- ③ 표사의 원인, 특성을 사전에 조사 연구하고, 그 특성에 맞는 구조물을 설계한다.
- ④ 항구는 될 수 있는대로 표사의 영향이 없는 위치에 설치한다.

29. 연안의 수리현상에서 해면운동을 주기에 의해서 분류할 수 있다. 다음 중에서 주기의 크기순으로 옳게 나타낸 것은?

- ① 기상조 < 표면장력파 < 너울 < 장주기파
- ② 표면장력파 < 너울 < 장주기파 < 기상조
- ③ 너울 < 장주기파 < 기상조 < 표면장력파
- ④ 장주기파 < 기상조 < 표면장력파 < 너울

30. 담수중에서 유속 V=0.5m/sec, 투영단면적 A=0.6m³인 물체가 놓여져 있을때 항력을 측정하 결과 D=93.75kg이었다. 이 물체의 항력계수는 얼마인가?

- ① 1.00 ② 1.25
- ③ 1.75 ④ 2.50

31. 다음 모래의 이동 한계수심이 가장 깊은 것 부터 얕은 순서로 나열된 것은?

- ① 초기이동한계수심, 포층이동한계수심, 전면이동한계수심, 완전히동한계수심
- ② 완전히동한계수심, 포층이동한계수심, 전면이동한계수심, 초기이동한계수심
- ③ 초기이동한계수심, 전면이동한계수심, 포층이동한계수심, 완전히동한계수심
- ④ 완전히동한계수심, 전면이동한계수심, 포층이동한계수심, 초기이동한계수심

32. 파랑의 발생은 보통바람에 의한 에너지의 전달로 설명되고 있다. 아래에 열거한 에너지전달 기구중 가장 큰 양을 차지하는 것은?

- ① 표면장력 ② 전단력
- ③ 탄성력 ④ 수직압력

33. 오리피스를 지나는 유체의 흐름을 수리모형실험으로 재현할 경우 가장 중요한 상사법칙은?

- ① Froude 상사법칙 ② Reynolds 상사법칙
- ③ Weber 상사법칙 ④ Cauchy 상사법칙

34. 미소진폭파의 파형을 cosine파로 나타낸 경우 물입자의 수평방향 가속도가 최대인 경우는? (단, θ 는 위상각이고 파의 진행방향을 + 로 한다.)

- ① $\theta = 0$ ② $\theta = \pi/3$
- ③ $\theta = \pi/2$ ④ $\theta = \pi$

35. 흐름이 부유사를 많이 포함하게 되면 다음과 같은 부유사류의 특징을 나타내게 되는데 맞지 않는 것은?

- ① 마찰저항이 감소한다.
- ② 속도경사 du/dy 가 감소하여 유속이 감소한다.
- ③ 수류의 Karman정수가 0.4보다 작게 된다.
- ④ 미세한 부유사 입자의 경우 수온의 하강은 부유사량을 증가 시킨다.

36. 직경이 작은 원주형 직립파일의 파랑에 의한 진동 현상을 설명하는 것중 틀린 것은?

- ① 진동의 진폭이 증가하면 항력 및 양력이 증가 한다.
- ② 진동의 진폭이 증가하면 항력은 증가하나 양력은 감소한다.
- ③ Strouhal 주기 근처에서 파일 배면에 큰 와류가 발생한다.
- ④ 자유 진동주기에서 와류에 의한 진동이 커진다.

37. 조석에 대한 다음 기술 중 옳지 않은 것은?

- ① 조석은 지표면의 위치에 대한 달과 태양의 위치변화에서 기인하는 중력차에 의해 유발된다.
- ② 조석현상을 설명하는 대표적인 이론으로는 평형조석론과 동력학적 조석론이 있다.
- ③ 대조가 보름이나 그믐에 발생한다는 사실은 평형조석론으로 설명할 수 있다.
- ④ 만조발생시각은 하루에 약 50분 빨라진다.

38. 파고 2m, 파장 80m, 주기 10sec의 sin파를 나타내는 진행파의 식을 옳게 나타낸 것은?

- ① $\xi = 0.5 \sin 2\pi \left(\frac{x}{80} - \frac{t}{10} \right)$
- ② $\xi = 1.0 \sin 2\pi \left(\frac{x}{80} - \frac{t}{10} \right)$
- ③ $\xi = 1.5 \sin 2\pi \left(\frac{x}{80} - \frac{t}{10} \right)$
- ④ $\xi = 2.0 \sin 2\pi \left(\frac{x}{80} - \frac{t}{10} \right)$

39. 쇄파고가 5m일때 물입자의 최대속도는?

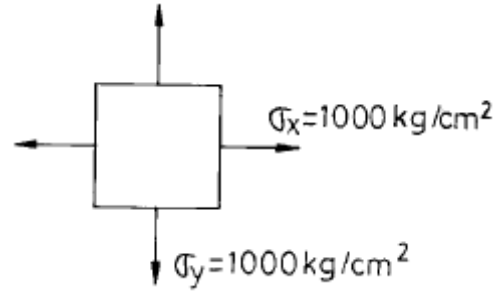
- ① 2.4 m/sec ② 3.5 m/sec
- ③ 4.9 m/sec ④ 7.0 m/sec

40. 미소진폭파 이론의 가정이 옳바른 것은?

- ① 비압축성, 비점성유체 ② 압축성, 비점성유체
- ③ 회전류 ④ 압축성, 점성유체

3과목 : 해양구조공학

41. 다음과 같은 평면응력 상태에서 발생할 수 있는 최대 전단응력의 크기는?



- ① 0 kg/cm² ② 707 kg/cm²
- ③ 1000 kg/cm² ④ 1414 kg/cm²

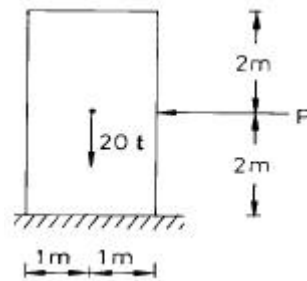
42. 사하중(dead load)작용하에서 모든 사재가 인장력을 받도록 구성된 트러스의 형태는?

- ① 핑크 트러스(Fink turss)
- ② 하우 트러스(Howe truss)
- ③ 프랫트 트러스(Pratt truss)
- ④ 와렌 트러스(Warren truss)

43. 주응력과 최대 전단응력의 설명 중 잘못된 것은?

- ① 주응력면과 최대전단응력면을 45°의 차이가 있다.
- ② 최대전단 응력면에서 수직응력은 생기지 않는다.
- ③ 최대전단 응력면은 서로 직교한다.
- ④ 주응력면은 서로 직교한다.

44. 다음의 물체를 넘어뜨리는데 필요한 최소의 힘 P의 크기는? (단, 물체는 미끄러지지 않는다고 가정한다.)



- ① 10 t ② 20 t
- ③ 30 t ④ 40 t

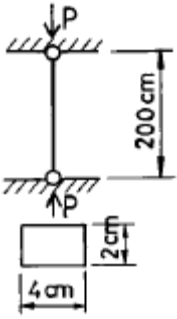
45. 파고 2m, 주기 12초, 수심 150m, 파장 224m인 해역에서 단위 폭당 파의 에너지 전달량은?

- ① 0.520 ton/sec ② 4.867 ton/sec
- ③ 9.358 ton/sec ④ 17.720 ton/sec

46. 다음 중 재화중량(財貨重量)을 옳게 설명한 것은?

- ① 선박의 크기를 나타내는 용어로 tonnage 이다.
- ② 화물 용적을 재는 단위로 100ft³당 1ton 이다.
- ③ 배에 의해 배수되는 물의 양으로 displacement 이다.
- ④ 선박에 의해 운송되는 화물로 dead weight 이다.

47. 다음 그림과 같이 양단 힌지인 장주에 압축력이 작용되어 탄성좌굴이 발생할 때, 이 단면의 좌굴응력은? (단, $E = 2 \times 10^6 \text{kg/cm}^2$)



- ① 2624 kg/cm² ② 1312 kg/cm²
- ③ 656 kg/cm² ④ 164 kg/cm²

48. 경사식 해양구조물에 있어서 방파제의 안정성을 좌우하는 사석이나 블록의 가장 큰 요소들은?

- ① 크기, 경사(비탈) ② 형태, 비탈경사
- ③ 크기, 강도 ④ 형태, 강도

49. 불규칙 해양파의 파고 분포 및 주기의 제곱 분포를 Rayleigh 분포로 가정할 때, 각 통계 파고간의 관계를 옳게 표시한 것은?

- ① $H_{1/10} \approx 2.03H_{1/3} \approx 1.27\bar{H}$
- ② $H_{1/10} \approx 2.03H_{1/3} \approx 1.60\bar{H}$
- ③ $H_{1/10} \approx 1.27H_{1/3} \approx 2.03\bar{H}$
- ④ $H_{1/10} \approx 1.60H_{1/3} \approx 2.03\bar{H}$

50. 탄성곡선의 미분방정식이 옳게 표시된 것은? (M = 모멘트, I = 단면 2차 모멘트, E = 탄성계수)

- ① $\frac{d^2y}{dx^2} = \frac{MI}{E}$ ② $\frac{d^2y}{dx^2} = -\frac{E}{MI}$
- ③ $\frac{d^2y}{dx^2} = \frac{MI}{I}$ ④ $\frac{d^2y}{dx^2} = -\frac{M}{EI}$

51. 사각형 단면의 보에서 전단응력의 변화를 바르게 표현한 것은?

- ① 일정 ② 경사직선
- ③ 2차포물선 ④ 3차곡선

52. 부두의 평면 형식 중 조차가 큰 항에서 적합한 형식은?

- ① 돌제식 ② 박거식
- ③ 섬식 ④ 평행식

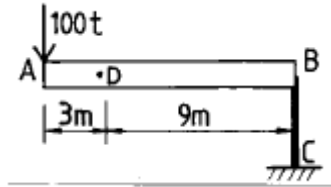
53. 해양구조물의 고유 진동수를 증가시키려고 할 때 다음 중 옳은 것은?

- ① 구조물의 감쇠계수를 증가시킨다.
- ② 구조물의 질량을 증가시킨다.
- ③ 구조물의 강도(強度)를 증가시킨다.
- ④ 구조물의 강성도(剛性度)를 증가시킨다.

54. 쇄파대에 설치된 연직 방파제에 작용하는 파압은? (단, 파고는 2m, 수심 3m, 천단고 2.5m, 해수비중 1.03이다.)

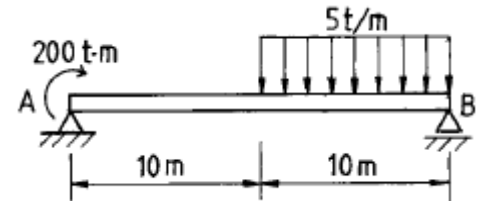
- ① 7.7t ② 11.3t
- ③ 17.0t ④ 22.5t

55. 그림과 같이 강체인 AB부재가 D점을 중심으로 회전이 가능할 때 A단에 100t의 하중이 작용한다. 이 때 BC 강선에 작용하는 응력의 크기는? (단, BC 강선의 단면적은 6cm²이다.)



- ① 1.3 t/cm² ② 2.6 t/cm²
- ③ 4.5 t/cm² ④ 5.6 t/cm²

56. 그림과 같은 구조물에서 A점에서의 수직반력의 크기는?



- ① 2.5 t ② 5.0 t
- ③ 7.5 t ④ 10.0 t

57. 다음 중 돌핀 구조상으로 적합치 않은 것은?

- ① 케이슨 ② 우물통, 널말뚝
- ③ 스프링 구조 ④ 혼성제 구조

58. 다음은 정정트러스의 부재력의 영향선에 관한 설명이다. 옳지 않은 것은?

- ① 격점과 이웃하는 격점 사이에서는 직선으로 나타난다.
- ② 어떤 부재에 대해서는 영향선도의 값이 + 또는 - 만으로 구성된다.
- ③ 어떤 부재에 대해서는 영향선도의 값이 0 이 되는 구간이 있다.
- ④ 영향선의 값은 -1과 1사이의 값을 취한다.

59. 수심 d, 파장 L 이라면 d/L는 파의 유체입자 운동형태를 결정한다. 유한 수심의 범위는?

- ① $\frac{d}{L} < 0.5$ ② $\frac{d}{L} > 0.5$
- ③ $\frac{d}{L} < 2.0$ ④ $\frac{d}{L} > 2.0$

60. 수평면상에서 보았을 때 해안에 수직하게 설치되는 구조물은?

- ① 부두(wharf) ② 잔교(pier)
- ③ 돌핀(dolphin) ④ 안벽(quay wall)

4과목 : 측량학

61. 가공선 및 교량의 높이를 측량하는 기준면은?
 ① 약최고 고조면 ② 기본 수준면
 ③ 평균해면 ④ 약최저 저조면
62. 수중 초음파의 지향성에 관한 다음 설명 중 가장 적절하지 않은 것은?
 ① 지향성은 진동면의 크기와 파장의 비로 정해진다.
 ② 진동면의 크기가 일정할 때 파장이 짧을수록 지향성이 커진다.
 ③ 제1영각 외측의 축력 극대값이 큰 송수파기가 음향측심기로 적합하다.
 ④ 실효지향각은 반감지향각과 거의 같다.
63. 음파탐사법 중 음향측심과 마찬가지로 소수의 음원과 수파기만으로 대상지역 수면을 향해하면서 반사파를 연속적으로 기록해 나가는 방식은?
 ① 재래식 반사법 ② 연속식 반사법
 ③ 회전식 반사법 ④ 측사식 반사법
64. 내부 표정의 설명 중 틀린 것은?
 ① 주점의 위치를 결정한다.
 ② 화면거리를 결정한다.
 ③ 건관의 신축을 관측한다.
 ④ 표고 및 경사를 결정한다.
65. 수심을 D, v는 해중의 음속도, t가 왕복시간일때의 수심으로 올바른 것은?
 ① $D=vt$ ② $D=2vt$
 ③ $D = \frac{1}{2} vt$ ④ $D = \frac{1}{4} vt^2$
66. 수심측량 기준면에서 고려할 사항이 아닌 것은?
 ① 가능하면 해도 기준면과 일치시킨다.
 ② 해도 기준면 결정에 시간이 걸리면 임시로 수심측량
 ③ 해도 기준면은 정상적인 기하상에는 해도수심만으로 안 전향해할 수 있도록 연중 그 이하로 수위가 거의 내려가지 않는 면이어야 한다.
 ④ 수심측량 기준면은 육상 수준망과는 별도로 구성된다.
67. 다음 중 전파 위치측량의 관측사항이 아닌 것은?
 ① 무선국간의 표고차 ② 무선국간의 거리차
 ③ 무선국간의 거리 ④ 무선국간의 방위
68. 다음 설명은 어떠한 보조점 관측법에 대한 설명인가?
 위치가 결정된 다수의 원점에서 미지점인 보조점의 방향을 관측하고 그 방향선의 교회법에 의하여 보조점 위치를 결정하는 방법
 ① 전방 교회법 ② 후방 교회법
 ③ 측방 교회법 ④ 직선 일각법
69. 다각측량 중 교각법의 설명이 아닌 것은?

- ① 관측오차는 각의 대.소에 따라 배분한다.
 ② 소요 정밀도에 따라 방향 및 반복법으로 측각 할 수 있다.
 ③ 측정마다 독립해서 측각할 수 있다.
 ④ 측각이 잘못 되었을 경우 다른각에 관계없이 다시 측각할 수 있다.
70. 해안선을 결정하는데 사용되는 방법이 아닌 것은?
 ① 삼각측량 ② 다각측량
 ③ 수위관측 ④ 초음파
71. 다음 중 정오차에 속한 것은?
 ① 기온의 변화로 기계의 수축, 팽창에 의한 오차
 ② 바람에 의한 기계의 진동으로 생기는 오차
 ③ 삼각의 부동침하에 의한 오차
 ④ 관측도중 기계의 조정이 불량할때 오차
72. 항공사진에서 수직사진이란 경사각이 몇 도 이내인 것을 말하는가?
 ① 4.5° ② 8°
 ③ 9° ④ 10°
73. 다음 중 항공사진의 특수 3점이 아닌 것은?
 ① 보조점 ② 주점
 ③ 연직점 ④ 등각점
74. 해저가 모래인 경우 등심선이 1m일 때 측심선의 간격은 어느 것인가?
 ① 10m ② 50m
 ③ 80m ④ 100m
75. 원격탐측에 대한 설명으로 옳지 않은 것은?
 ① 탐사된 자료가 즉시 이용될 수 있으며 재해 및 환경문제 해결에 편리하다.
 ② 관측이 좁은 시야각으로 실시되므로 얻어진 영상은 정사투영상에 가깝다.
 ③ 짧은시간내에 넓은 지역을 동시에 측정할 수 있으며 반복측정이 어렵다.
 ④ 원격측정은 회전주기가 일정하므로 원하는 지점 및 시기에 관측하기가 곤란하다.
76. 해수중에서 음파를 수직으로 방사하여 해저에 도달 후 반사되어 3.2초 후에 도달하였을 때 이 지점의 수심은? (단, 해중 음파속도는 1500m/sec이다.)
 ① 2,100m ② 2,200m
 ③ 2,300m ④ 2,400m
77. 다음 설명 중 옳지 않은 것은?
 ① 수심측량은 수심을 체계적인 방법으로 관측하여 해저지형 기록을 알아내기위한 측량이다.
 ② 오늘날 거의 대부분의 수심측량은 음향측심(echo sounding)에 의해 이루어진다.
 ③ 수심이 깊고, 수질이 불투명한 해역에서는 항공사진 또는 수중사진을 이용한다.
 ④ 레이저에 의한 방법은 초음파보다 분해능이 높다.
78. 다음 중 GPS의 구성이 아닌 것은?

- ① 우주부분 ② 관제부분
- ③ 이용자부분 ④ 계산부분

79. 다음 중 일반적으로 수심 약 200m 까지의 저질에 주로 포함되는 것이 아닌 것은?

- ① 점토 ② 모래
- ③ 자갈 ④ 규조연니

80. 해도 중 바다의 기본도는 3종류의 축척을 가진다. 다음 중 관계없는 축척은 어느 것인가?

- ① 1 : 200,000 ② 1 : 50,000
- ③ 1 : 100,000 ④ 1 : 10,000

5과목 : 재료공학

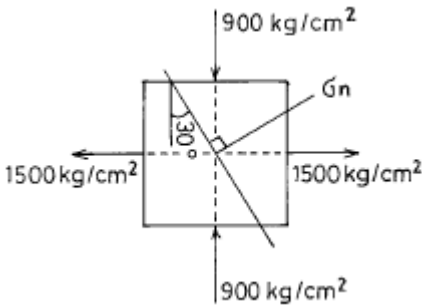
81. 해양 철근 콘크리트 구조물의 경우에 콘크리트를 배합설계할 때 내구성으로 부터 물·시멘트비(W/C)를 결정하는 경우 얼마를 표준으로 하는가? (단, 조석간만의 작용을 받거나 해수로 씻기워지기 쉽고 동결 용해가 자주반복되는 지역에 위치하는, 두께 20cm이하의 얇은 구조물이다.)

- ① 45% 이하 ② 45% 이상
- ③ 55% 이하 ④ 55% 이상

82. 지름 10cm, 길이 20cm인 시편에 30 ton의 압축력이 작용하면 이 시편은 얼마나 줄어드는가? (단, 시편의 탄성계수 $E=2.1 \times 10^6 \text{kg/cm}^2$ 이다.)

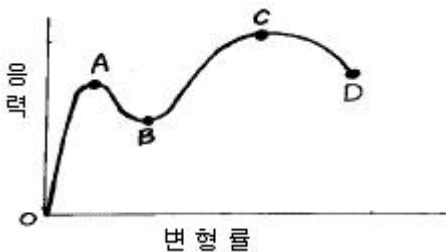
- ① 0.0465 mm ② 0.0364 mm
- ③ 0.0314 mm ④ 0.0182 mm

83. 다음 그림과 같은 단면재료에 $1,500\text{kg/cm}^2$ 의 인장응력과 900kg/cm^2 의 압축응력이 서로 직각으로 작용할 때 인장응력이 작용하는 면과 30° 의 각도를 이루는 경사면에 연직항응력 σ_n 을 구하면 몇 kg/cm^2 이 되는가?



- ① $\sigma_n=700\text{kg/cm}^2$ ② $\sigma_n=600\text{kg/cm}^2$
- ③ $\sigma_n=900\text{kg/cm}^2$ ④ $\sigma_n=1,200\text{kg/cm}^2$

84. 다음 곡선은 연강의 인장시험으로 얻은 응력-변형 곡선이다. C점의 재료의 강도를 무엇이라고 하는가?



- ① 파단강도 ② 항복강도
- ③ 인장강도 ④ 압축강도

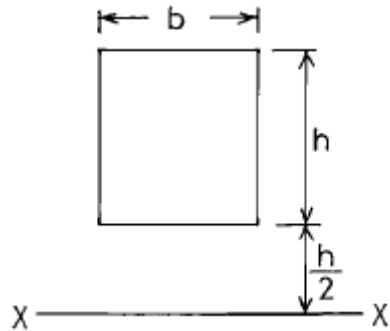
85. 콘크리트의 탄성계수를 결정하는 가장 밀접한 요인은?

- ① 단위 시멘트량 ② 물·시멘트비(W/C)
- ③ 잔골재율(S/a) ④ 콘크리트 28일 압축강도

86. 응력 상태가 반복되는 경우 정적하중 하에서의 최후 강도보다 낮은 응력에서 그 재료가 파괴가 일어난다. 이러한 파괴를 무엇이라 하는가?

- ① 연성파괴 ② 취성파괴
- ③ 피로파괴 ④ 전단파괴

87. 그림과 같은 직4각형 단면에서 x-x축에 대한 단면 2차 모멘트는 어떻게 표현할 수 있는가?



- ① $(13/12)bh^3$ ② $bh^3/3$
- ③ $(15/12)bh^3$ ④ $(7/12)bh^3$

88. 다음 중에서 해양콘크리트 구조물에 사용되는 재료가 필요로 하는 가장 중요한 성질은?

- ① 내화성 ② 강도(압축, 인장, 전단등)
- ③ 시공성 ④ 내구성

89. 다음 금속재료에 대한 설명 중 옳지 않은 것은?

- ① 열과 전기의 전도율이 비교적 작으며 독특한 광택을 가진다.
- ② 비중이 크며 다른 금속과 용해되어 합금되는 성질을 가진다.
- ③ 금속재료란 금속과 합금 등을 말하며 대부분 상온에서 고체의 결정을 가진다.
- ④ 일반적으로 강도, 탄성계수, 인성, 연성 등이 크며 가공하기 쉽다.

90. 콘크리트를 반죽할 때 사용하는 물에 대한 다음 설명 중 틀린 것은?

- ① 물은 특별한 맛, 냄새, 빛깔, 탁도 등이 없는 깨끗한 것이어야 한다.
- ② 물은 기름, 산, 유기물 등의 유해량을 함유해서는 안된다.
- ③ 해수를 사용하면 응결과 초기강도가 약간 많아지나 장기적으로는 오히려 작아진다.
- ④ 해상에서 콘크리트를 시공할 경우 해수를 사용해도 철근 및 PS 콘크리트 등에서는 관계없다.

91. 탄성계수 E, 포와송비 v 및 전단 탄성계수 G의 관계식을 올바르게 나타낸 것은?

- ① $E=G(1+v)$ ② $E=G(1+2v)$
- ③ $E=2G(1+v)$ ④ $E=2G(1+2v)$

92. 다음 중 해양구조물의 피로강도에 미치는 영향인자가 아닌 것은?
 ① Notch의 효과 ② 치수의 효과
 ③ 부식 및 온도의 효과 ④ 경화효과
93. 콘크리트속에 묻힌 철근의 부식을 방지하는 방법 중 가장 옳은 것은?
 ① 염화칼슘을 혼화제로 사용한다.
 ② 다공질의 자갈 또는 부순돌을 많이 사용한다.
 ③ 적당한 두께의 콘크리트 피부두께를 한다.
 ④ 된 반죽 콘크리트를 사용한다.
94. 재료에 지속하중이 장시간에 걸쳐 작용할 때 시간의 경과와 함께 변형이 증가하는 현상을 무엇이라 하는가?
 ① 크리프 ② 항복
 ③ 피로 ④ 탄성
95. 각종 금속의 부식을 방지하기 위해 페인트로 도포할 때의 필요한 성질을 설명한 것 중 잘못된 것은?
 ① 습기나 공기를 통과시키면 안된다.
 ② 내구성이 커야 한다.
 ③ 탄력성이 없어야 한다.
 ④ 마찰이나 충격에 대한 저항성을 가져야 한다.
96. 해수의 작용을 받는 콘크리트의 내구성에 관한 설명 중 잘못된 것은?
 ① 해수의 화학적 침식에 저항하려면 중용열 시멘트나 혼합 시멘트를 사용하거나 수밀성이 큰 AE 콘크리트로 만들면 좋다.
 ② 해수 중의 콘크리트는 동결, 용해의 영향을 받고 파랑 등에 의해 파괴되므로 경량 콘크리트로 만들면 좋다.
 ③ 해수 중의 콘크리트는 강도가 크고 치밀해야하며 철근 콘크리트에서는 철근을 충분히 보호할 수 있는 좋은 품질의 콘크리트이어야 한다.
 ④ 콘크리트속의 석회, 알루미나, 석고 등이 해수중의 황산 마그네시아 등과 반응하여 결정수를 갖는 복염을 만들므로 콘크리트는 침식한다.
97. 다음 재료의 경도측정 방법 중 압입경도 측정방법이 아닌 것은?
 ① 스크래치 경도(Scratch hardness)
 ② 브리넬 경도(Brinell hardness)
 ③ 누우프 경도(Knoop hardness)
 ④ 록크웰 경도(Rockwell hardness)
98. 금속재료(철강재료)의 인장시험에서 구할 수 없는 것은?
 ① 인장강도 ② 전단강도
 ③ 연신율 ④ 단면수축율
99. 다음 수중 불분리성 콘크리트에 관한 설명 중 적절하지 않은 것은?
 ① 충전성을 높이고 유동성을 좋게하기 위해 고유동화제의 사용이 필요하다.
 ② 재료의 배합시 건 비빔이 필요하다.
 ③ 일반 콘크리트에 비해 응결이 빨리 진행되므로 적정량의 응결 지연제가 필요하다.

- ④ 강제식 믹서의 경우 비비는 시간은 90~180초 정도가 적절하다.
100. 다음 콘크리트의 인장강도, 휨강도에 대한 설명 중 잘못된 것은?
 ① 콘크리트의 인장강도는 일반적으로 압축강도의 1/10~1/13 정도로 철근콘크리트 설계에서는 무시한다.
 ② 인장시험용 공시체는 압축시험용 공시체와 같고 인장강도의 크기는 $f_t = P/\pi dl$ 로 구한다. (d는 공시체지름, l은 높이)
 ③ 인장강도는 콘크리트를 건조시키면 습윤한 콘크리트 보다 저하된다.
 ④ 콘크리트 휨강도는 압축강도의 1/5~1/8정도이고 휨 강도의 크기는 $f_b = M/Z$ 에서 계산한다. (Z는 공시체의 단면계수이다.)

1	2	3	4	5	6	7	8	9	10
④	②	②	②	④	②	④	①	③	③
11	12	13	14	15	16	17	18	19	20
①	①	④	②	①	②	④	④	②	①
21	22	23	24	25	26	27	28	29	30
③	①	①	①	①	①	④	②	②	②
31	32	33	34	35	36	37	38	39	40
③	④	①	③	②	②	④	②	②	①
41	42	43	44	45	46	47	48	49	50
①	③	②	①	②	④	④	①	③	③
51	52	53	54	55	56	57	58	59	60
③	②	④	③	④	①	④	④	①	②
61	62	63	64	65	66	67	68	69	70
①	③	②	④	③	④	①	①	①	④
71	72	73	74	75	76	77	78	79	80
①	①	①	③	③	④	③	④	④	③
81	82	83	84	85	86	87	88	89	90
①	②	③	③	④	③	①	④	①	④
91	92	93	94	95	96	97	98	99	100
③	④	③	①	③	②	①	②	④	②