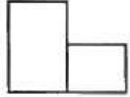
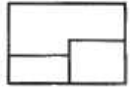


1과목 : 조경계획 및 설계

1. 제 3각법으로 정투상 된 보기와 같은 정면도와 평면도에 맞는 우측면도로 가장 적합한 것은?



- ①
- ②
- ③
- ④

2. 골프장 설계 중 그린(green)지역의 설명으로 틀린 것은?

- ① 그린(green)은 홀(hole)의 시작부분에 위치하는 지역이다.
- ② 그린에서 득점목표 구멍으로 컵(cup)이 있으며, 깃대가 꽂히게 된다.
- ③ 홀의 크기는 직경이 4.25인치, 깊이가 4.0인치 이상으로 하여야 한다.
- ④ 그린에 식재되는 잔디는 벤투그라스가 적합하다.

3. 인도의 무굴정원 특성으로서 정원을 구성하는 주요소는?

- ① 화훼(花卉)                      ② 원정(園亭)
- ③ 녹음수                            ④ 물

4. 다음 중 리튼(Litton)이 제시한 경관의 훼손가능성(landscape's vulnerability)이 높은 지역이 아닌 것은?

- ① 밝은 색의 토양
- ② 산 정상이나 능선 지역
- ③ 흔효림
- ④ 스카이라인, 능선 등과 같은 모서리 부분

5. 우리나라 자연공원법에서 공원계획으로 결정하는 용도지구가 아닌 것은?

- ① 공원자연보존지구                      ② 공원자연경관지구
- ③ 공원밀집마을지구                      ④ 공원집단지설지구

6. 잔산잉수(殘山剩水)의 설명으로 부적당한 것은?

- ① 야생초화를 자연풍으로 인식하는 것을 말한다.
- ② 자연 중의 작은 경치를 몇 부분씩 포함하여 전체로서 하나의 통일된 구도로 마무리 하였다.
- ③ 중국 남송의 산수화에서 사용되었던 용어이다.
- ④ 연못안, 연못가의 의도적인 석조를 중심으로 하는 국부의 장에서 볼 수 있다.

7. 다음 중 시설공간의 규모산정에 필요한 회전율을 가장 잘 설명한 것은?

- ① 한 이용자가 각 시설을 이용하는 비율을 의미한다.

- ② (최대시(最大時) 이용자수 / 최대일(最大日) 이용자수)를 의미한다.
- ③ 여러 개의 시설 중 한 시설만을 여러 명이 돌아가며, 이용하는 회수를 의미한다.
- ④ (단독시설 이용자수 / 전체시설 이용자수)를 의미한다.

8. 중국의 육조시대(六朝時代)에 신선설(神仙設)에 입각하여 한층 더 발달 된 정원 양식은?

- ① 고산수 정원                      ② 중도식 정원
- ③ 중정식 정원                      ④ 축경식 정원

9. "형태는 기능을 따른다.(form follows function)"는 말은 건축의 기능적인 필연성이 형태에 그대로 표현되어야 한다는 기능 중심적인 사고였는데, 이러한 주장을 한 사람은?

- ① 라이트(Frank Lloyd Wright)
- ② 루이스 설리반(Louis Sullivan)
- ③ 르 꼬르뷔지에(Le Corbusier)
- ④ 오토 와그너(Otto Wagner)

10. 자연의 의미로 "사람은 땅을 법칙 삼아 어긋나지 않고, 땅은 하늘을 법칙 삼아 어긋나지 않고, 하늘은 도를 법칙 삼아 어긋나지 않고, 도는 자연을 법칙 삼아 어긋나지 않는다.(人法地, 地法天, 天法道, 道法自然)"라고 말한 사람은 누구인가?

- ① 공자                                  ② 맹자
- ③ 노자                                  ④ 장자

11. 조경설계 품셈 적용시 조경수목과 잔디의 할증률은 각각 몇 % 까지를 적용할 수 있는가?

- ① 조경용 수목 20%, 잔디 10%
- ② 조경용 수목 10%, 잔디 10%
- ③ 조경용 수목 10%, 잔디 20%
- ④ 설계자가 임의로 결정한다.

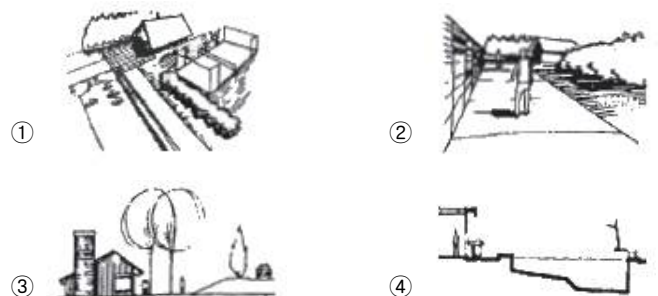
12. 프레드릭 로 옴스테드(Frederick Law Olmsted)와 관련이 없는 것은?

- ① 센트럴 파크                              ② 리버사이드 단지
- ③ 시카고 박람회장                        ④ 수도권 공원계통

13. 색상이 다른 두 색을 인접시켜 배치하면 두 색이 색상환에서 서로 더 멀어지려는 현상은?

- ① 색상대비                              ② 보색대비
- ③ 채도대비                              ④ 명도대비

14. 다음 중 입면도를 가장 잘 표현한 그림은?



15. 다음 설명은 어떤 조경계획의 단계를 위한 것인가?

- 수시로 건물이 들어설 자리에 가 본다.  
 - 오랫동안 그곳에 머물기도 한다.  
 - 땅거미가 찾아드는 조용한 저녁에도 가 본다.  
 - 눈 내리는 날, 비오는 날도 가 본다.  
 - 햇빛이 내리 쏘이는 한 낮에도 가 본다.

- ① 현황분석 단계에서 현장 감각을 얻기 위하여
- ② 기본구상 단계에서 프로그램을 개발하기 위하여
- ③ 관리계획을 수립하기 위하여
- ④ 시공단계에서 시공 도면을 작성하기 위하여

16. 조경계획의 과정은 조사분석 → 종합 → 발전 과정으로 구분한다. 다음 중 발전 및 시행단계에 해당하지 않는 것은?

- ① 계획설계                      ② 실시설계
- ③ 대안작성평가                ④ 이용 후 평가

17. 자연의 형태나 색채를 떠나서 형태를 기하학적으로 단순화하여 선과 면의 구성으로 순수한 구성 질서에 의한 아름다운 화면을 창조하였고, 현대 디자인에 영향을 준 20세기 화파는?

- ① 인상파                        ② 야수파
- ③ 입체파                        ④ 추상파

18. 환경과 관련된 동식물의 생활사 중 ( ) 안에 가장 적합한 용어는?

( )는(은) 환경 변화에 대처하는 방법이며, ( )는(은) 환경에 따른 생리적 조절로서 온도에 대한 내성뿐 아니라 대기의 산소량이나 다른 요인의 변화에 대해서도 나타난다. ( )는(은) 변화가 심한 환경에서 생물이 지속적으로 생존하는데 매우 중요하다.

- ① 경쟁                        ② 타감
- ③ 이주                        ④ 순화

19. 다음 내용의 ( )에 가장 적절한 용어는?

각각의 개별적인 자갈들의 ( ① )은(는) 서로 다르지만, '둥글다, 모나지 않다'라는 본질적인 ( ② )은(는) 같다.

- ① ① 형(shape), ② 형태(orm)
- ② ① 형태(orm), ② 형(shape)
- ③ ① 개념(concept), ② 형(shape)
- ④ ① 개념(concept), ② 형태(orm)

20. 색의 후퇴에 대한 설명 중 틀린 것은?

- ① 차가운 색이 따뜻한 색보다 더 후퇴하는 느낌을 준다.
- ② 어두운 색이 밝은 색보다 더 후퇴하는 느낌을 준다.
- ③ 명도·채도가 높은 색이 명도·채도가 낮은 색보다 더 후퇴하는 느낌을 준다.
- ④ 무채색이 유채색보다 더 후퇴하는 느낌을 준다.

21. 그림과 같은 수형과 잎의 형태에 가장 적합한 수종은?



- ① Quercus aliena Blume
- ② Betula schmidtii Regel
- ③ Magnolia obovata Thunb.
- ④ Liriodendron tulipifera L.

22. 우리나라의 도시 건물이 대형화 추세에 있고, 녹지 확보가 어려운 실정을 고려한다면 대형빌딩의 옥상정원 조성이 크게 신장하고 있다. 옥상과 지상 녹지의 환경 특성을 비교한 내용 중 틀린 것은?

- ① 온도는 지상에서 낮고, 온도변화는 옥상에서 크다.
- ② 수광 정도는 옥상이 지상보다 양호하다.
- ③ 옥상에서는 바람의 영향이 크게 작용하므로 수고가 큰 교목은 가급적 식재를 지양한다.
- ④ 지상 녹지에서는 주변을 전망하는 시계가 불량하다.

23. 임해매립지의 옹이층이 가라앉은 가장 낮은 중심부에서 주변부로 통과도록 배수로를 판 다음 이곳에 모래흙을 넣고 수목을 식재하는 방법은?

- ① 객토법(客土法)            ② 사주법(砂住法)
- ③ 사구법(砂溝法)            ④ 성토법(盛土法)

24. 다음 중 광포화점이 낮아 적은 광량 밑에서도 동화작용을 할 수 있는 조경수종들만으로 짝지어진 것은?

- ① 가문비나무, 붉나무, 소귀나무
- ② 낙엽송, 치자나무, 가시나무
- ③ 식나무, 주목, 사철나무
- ④ 두릅나무, 전나무, 순비기나무

25. 개잎갈나무의 학명은?

- ① Cedrus deodara Loudon
- ② Sophora japonica L.
- ③ Buxus koreana Nakai ex Chung & al.
- ④ Taxodium distichum Rich.

26. 임해매립지의 녹지조성 요령에 대한 설명으로 부적합한 것은?

- ① 바닷물이 튀어오르는 곳에는 갯잔디, 버뮤다그라스를 식재한다.
- ② 토양내 질소분이 결핍되는 경우가 많으니 비료목을 혼식한다.
- ③ 전방수림에 이어지는 후방수림은 주위경관과 어울리는 내조성 수종으로 조성한다.
- ④ 바닷바람을 받는 전방수림은 오리나무, 잎갈나무 등으로

2과목 : 조경식재

조성한다.

27. "Campsis grandifolia K. Schum."가 꽃피는 개략적인 시기는?  
 ① 3 ~ 4월                      ② 5 ~ 6월  
 ③ 8 ~ 9월                      ④ 10 ~ 11월
28. 단풍나무류(Acer)에 속하지 않는 것은?  
 ① 붉나무                      ② 고로쇠나무  
 ③ 복자기나무                  ④ 신나무
29. 자동차의 배기가스에 가장 악한 수종은?  
 ① Platanus occidentalis L.  
 ② Pinus densiflora siebold &Zucc.  
 ③ Ginkgo biloga L.  
 ④ Ligustrum obtusifolium Siebold % Zucc.
30. 호수 주변 연안대의 자생식물 중 추수식물(抽水植物, 정수식물)이 아닌 것은?  
 ① 큰고랭이                      ② 부들  
 ③ 줄                              ④ 순채
31. 뛰어난 시각적 특성을 지닌 수목을 독립수로 식재하여 개체 수목의 미적 가치가 높게 평가되도록 하는 식재양식은?  
 ① 강조식재                      ② 기초식재  
 ③ 군집식재                      ④ 표본식재
32. 식물생육에 이상적인 흙의 용적 비율은?  
 ① 광물질 25%, 수분 15%, 유기질 20%, 공기 40%  
 ② 광물질 5%, 수분 40%, 유기질 15%, 공기 40%  
 ③ 광물질 55%, 수분 25%, 유기질 5%, 공기 15%  
 ④ 광물질 45%, 수분 30%, 유기질 5%, 공기 20%
33. 식물의 학명을 표시하는 방법으로 옳은 것은?  
 ① 속명, 종명, 명명자로 구성되고, 속(屬)명의 첫글자는 대문자로 시작하여 종(種)명은 소문자로 쓴다.  
 ② 과명, 속명, 명명자로 구성되고, 모두 대문자로 쓴다.  
 ③ 과명, 속명, 명명자로 구성되고, 종(種)명만 첫글자를 대문자로 시작하고, 속명은 소문자로 쓴다.  
 ④ 속명, 종명, 명명자로 구성되고, 대문자나 소문자 구분없이 쓸 수 있다.
34. 수목의 수피(樹皮)가 백색인 것은?  
 ① Betula platyphylla var. japonica Hara  
 ② Quercus dentata Thunb. ex Murray  
 ③ Celtis sinensis Pers.  
 ④ Liriodendron tulipifera L.
35. 암흑상태에서 식물은 호흡작용만을 함으로써 CO<sub>2</sub>를 방출한다. 암흑상태에서 서서히 광도가 증가하면 광합성을 시작하면서 CO<sub>2</sub>를 흡수하기 시작하는데, 어떤 광도에 도달하면 호흡작용으로 방출되는 CO<sub>2</sub>의 양과 광합성으로 흡수하는 CO<sub>2</sub>의 양이 일치하게 된다. 이점을 무엇이라 하는가?  
 ① 고사한계점                      ② 광보상점  
 ③ 동화효율점                      ④ 영구위조점

36. 일반적인 식생도를 말하는 것으로 상관적 식생도라고도 하며, 조사구역 내에서 식생상관과 우점종을 중심으로 군락명을 정하여 군락 구분을 지도상에 표시하는 것을 무엇이라고 하는가?  
 ① 녹지자연도                      ② 현존식생도  
 ③ 종다양도                      ④ 우점도
37. 다음 중 척박지에서 내성이 가장 강한 수종은?  
 ① Albizia julibrissin Durazz.  
 ② Camellia japonica L.  
 ③ Quercus myrsinaefolia Blume  
 ④ Betula schmidtii Regel
38. 수림으로 조성한 방풍림대(防風林帶)의 가장 알맞은 식재열수와 너비 조건은?  
 ① 4줄 까지가 알맞고, 너비는 10m 내외  
 ② 6줄 까지가 알맞고, 너비는 40m 내외  
 ③ 7줄 까지가 알맞고, 너비는 70m 내외  
 ④ 9줄 까지가 알맞고, 너비는 120m 내외
39. 붉은 색의 열매를 갖는 수종들로만 짝지어진 것은?  
 ① 모과나무, 명자나무, 배나무  
 ② 쥐똥나무, 좀작살나무, 뽕나무  
 ③ 산수유, 사철나무, 주목  
 ④ 은행나무, 탕자나무, 붉나무
40. 정형식재의 기본 패턴(모양)이 아닌 것은?  
 ① 교호식재(交互植栽)                      ② 대식(對植)  
 ③ 열식(列植)                      ④ 군식(群植)

**3과목 : 조경시공**

41. 타일을 바탕 벽면에 붙일 때 바탕면에 수평으로 먹치기를 하기 위해 사용하는 가장 간단한 기구는?  
 ① 수평자                      ② 레벨  
 ③ 다림추                      ④ 물통수준기
42. 준공을 앞두고 유지관리지침서를 작성하려고 한다. 포함하지 않아도 될 사항은?  
 ① 제품 가격                      ② 주요 설계기준  
 ③ 기기·부품 목록                      ④ 청소방법 등의 특수마무리에 대한 보수지침서
43. 평판측량의 오차는 평판을 세울 때 발생하는 오차와 기계적인 오차로 구분된다. 다음 중 평판을 세울 때 발생하는 오차가 아닌 것은?  
 ① 구심의 불완전에 의한 오차(구심오차)  
 ② 표정의 경사에 의한 오차(정준오차)  
 ③ 엘리데이드에 의한 오차(외심오차)  
 ④ 표정의 불완전에 의한 오차(표정오차)
44. 다음 보기의 내용을 참고하여 공사의 입찰순서로 가장 적합한 것은?



아 쌓는 방법으로 통줄눈이 많이 생겨 구조적으로 튼튼하지 못하지만 외관이 좋은 쌓기 방법은?

- ① 영국식                      ② 프랑스식
- ③ 네덜란드식              ④ 미국식

59. 토목공사용 기계인 쇼벨(shovel)의 작업 용도로만 모두 나열된 것은?

- ① 부설용                      ② 정지용
- ③ 굴착용, 실키용          ④ 다짐용, 실키용, 운반용

60. 피막식(membrane) 방수공법에는 아스팔트 방수, 시트 방수, 도막 방수가 있는데, 그 중 아스팔트 방수의 특징으로 옳은 것은?

- ① 외기에 대한 영향이 비교적 크다.
- ② 시공이 번잡하다.
- ③ 재료취급이 간단하다.
- ④ 결함부 발견이 용이하다.

**4과목 : 조경관리**

61. 토양, 온도, 일조 등의 항목은 조경관리계획의 수립조건에 비추어 볼 때 어느 항목에 속하는가?

- ① 자연조건                      ② 인위조건
- ③ 시설조건                      ④ 사회조건

62. 대부분의 화목류의 화아형성을 촉진하기 위하여 주어야 할 비료와 시기는?

- ① 인산질 비료를 7 ~ 8월에 준다.
- ② 인산질 비료를 3 ~ 4월에 준다.
- ③ 질소질 비료를 3 ~ 4월에 준다.
- ④ 질소질 비료를 7 ~ 8월에 준다.

63. 향나무녹병(赤星病)에 관한 설명 중 틀린 것은?

- ① 배나무, 모과나무, 꽃사과 등에는 발생하지 않는다.
- ② 4월 ~ 5월경 비가 자주오면 겨울 포자되는 노란색의 한천모양으로 불어난다.
- ③ 향나무 잎이나 가지 사이의 분기점에 갈색의 균체가 형성된다.
- ④ 녹포자 비산기인 7월 초순경에 만코지수화제를 살포한다.

64. 레크레이션 분야에 수용능력(carrying capacity)이란 용어를 처음 사용한 사람은?

- ① Ashton                      ② Wager
- ③ Lapage                      ④ Lucas

65. 가지 아래 방향으로 달린 바깥 눈을 자르고 가지 윗 쪽의 안 눈을 살려야 자연스러운 수형 형성이 가능한 수종은?

- ① 수양벚나무                  ② 백목련
- ③ 배롱나무                      ④ 수수꽃다리

66. 다음 순자르기(순꺾기) 방법에 관한 설명 중 ( ) 에 적합한 것은?

( ~ )월경에 순이 5 ~ 10cm 의 길이로 자랐을 때 새순의 끝을 꺾거나 잘라 곁에서 자라는 가지의 마디 사이를 짧게 만든다. 세력이 좋은 가지는 1개소에서 3 ~ 4분이 c오시에 발생하므로 그대로 방치할 경우 다음 해에 모두 가지가 되어 너무 무성하게 된다.

- ① 7 ~ 9                          ② 10 ~ 12
- ③ 1 ~ 3                          ④ 4 ~ 5

67. 원로나 광장에서 모래·자갈 포장의 정기점검 보수 항목은?

- ① 배수정비                      ② 균열보수
- ③ 노화정비                      ④ 줄눈보수

68. 미국흰불나방과 관련된 설명으로 틀린 것은?

- ① 년 1회 발생하며 성충은 8월 중순 ~ 9월 하순의 무더위에 출현한다.
- ② 학명은 Hyphantria cunea 이다.
- ③ 유충기에 피해를 주며 잡식성이어서 거의 모든 활엽수류의 잎을 가해한다.
- ④ 방제법은 산란된 잎을 채취, 소각하거나 발생초기 유충이 군서(群棲)하는 가지를 잘라 소각한다.

69. 옥외 레크리에이션(recreation) 관리체계에서 주 요소 기능의 관점과 거리가 먼 것은?

- ① 이용자관리(visitor management)
- ② 서비스관리(service management)
- ③ 자원관리(resource management)
- ④ 건축물관리(building management)

70. 활엽수의 질소 결핍 현상을 바르게 설명한 것은?

- ① 잎은 짧고 소형이 되며 엽색은 황화한다.
- ② 어린나무의 경우 수관하부의 성숙엽에서 자주빛으로 변색되기 시작하여 점차 안쪽과 위쪽의 잎으로 진행한다.
- ③ 엽맥 간의 황백화현상이 나타나고 심하면 피해부와 건전부위와의 경계가 뚜렷해진다.
- ④ 잎의 끝이 마르거나 뒤틀린다.

71. 테니스 클레이코트에 뿌리는 소금과 염화칼슘의 역할이 아닌 것은?

- ① 응고작용                      ② 보습효과
- ③ 동결방지                      ④ 지력보강

72. 일반적으로 시설물의 관리작업 시기를 설명한 것 중 부적합한 것은?

- ① 수목생육이 가장 왕성한 시기에 시설물과 수목을 함께 점검한다.
- ② 대체로 이용자의 수가 적을 때 점검한다.
- ③ 우기 및 추울 때는 관리작업을 피한다.
- ④ 동일 종류를 종합해서 관리작업한다.

73. 멀칭(mulching)의 효과로 볼 수 없는 것은?

- ① 토양침식과 수분의 손실을 방지한다.
- ② 토양을 굳어지게 한다.
- ③ 염분 농도를 조절한다.

