

19. 1kWh의 열당량은 몇 kcal인가?

- ① 427 ② 576
- ③ 660 ④ 860

20. 연소와 관련된 식 중 옳게 나타낸 것은 어느 것인가?

- ① 과잉공기비 = 공기비(m) - 1
- ② 과잉공기량 = 이론공기량(A₀) + 실제공기량
- ③ 실제공기량 = 공기비(m) + 이론공기량(A₀)
- ④ 공기비 = (이론산소량/실제공기량) - 이론공기량

2과목 : 가스설비

21. 다음 중 왕복형 압축기의 용량제어방법이 아닌 것은?

- ① 회전수의 조절
- ② 토출밸브의 조절
- ③ 흡입 메인밸브의 조절
- ④ 바이패스밸브를 이용하여 압축가스를 흡입측에 되돌리는 방법

22. LP가스 수입기지 플랜트를 기능적으로 구별한 설비시스템에서 '고압저장설비'에 해당하는 것은?

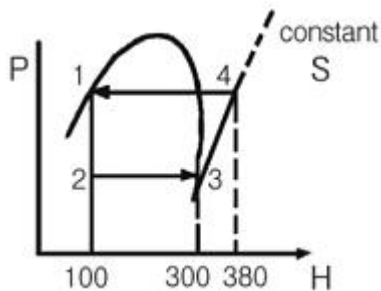
수입가스설비 → 수입설비 → (㉠) → (㉡) → (㉢) → (㉣) → {2차기지 소비플랜트}

- ① ㉠ ② ㉡
- ③ ㉢ ④ ㉣

23. 시간당 10m³의 LP가스를 길이 100m 떨어진 곳에 저압으로 공급하고자 한다. 압력손실이 30mmH₂O이면 필요한 최소배관의 관경은 약 몇 mm인가? (단, pole의 상수 0.7, 가스비중은 1.5이다.)

- ① 30 ② 40
- ③ 50 ④ 60

24. 다음과 같이 작동되는 냉동장치의 성적계수(eR)는?



- ① 0.4 ② 1.4
- ③ 2.5 ④ 3.0

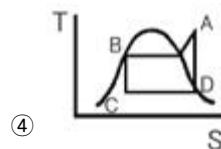
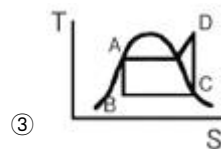
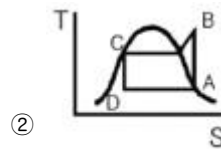
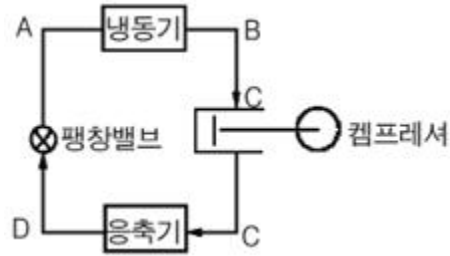
25. 다음 중 SNG에 대한 설명으로 옳은 것은?

- ① 순수천연가스를 뜻한다.
- ② 각종 도시가스의 총칭이다.
- ③ 대체(합성) 천연가스를 뜻한다.
- ④ 부생가스로 고로가스가 주성분이다.

26. 고압가스 용기의 충전구나사가 원나사인 것은?

- ① 질소 ② 수소
- ③ 공기 ④ 암모니아

27. 다음 그림의 냉동장치와 일치하는 행정위치를 표시한 T-S 선도도는?



28. 증기 압축냉동기에서 등엔트로피 과정은 다음 중 어느 곳에서 이루어지는가?

- ① 응축기 ② 압축기
- ③ 증발기 ④ 팽창밸브

29. 압력배관용 탄소강관(SPPS)에서 스케줄 번호(Sch)를 나타내는 식은? (단, P는 상용압력[kgf/cm²], S는 허용응력[kgf/mm²]이다.)

- ① Sch=10×(S/P) ② Sch=1000×(S/P)
- ③ Sch=1000×(P/S) ④ Sch=10×(P/S)

30. 고압가스 설비에 장치하는 압력계의 최고 눈금은?

- ① 상용압력의 2배 이상, 3배 이하
- ② 상용압력의 1.5배 이상, 2배 이하
- ③ 내압시험압력의 1배 이상, 2배 이하
- ④ 내압시험압력의 1.5배 이상, 2배 이하

31. 다음 그림은 공기액화분리를 위한 복식 정류장치이다. 기호에 해당하는 액체의 명칭 및 장치의 명칭을 바르게 나타낸 것은?

- 것
- ④ 전기스위치는 용기보관실의 외부에 설치할 것
48. 차량에 고정된 탱크 운행 시 반드시 휴대하지 않아도 되는 서류는?
- ① 고압가스 이동계획서 ② 탱크 내압시험 성적서
 - ③ 차량등록증 ④ 탱크용량 환산표
49. 가스도매사업의 정압기지에는 시설의 조작을 안전하고 확실하게 하기 위하여 조명도가 몇 룩스 이상이 되도록 설치하여야 하는가?
- ① 80 ② 100
 - ③ 120 ④ 150
50. 석유 속에 저장하여야 하는 물질은?
- ① 에테르 ② 황린
 - ③ 벤젠 ④ 나트륨
51. 고압가스를 운반하는 차량의 안전경계 표지 중 삼각기의 바탕과 글자색은?
- ① 백색바탕 - 적색글씨 ② 적색바탕 - 황색글씨
 - ③ 황색바탕 - 적색글씨 ④ 백색바탕 - 청색글씨
52. 저장탱크의 설치방법 중 위해방지를 위하여 저장탱크를 지하에 매설할 경우 저장탱크의 주위에 무엇으로 채워야 하는가?
- ① 흙 ② 콘크리트
 - ③ 모래 ④ 자갈
53. 고압가스 사업소에 설치하는 경계표지의 기준으로 틀린 것은?
- ① 경계표지는 외부에서 보기 쉬운 곳에 게시해야 한다.
 - ② 사업소 내 시설 중 일부만이 관련법의 적용을 받더라도 사업소 전체에 경계표지를 해야 한다.
 - ③ 충전용기 및 반응기 보관장소는 각각 구획 또는 경계선에 의하여 안전확보에 필요한 용기상태를 식별할 수 있도록 해야 한다.
 - ④ 경계표지는 관련법의 적용을 받는 시설이란 것을 외부 사람이 명확히 식별할 수 있어야 한다.
54. 공기 중에 누출되었을 때 바닥에 고이는 가스로만 나열된 것은?
- ① 프로판, 수소, 아세틸렌
 - ② 에틸렌, 천연가스, 염소
 - ③ 염소, 암모니아, 포스겐
 - ④ 부탄, 염소, 포스겐
55. 다음 중 가연성 가스에 대한 정의로 옳은 것은?
- ① 폭발한계가 하한 20% 이하, 폭발범위 상한과 하한의 차이가 20% 이상인 것
 - ② 폭발한계가 하한 20% 이하, 폭발범위 상한과 하한의 차이가 10% 이상인 것
 - ③ 폭발한계가 하한 10% 이하, 폭발범위 상한과 하한의 차이가 20% 이상인 것
 - ④ 폭발한계가 하한 10% 이하, 폭발범위 상한과 하한의 차이가 10% 이상인 것

56. 자동차에 고정된 탱크로 소형 저장탱크에 액화석유가스를 충전하는 경우의 기준으로 틀린 것은?
- ① 수요자가 액화석유가스 특정사용자인지 등의 여부를 확인하고 공급할 것
 - ② 소형 저장탱크 내의 잔량을 확인한 후 충전할 것
 - ③ 충전작업은 공급자가 채용한 안전관리 자의 입회하에 할 것
 - ④ 충전작업이 완료되면 세이프티카플링으로부터의 가스누출이 없는지를 확인 할 것
57. 다음 중 독성 가스의 제독조치로서 가장 부적당한 것은?
- ① 흡수제에 의한 흡수
 - ② 중화제에 의한 중화
 - ③ 국소배기장치에 의한 포집
 - ④ 제독제 살포에 의한 제독
58. 고압고무호스에 대한 설명 중 틀린 것은?
- ① 고압고무호스는 안층·보강층·바깥층으로 되어 있고, 안지름과 두께가 균일 할 것
 - ② 투원호스는 차압 0.07MPa 이하에서 정상적으로 작동하는 체크밸브를 부착한 것일 것
 - ③ 3MPa 이상의 압력으로 실시하는 내압 시험에서 이상 없을 것
 - ④ 조정기에 연결하는 이음쇠의 나사는 오른나사로서 W 22.5×14T일 것
59. 공정 및 설비의 오류, 결함상태, 위험상황 등을 목록화한 형태로 작성하여 경험적으로 비교함으로써 위험성을 정성적으로 파악하는 안전성형 평가기법은?
- ① 체크리스트(Checklist)기법
 - ② 작업자 실수분석(Human Error Analysis, HEA)기법
 - ③ 사고예상질문분석(What-if)기법
 - ④ 위험과 운전분석(Hazard And Operability Studies, HAZOP)기법
60. 1일 처리능력이 60000m³인 가연성 가스 저온 저장탱크와 제2종 보호시설과의 안전거리의 기준은?
- ① 20.0m ② 21.2m
 - ③ 22.0m ④ 30.0m

4과목 : 가스계측

61. 액주식 압력계에 사용되는 액주의 구비조건으로 틀린 것은?
- ① 모세관 현상이 커야 한다.
 - ② 휘발성, 흡수성이 적어야 한다.
 - ③ 정도 및 팽창계수가 적어야 한다.
 - ④ 액면은 항상 수평을 이루어야 한다.
62. 온도 49℃, 압력 1atm의 습한 공기 205kg 중 10kg 수증기를 함유하고 있을 때 이 공기의 절대습도는? (단, 49℃에서 물의 증기압은 88mmHg이다.)
- ① 0.025kg H₂O/kg·dry·(air)
 - ② 0.048kg H₂O/kg·dry·(air)
 - ③ 0.051kg H₂O/kg·dry·(air)
 - ④ 0.250kg H₂O/kg·dry·(air)

63. 표준 계측기기의 구비조건으로 틀린 것은?
 ① 정도가 높을 것
 ② 안정성이 높을 것
 ③ 경년변화가 클 것
 ④ 외부조건에 대한 변형이 적을 것
64. 다음 중 가스미터의 특징에 대한 설명으로 틀린 것은?
 ① 습식 가스미터는 설치공간이 작다.
 ② 벤투리미터는 추량식 가스미터이다.
 ③ 막식 가스미터는 소용량의 가스계량에 적합하다.
 ④ 루트미터의 용량범위는 약 100~5000cm³/h이다.
65. 막식 가스미터에서 계량막이 신축하여 계량식 부피가 변화하거나 막에서의 누출, 밸브시트 사이에서의 누출 등이 원인이 되어 발생하는 고장의 형태는?
 ① 감도 불량
 ② 기차 불량
 ③ 부동(不動)
 ④ 불통(不通)
66. 같은 계로서 같은 양을 몇 번이고 반복하여 측정하면 측정값은 흩어진다. 이 흩어짐이 작은 정도(程度)를 무엇이라 하는가?
 ① 정확도
 ② 감도
 ③ 정도
 ④ 정밀도
67. He 가스 중 불순물로서 N₂ : 2%, CO : 5%, CH₄ : 1%, H₂: 5%가 들어 있는 가스크로마토그래피로 분석하고자 한다. 다음 중 가장 적당한 검출기는?
 ① 열전도식검출기(TCD)
 ② 불꽃이온화검출기(FID)
 ③ 불꽃광도검출기(FPD)
 ④ 환원성가스검출기(RGD)
68. 스테판-볼츠만(Stefan-Boltzmann)의 법칙을 이용한 온도계는?
 ① 방사 온도계
 ② 유리 온도계
 ③ 열전대 온도계
 ④ 광전 온도계
69. 가스 크로마토그래피에서 캐리어가스의 유량이 50mL/min이고, 기록지의 속도가 5cm/min 일 때 어떤 성분 시료를 주입하였더니 주입점에서 성분 피크까지의 길이가 20cm이었다. 이때의 지속용량은 몇 mL인가?
 ① 100
 ② 200
 ③ 300
 ④ 400
70. 가스 크로마토그래피의 주요 구성요소가 아닌 것은?
 ① 분리관(칼럼)
 ② 검출기
 ③ 기록계
 ④ 흡수액
71. 다음 중 공차(公差)를 가장 잘 표현한 것은?
 ① 계량기 고유오차의 최대허용한도
 ② 계량기 고유오차의 최소허용한도
 ③ 계량기 우연오차의 규정허용한도
 ④ 계량기 과실오차의 조정허용한도
72. 유입된 가스가 일정한 액면 안에 있는 계량 등을 회전시켜

- 이 회전수로 가스유량을 측정하는 기구는?
 ① 벤투리미터
 ② 습식 가스미터
 ③ 터빈식 가스미터
 ④ 와유량계
73. 게이지압력이 720mmHg일 때 절대압력은?
 ① 13.9psi
 ② 15.9psi
 ③ 28.6psi
 ④ 30.6psi
74. 다음 자동제어의 분류 중 목표치에 따른 분류가 아닌 것은?
 ① 정치제어
 ② 추치제어
 ③ 캐스케이드 제어
 ④ 시퀀스 제어
75. 다음 가스미터 중 추량식 가스미터가 아닌 것은?
 ① 루트(Roots)식
 ② 벤투리(Venturi)식
 ③ 델타(Delta)식
 ④ 터빈(Turbine)식
76. 기름 A의 높이는 80cm이고, 수은의 높이는 5cm로 평형을 이루고 있는 U자관이 있다. 이때 기름 A의 비중량은 약 몇 kgf/m³인가? (단, 수은의 비중은 13.6이다.)
 ① 400
 ② 850
 ③ 1275
 ④ 1700
77. 다음 중 가스미터의 설치장소로서 가장 적당한 곳은?
 ① 높이가 100~150cm인 실외의 곳
 ② 전기계량기와는 60cm 이상 떨어진 위치
 ③ 통풍이 양호하고, 약간의 진동이 있는 위치
 ④ 가능한 배관의 길이가 길고, 꺾이지 않는 위치
78. 다음 다이어프램식 압력계에 대한 설명 중 틀린 것은?
 ① 저압측정용으로 적합하다.
 ② 정확성은 높지만, 감도는 좋지 않다.
 ③ 측정범위는 약 20~5000mmH₂O 정도 이다.
 ④ 정도가 높은 액체의 압력측정용으로 적합하다.
79. 전자유량계의 특징에 대한 설명 중 틀린 것은?
 ① 압력손실이 없다.
 ② 적절한 라이닝 재질을 선정하면 슬러리나 부식성 액체의 측정도 가능하다.
 ③ 미소한 측정전압에 대하여 고성능의 증폭기가 필요하다.
 ④ 기체, 기름 등 도전성이 없는 유체의 측정에 적합하다.
80. 가스분석 중 화학적 방법이 아닌 것은 어느 것인가?
 ① 연소열을 이용한 방법
 ② 고체흡수제를 이용한 방법
 ③ 용액흡수제를 이용한 방법
 ④ 가스 밀도, 점성을 이용한 방법

1	2	3	4	5	6	7	8	9	10
①	②	④	③	③	③	③	④	②	①
11	12	13	14	15	16	17	18	19	20
④	④	④	④	①	①	③	①	④	①
21	22	23	24	25	26	27	28	29	30
②	③	②	③	③	②	①	②	④	②
31	32	33	34	35	36	37	38	39	40
③	②	③	②	②	①	③	④	①	①
41	42	43	44	45	46	47	48	49	50
②	④	②	①	②	②	③	②	④	④
51	52	53	54	55	56	57	58	59	60
②	③	②	④	③	③	③	④	①	②
61	62	63	64	65	66	67	68	69	70
①	③	③	①	②	④	①	①	②	④
71	72	73	74	75	76	77	78	79	80
①	②	③	④	①	②	②	②	④	④