

1과목 : 안전관리론

1. 라인(Line)형 안전관리 조직의 특징으로 옳은 것은?

- ① 안전에 관한 기술의 축적이 용이하다.
- ② 안전에 관한 지시나 조치가 신속하다
- ③ 조직원 전원을 자율적으로 안전활동에 참여 시킬 수 있다.
- ④ 권한 다툼이나 조정 때문에 통제수속이 복잡해지며, 시간과 노력이 소모된다.

2. 레빈(Lewin)의 인간 행동 특성을 다음과 같이 표현하였다. 변수 'P'가 의미하는 것은?

B = f(P · E)

- ① 행동 ② 소질
- ③ 환경 ④ 함수

3. Y-K(Yutaka - Kohate) 성격검사에 관한 사항으로 옳은 것은?

- ① C,C'형은 적응이 빠르다.
- ② M,M'형은 내구성, 집념이 부족하다.
- ③ S,S'형은 담력, 자신감이 강하다
- ④ P,P'형은 운동, 결단이 빠르다.

4. 재해예방의 4원칙이 아닌 것은?

- ① 손실우연의 원칙 ② 사전준비의 원칙
- ③ 원인계기의 원칙 ④ 대책선정의 원칙

5. 재해의 발생확률은 개인적 특성이 아니라 그 사람이 종사하는 작업의 위험성에 기초한다는 이론은?

- ① 암시설 ② 경향설
- ③ 미숙설 ④ 기회설

6. 타인의 비판 없이 자유로운 토론을 통하여 다량의 독창적인 아이디어를 이끌어내고, 대안적 해결안을 찾기 위한 집단적 사고기법은?

- ① Role playing ② Brain storming
- ③ Action playing ④ Fish Bowl playing

7. 강도를 7인 사업장에서 한 작업자가 평생 동안 작업을 한다면 산업재해로 인한 근로손실 일수는 며칠로 예상되는가? (단, 이 사업장의 연근로시간과 한 작업자의 평생근로시간은 100000시간으로 가정한다.)

- ① 500 ② 600
- ③ 700 ④ 800

8. 산업안전보건법령상 유해·위험 방지를 위한 방호 조치가 필요한 기계·기구가 아닌 것은?

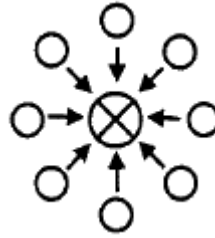
- ① 예초기 ② 지게차
- ③ 금속절단기 ④ 금속타자기

9. 산업안전보건법령상 안전·보건표지의 색채와 사용사례의 연결로 틀린 것은?

- ① 노란색 - 화학물질 취급장소에서 유해·위험 경고 이외의 위험경고
- ② 파란색 - 특정 행위의 지시 및 사실의 고지

- ③ 빨간색 - 화학물질 취급장소에서 유해·위험 경고
- ④ 녹색 - 정지신호, 소화설비 및 그 장소, 유해행위의 금지

10. 재해의 발생형태 중 다음 그림이 나타내는 것은?



- ① 단순연쇄형 ② 복합연쇄형
- ③ 단순자극형 ④ 복합형

11. 생체리듬의 변화에 대한 설명으로 틀린 것은?

- ① 야간에는 체중이 감소한다.
- ② 야간에는 말초운동 기능이 증가된다.
- ③ 체온, 혈압, 맥박수는 주간에 상승하고 야간에 감소한다
- ④ 혈액의 수분과 염분량은 주간에 감소하고 야간에 상승한다.

12. 무재해 운동을 추진하기 위한 조직의 세 기둥으로 볼 수 없는 것은?

- ① 최고경영자의 경영자세
- ② 소집단 자주활동의 활성화
- ③ 전 종업원의 안전요원화
- ④ 라인관리자에 의한 안전보건의 추진

13. 안전인증 절연장갑에 안전인증 표시 외에 추가로 표시하여야 하는 등급별 색상의 연결로 옳은 것은? (단, 고용노동부 고시를 기준으로 한다.)

- ① 00등급 : 갈색 ② 0등급 : 흰색
- ③ 1등급 : 노란색 ④ 2등급 : 빨강색

14. 안전교육방법 중 구안법(Project Method)의 4단계의 순서로 옳은 것은?

- ① 계획수립 → 목적결정 → 활동 → 평가
- ② 평가 → 계획수립 → 목적결정 → 활동
- ③ 목적결정 → 계획수립 → 활동 → 평가
- ④ 활동 → 계획수립 → 목적결정 → 평가

15. 산업안전보건법령상 사업 내 안전보건교육 중 관리 감독자 정기교육의 내용이 아닌 것은?

- ① 유해·위험 작업환경 관리에 관한 사항
- ② 표준안전작업방법 및 지도 요령에 관한 사항
- ③ 작업공정의 유해·위험과 재해 예방대책에 관한 사항
- ④ 기계·기구의 위험성과 작업의 순서 및 동선에 관한 사항

16. 다음 재해원인 중 간접원인에 해당하지 않는 것은?

- ① 기술적 원인 ② 교육적 원인
- ③ 관리적 원인 ④ 인적 원인

17. 재해원인 분석방법의 통계적 원인분석 중 사고의 유형, 기인물 등 분류항목을 큰 순서대로 도표화한 것은?

- ① 파레토도 ② 특성요인도

- ③ 크로스도 ④ 관리도

18. 다음 중 헤드십(headship)에 관한 설명과 가장 거리가 먼 것은?

- ① 권한의 근거는 공식적이다.
- ② 지휘의 형태는 민주주의적이다.
- ③ 상사와 부하와의 사회적 간격은 넓다.
- ④ 상사와 부하와의 관계는 지배적이다.

19. 다음 설명에 해당하는 학습 지도의 원리는?

학습자가 지니고 있는 각자의 요구와 능력 등에 알맞은 학습활동의 기회를 마련해주어야 한다는 원리

- ① 직관의 원리 ② 자기활동의 원리
- ③ 개별화의 원리 ④ 사회화의 원리

20. 안전교육의 단계에 있어 교육대상자가 스스로 행함으로써 습득하게 하는 교육은?

- ① 의식교육 ② 기능교육
- ③ 지식교육 ④ 태도교육

2과목 : 인간공학 및 시스템안전공학

21. 결함수분석의 기호 중 입력사상이 어느 하나라도 발생할 경우 출력사상이 발생하는 것은?

- ① NOR GATE ② AND GATE
- ③ OR GATE ④ NAND GATE

22. 가스밸브를 잠그는 것을 잊어 사고가 발생했다면 작업자는 어떤 인적오류를 범한 것인가?

- ① 생략 오류(omission error)
- ② 시간지연 오류(time error)
- ③ 순서 오류(sequential error)
- ④ 작위적 오류(commission error)

23. 어떤 소리가 1000Hz, 60dB인 음과 같은 높이임에도 4배 더 크게 들린다면, 이 소리의 음압수준은 얼마인가?

- ① 70dB ② 80dB
- ③ 90dB ④ 100dB

24. 시스템 안전분석 방법 중 예비위험분석(PHA)단계에서 식별하는 4가지 범주에 속하지 않는 것은?

- ① 위기상태 ② 무시가능상태
- ③ 파국적상태 ④ 예비조치상태

25. 다음은 불꽃놀이용 화학물질취급설비에 대한 정량적 평가이다. 해당 항목에 대한 위험등급이 올바르게 연결된 것은?

항 목	A (10점)	B (5점)	C (2점)	D (0점)
취급물질	○	○	○	
조 작		○		○
화학설비의 용량	○		○	
온 도	○	○		
압 력		○	○	○

- ① 취급물질 - I 등급, 화학설비의 용량 - I 등급
- ② 온도 - I 등급, 화학설비의 용량 - II 등급
- ③ 취급물질 - I 등급, 조작 - IV 등급
- ④ 온도 - II 등급, 압력 - III 등급

26. 산업안전보건법령상 유해위험방지계획서의 제출 대상 제조업은 전기 계약 용량이 얼마이상인 경우에 해당되는가? (단, 기타 예외사항은 제외한다)

- ① 50kW ② 100kW
- ③ 200kW ④ 300kW

27. 인간-기계 시스템에서 시스템의 설계를 다음과 같이 구분할 때 제3단계인 기본설계에 해당되지 않는 것은?

1단계 : 시스템의 목표와 성능 명세 결정
 2단계 : 시스템의 정의
 3단계 : 기본설계
 4단계 : 인터페이스설계
 5단계 : 보조물 설계
 6단계 : 시험 및 평가

- ① 화면 설계 ② 작업 설계
- ③ 직무 분석 ④ 기능 할당

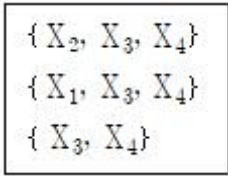
28. 결함수분석법에서 Path set에 관한 설명으로 옳은 것은?

- ① 시스템의 약점을 표현한 것이다.
- ② Top 사상을 발생시키는 조합이다.
- ③ 시스템이 고장 나지 않도록 하는 사상의 조합이다.
- ④ 시스템고장을 유발시키는 필요불가결한 기본사상들의 집합이다.

29. 연구 기준의 요건과 내용이 옳은 것은?

- ① 무오염성 : 실제로 의도하는 바와 부합해야 한다.
- ② 적절성 : 반복 실험 시 재현성이 있어야 한다.
- ③ 신뢰성 : 측정하고자 하는 변수 이외의 다른 변수의 영향을 받아서는 안 된다.
- ④ 민감도 : 피실험자 사이에서 볼 수 있는 예상 차이점에 비례하는 단위로 측정해야 한다.

30. FTA결과 다음과 같은 패스셋을 구하였다. 최소 패스셋(Minimal path sets)으로 옳은 것은?



- ① {X3, X4} ② {X1, X3, X4}
- ③ {X2, X3, X4} ④ {X2, X3, X4}와 {X3, X4}

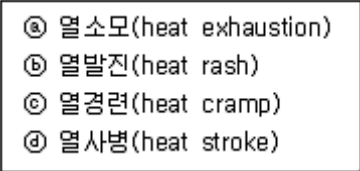
31. 인체측정에 대한 설명으로 옳은 것은?

- ① 인체측정은 동적측정과 정적측정이 있다.
- ② 인체측정학은 인체의 생화학적 특징을 다룬다.
- ③ 자세에 따른 인체지수의 변화는 없다고 가정한다
- ④ 측정항목에 무게, 둘레, 두께, 길이는 포함되지 않는다.

32. 실린더 블록에 사용하는 가스켓의 수명 분포는 $X \sim N(10000, 200^2)$ 인 정규분포를 따른다. $t=9600$ 시간일 경우에 신뢰도 $R(t)$ 는? (단, $P(Z \leq 1) = 0.8413$, $P(Z \leq 1.5) = 0.9332$, $P(Z \leq 2) = 0.9772$, $P(Z \leq 3) = 0.9987$ 이다.)

- ① 84.13% ② 93.32%
- ③ 97.72% ④ 99.87%

33. 다음 중 열 중독증(heat illness)의 강도를 올바르게 나열한 것은?



- ① c < b < a < d ② c < b < d < a
- ③ b < c < a < d ④ b < d < a < c

34. 사무실 의자나 책상에 적용할 인체 측정 자료의 설계 원칙으로 가장 적합한 것은?

- ① 평균치 설계 ② 조절식 설계
- ③ 최대치 설계 ④ 최소치 설계

35. 암호체계의 사용 시 고려해야 될 사항과 거리가 먼 것은?

- ① 정보를 암호화한 자국은 검출이 가능하여야 한다.
- ② 다 차원의 암호보다 단일 차원화된 암호가 정보 전달이 촉진된다.
- ③ 암호를 사용할 때는 사용자가 그 뜻을 분명히 알 수 있어야 한다
- ④ 모든 암호 표시는 감지장치에 의해 검출될 수 있고, 다른 암호 표시와 구별될 수 있어야 한다.

36. 신호검출이론(SDT)의 판정결과 중 신호가 없었는데도 있다고 말하는 경우는?

- ① 긍정(hit) ② 누락(miss)
- ③ 허위(false alarm) ④ 부정(correct rejection)

37. 촉감의 일반적인 척도의 하나인 2점 문턱값(two-point Threshold)이 감소하는 순서대로 나열된 것은?

- ① 손가락 → 손바닥 → 손가락 끝
- ② 손바닥 → 손가락 → 손가락 끝
- ③ 손가락 끝 → 손가락 → 손바닥

④ 손가락 끝 → 손바닥 → 손가락

38. 시스템 안전분석 방법 중 HAZOP에서 “완전대체”를 의미하는 것은?

- ① NOT ② REVERSE
- ③ PART OF ④ OTHER THAN

39. 어느부품 1000개를 100000시간 동안 가동 하였을 때 5개의 불량품이 발생하였을 경우 평균 동작시간(MTTF)은?

- ① 1×10^6 시간 ② 2×10^7 시간
- ③ 1×10^8 시간 ④ 2×10^9 시간

40. 신체활동의 생리학적 측정법 중 전신의 육체적인 활동을 측정하는데 가장 적합한 방법은?

- ① Flicker측정 ② 산소 소비량 측정
- ③ 근전도(EMG) 측정 ④ 피부전기반사(GSR) 측정

3과목 : 기계위험방지기술

41. 산업안전보건법령상 롤러기의 방호장치 중 롤러의 앞면 표면 속도가 30m/min 이상 일 때 무부하 동작에서 급정지거리리는?

- ① 앞면 롤러 원주의 1/2.5 이내
- ② 앞면 롤러 원주의 1/3 이내
- ③ 앞면 롤러 원주의 1/3.5 이내
- ④ 앞면 롤러 원주의 1/5.5 이내

42. 극한하중이 600N인 체인에 안전계수가 4일 때 체인의 정격하중(N)은?

- ① 130 ② 140
- ③ 150 ④ 160

43. 연삭작업에서 슷돌의 파괴원인으로 가장 적절하지 않은 것은?

- ① 슷돌의 회전속도가 너무 빠를 때
- ② 연삭작업 시 슷돌의 정면을 사용할 때
- ③ 슷돌에 큰 충격을 줬을 때
- ④ 슷돌의 회전중심이 제대로 잡히지 않았을 때

44. 산업안전보건법령상 용접장치의 안전에 관한 준수사항으로 옳은 것은?

- ① 아세틸렌 용접장치의 발생기실을 옥외에 설치한 경우에는 그 개구부를 다른 건축물로부터 1m 이상 떨어지도록 하여야 한다.
- ② 가스집합장치로부터 7m 이내의 장소에서는 화기의 사용을 금지시킨다.
- ③ 아세틸렌 발생기에서 10m 이내 또는 발생기실에서 4m 이내의 장소에서는 화기의 사용을 금지시킨다.
- ④ 아세틸렌 용접장치를 사용하여 용접작업을 할 경우 게이지 압력이 127kPa를 초과하는 압력의 아세틸렌을 발생시켜 사용해서는 아니 된다.

45. 500rpm으로 회전하는 연삭숫돌의 지름이 300mm일 때 원주속도(m/min)은?

- ① 약 748 ② 약 650
- ③ 약 532 ④ 약 471

46. 산업안전보건법령상 로봇을 운전하는 경우 근로자가 로봇에 부딪칠 위험이 있을 때 높이는 최소 얼마이상의 울타리를 설치하여야 하는가? (단, 로봇의 가동범위 등을 고려하여 높이로 인한 위험성이 없는 경우는 제외)

- ① 0.9m ② 1.2m ③ 1.5m ④ 1.8m

47. 일반적으로 전류가 과대하고, 용접속도가 너무 빠르며, 아크를 짧게 유지하기 어려운 경우 모재 및 용접부의 일부가 녹아서 흠 또는 오목한 부분이 생기는 용접부 결함은?

- ① 잔류응력 ② 융합불량 ③ 기공 ④ 언더컷

48. 산업안전보건법령상 승강기의 종류로 옳지 않은 것은?

- ① 승객용 엘리베이터 ② 리프트 ③ 화물용 엘리베이터 ④ 승객화물용 엘리베이터

49. 다음 중 선반의 방호장치로 가장 거리가 먼 것은?

- ① 쉴드(Shield) ② 슬라이딩 ③ 척 커버 ④ 칩 브레이커

50. 산업안전보건법령상 목재가공용 동근톱 작업에서 분할날과 톱날 원주면과의 간격은 최대 얼마 이내가 되도록 조정하는가?

- ① 10mm ② 12mm ③ 14mm ④ 16mm

51. 기계설비에서 기계 고장률의 기본 모형으로 옳지 않은 것은?

- ① 조립 고장 ② 초기 고장 ③ 우발 고장 ④ 마모 고장

52. 산업안전보건법령상 화물의 낙하에 의해 운전자가 위험을 미칠 경우 지게차의 헤드가드(head guard)는 지게차의 최대 하중의 몇 배가 되는 등분포정하중에 견디는 강도를 가져야 하는가? (단, 4톤을 넘는 값은 제외)

- ① 1배 ② 1.5배 ③ 2배 ④ 3배

53. 다음 중 컨베이어의 안전장치로 옳지 않은 것은?

- ① 비상정지장치 ② 반발예방장치 ③ 역회전방지장치 ④ 이탈방지장치

54. 크레인에 돌발 상황이 발생한 경우 안전을 유지하기 위하여 모든 전원을 차단하여 크레인을 급정지시키는 방호장치는?

- ① 호이스트 ② 이탈방지장치 ③ 비상정지장치 ④ 아우트리거

55. 산업안전보건법령상 프레스 등을 사용하여 작업을 할 때에 작업시작 전 점검 사항으로 가장 거리가 먼 것은?

- ① 압력방출장치의 기능 ② 클러치 및 브레이크의 기능 ③ 프레스의 금형 및 고정볼트 상태 ④ 1행정 1정지기구·급정지장치 및 비상정지장치의 기능

56. 다음 중 프레스 방호장치에서 게이트 가드식 방호장치의 중

류를 작동방식에 따라 분류할 때 가장 거리가 먼 것은?

- ① 경사식 ② 하강식 ③ 도립식 ④ 횡 슬라이드 식

57. 선반작업의 안전수칙으로 가장 거리가 먼 것은?

- ① 기계에 주유 및 청소를 할 때에는 저속회전에서 한다. ② 일반적으로 가공물의 길이가 지름의 12배 이상일 때는 방진구를 사용하여 선반작업을 한다. ③ 바이트는 가급적 짧게 설치한다. ④ 면장갑을 사용하지 않는다.

58. 다음 중 보일러 운전 시 안전수칙으로 가장 적절하지 않은 것은?

- ① 가동 중인 보일러에는 작업자가 항상 정위치를 떠나지 아니할 것 ② 보일러의 각종 부속장치의 누설상태를 점검할 것 ③ 압력방출장치는 매 7년마다 정기적으로 작동시험을 할 것 ④ 노 내의 환기 및 통풍장치를 점검할 것

59. 산업안전보건법령상 크레인에서 권과방지장치의 달기구 뒷면이 권상장치의 아랫면과 접촉할 우려가 있는 경우 최소 몇 m 이상 간격이 되도록 조정하여야 하는가? (단, 직동식 권과방지장치의 경우는 제외)

- ① 0.1 ② 0.15 ③ 0.25 ④ 0.3

60. 슬라이드가 내려옴에 따라 손을 쳐내는 막대가 좌우로 왕복하면서 위험한계에 있는 손을 보호하는 프레스 방호장치는?

- ① 수인식 ② 게이트 가드식 ③ 반발예방장치 ④ 손쳐내기식

4과목 : 전기위험방지기술

61. KS C IEC 60079-0에 따른 방폭기기에 대한 설명이다. 다음 빈칸에 들어갈 알맞은 용어는?

(㉔)은 EPL로 표현되며 점화원이 될 수 있는 가능성에 기초하며 기기에 부여된 보호등급이다. EPL의 등급 중 (㉕)은 정상 작동, 예상된 오작동, 드문 오작동 중에 점화원이 될 수 없는 "매우 높은" 보호 등급의 기기이다.

- ① ㉔ Explosion Protection Level, ㉕ EPL Ga ② ㉔ Explosion Protection Level, ㉕ EPL Gc ③ ㉔ Equipment Protection Level, ㉕ EPL Ga ④ ㉔ Equipment Protection Level, ㉕ EPL Gc

62. 접지계통 분류에서 TN접지방식이 아닌 것은?

- ① TN-S 방식 ② TN-C 방식 ③ TN-T 방식 ④ TN-C-S 방식

63. 접지공사의 종류에 따른 접지선(연동선)의 굵기 기준으로 옳은 것은?(관련 규정 개정전 문제로 여기서는 기존 정답인 1번을 누르면 정답 처리됩니다. 자세한 내용은 해설을 참고하세요.)

- ① 제1종 : 공칭단면적 6mm² 이상

- ② 제2종 : 공칭단면적 12mm² 이상
- ③ 제3종 : 공칭단면적 5mm² 이상
- ④ 특별 제3종 : 공칭단면적 3.5mm² 이상

64. 최소 착화에너지가 0.26mJ인 가스에 정전용량이 100pF인 대전 물체로부터 정전기 방전에 의하여 착화할 수 있는 전압은 약 몇 V 인가?

- ① 2240 ② 2260
- ③ 2280 ④ 2300

65. 누전차단기의 구성요소가 아닌 것은?

- ① 누전검출부 ② 영상변류기
- ③ 차단장치 ④ 전력퓨즈

66. 우리나라의 안전전압으로 볼 수 있는 것은 약 몇 V 인가?

- ① 30 ② 50
- ③ 60 ④ 70

67. 산업안전보건기준에 관한 규칙에 따라 누전에 의한 감전의 위험을 방지하기 위하여 접지를 하여야 하는 대상의 기준으로 틀린 것은? (단, 예외조건은 고려하지 않는다)

- ① 전기기계·기구의 금속제 외함
- ② 고압 이상의 전기를 사용하는 전기기계·기구 주변의 금속제 칸막이
- ③ 고정배선에 접속된 전기기계·기구 중 사용전압이 대지 전압 100V를 넘는 비충전 금속제
- ④ 코드와 플러그를 접속하여 사용하는 전기기계·기구 중 휴대형 전동기계·기구의 노출된 비충전 금속체

68. 정전유도를 받고 있는 접지되어 있지 않은 도전성 물체에 접촉한 경우 전격을 당하게 되는데 이 때 물체에 유도된 전압 V(V)를 옳게 나타낸 것은? (단, E는 송전선의 대지전압, C₁는 송전선과 물체사이의 정전용량, C₂는 물체와 대지사이의 정전용량이며, 물체와 대지사이의 저항은 무시한다.)

① $V = \frac{C_1}{C_1 + C_2} \times E$ ② $V = \frac{C_1 + C_2}{C_1} \times E$

③ $V = \frac{C_1}{C_1 \times C_2} \times E$ ④ $V = \frac{C_1 \times C_2}{C_1} \times E$

69. 교류 아크 용접기의 자동전격방지장치는 전격의 위험을 방지하기 위하여 아크 발생이 중단된 후 약 1초 이내에 출력측 무부하 전압을 자동적으로 몇 V 이하로 저하시켜야 하는가?

- ① 85 ② 70
- ③ 50 ④ 25

70. 정전기 발생에 영향을 주는 요인으로 가장 적절하지 않은 것은?

- ① 분리속도 ② 물체의 질량
- ③ 접촉면적 및 압력 ④ 물체의 표면상태

71. 다음에서 설명하고 있는 방폭구조는?

전기기계의 정상 사용 조건 및 특정 비정상 상태에서 과도한 온도 상승, 마크 또는 스파크의 발생위험을 방지하기 위해 추가적인 안전 조치를 취한 것으로 Ex e라고 표시한다.

- ① 유입 방폭구조 ② 압력 방폭구조
- ③ 내압 방폭구조 ④ 안전증 방폭구조

72. KS C IEC 60079-6에 따른 유입방폭구조 “o” 방폭장비의 최소 IP 등급은?

- ① IP44 ② IP54
- ③ IP55 ④ IP66

73. 20Ω의 저항 중에 5A의 전류를 3분간 흘렸을 때의 발열량(cal)은?

- ① 4320 ② 90000
- ③ 21600 ④ 376560

74. 다음은 어떤 방전에 대한 설명인가?

정전기가 대전되어 있는 부도체에 접지체가 접근한 경우 대전물체와 접지체 사이에 발생하는 방전과 거의 동시에 부도체의 표면을 따라서 발생하는 나뭇가지 형태의 발광을 수반하는 방전

- ① 코로나 방전 ② 뇌상 방전
- ③ 연면방전 ④ 불꽃 방전

75. 가연성 가스가 있는 곳에 저압 옥내전기설비를 금속관 공사에 의해 시설하고자 한다. 관 상호 간 또는 관과 전기기계 기구와는 몇 톨 이상 나사조임으로 접속하여야 하는가?

- ① 2톨 ② 3톨
- ③ 4톨 ④ 5톨

76. 전기시설의 직접 접촉에 의한 감전방지 방법으로 적절하지 않은 것은?

- ① 충전부는 내구성이 있는 절연물로 완전히 덮어 감쌀 것
- ② 충전부가 노출되지 않도록 폐쇄형 외함이 있는 구조로 할 것
- ③ 충전부에 충분한 절연효과가 있는 방호망 또는 절연 덮개를 설치할 것
- ④ 충전부는 출입이 용이한 전개된 장소에 설치하고, 위험 표시 등의 방법으로 방호를 강화할 것

77. 심실세동을 일으키는 위험한계 에너지는 약 몇 J 인가? (단,

$I = \frac{165}{\sqrt{T}}$ mA, 인체의 전기저항 R=800Ω, 통전시간 T=1초 이다.)

- ① 12 ② 22
- ③ 32 ④ 42

78. 전기기계·기구에 설치되어 있는 감전방지용 누전차단기의 정격감도전류 및 작동시간으로 옳은 것은? (단, 정격전부하 전류가 50A 미만이다.)

- ① 15mA이하, 0.1초 이내 ② 30mA이하, 0.03초 이내
- ③ 50mA이하, 0.5초 이내 ④ 100mA이하, 0.05초 이내

79. 피뢰레벨에 따른 회전구체 반경이 틀린 것은?

- ① 피뢰레벨 I : 20m ② 피뢰레벨 II : 30m
- ③ 피뢰레벨 III : 50m ④ 피뢰레벨 IV : 60m

80. 지락사고 시 1초를 초과하고 2초 이내에 고압전로를 자동 차단하는 장치가 설치되어 있는 고압전로에 제2종 접지공사를 하였다. 접지저항은 몇 Ω이하로 유지해야 하는가? (단, 변압기의 고압측 전로의 1선 지락전류는 10A 이다.)(관련 규정 개정전 문제로 여기서는 기존 정답인 3번을 누르면 정답 처리됩니다. 자세한 내용은 해설을 참고하세요.)

- ① 10Ω ② 20Ω
- ③ 30Ω ④ 40Ω

5과목 : 화학설비위험방지기술

81. 사업주는 가스폭발 위험장소 또는 분진폭발 위험장소에 설치되는 건축물 등에 대해서는 규정에서 정한 부분을 내화구조로 하여야 한다. 다음 중 내화구조로 하여야 하는 부분에 대한 기준이 틀린 것은?

- ① 건축물의 기둥 : 지상 1층(지상 1층의 높이가 6미터를 초과하는 경우에는 6미터)까지
- ② 위험물 저장·취급용기의 지지대(높이가 30센티미터 이하인 것은 제외) : 지상으로부터 지지대의 끝부분까지
- ③ 건축물의 보 : 지상2층(지상 2층의 높이가 10미터를 초과하는 경우에는 10미터)까지
- ④ 배관·전선관 등의 지지대 : 지상으로부터 1단(1단의 높이가 6미터를 초과하는 경우에는 6미터)까지

82. 다음 물질 중 인화점이 가장 낮은 물질은?

- ① 이황화탄소 ② 아세톤
- ③ 크실렌 ④ 경유

83. 물의 소화력을 높이기 위하여 물에 탄산칼륨(K₂CO₃)과 같은 염류를 첨가한 소화약제를 일반적으로 무엇이라 하는가?

- ① 포 소화약제 ② 분말 소화약제
- ③ 강화액 소화약제 ④ 산알칼리 소화약제

84. 다음 중 분진의 폭발위험성을 증대시키는 조건에 해당하는 것은?

- ① 분진의 온도가 낮을수록
- ② 분위기 중 산소 농도가 작을수록
- ③ 분진 내의 수분농도가 작을수록
- ④ 분진의 표면적이 입자체적에 비교하여 작을수록

85. 다음 중 관의 지름을 변경하는데 사용되는 관의 부속품으로 가장 적절한 것은?

- ① 엘보우(Elbow) ② 커플링(Coupling)
- ③ 유니온(Union) ④ 리듀서(Reducer)

86. 가연성물질의 저장 시 산소농도를 일정한 값 이하로 낮추어 연소를 방지할 수 있는데 이때 첨가하는 물질로 적합하지 않은 것은?

- ① 질소 ② 이산화탄소
- ③ 헬륨 ④ 일산화탄소

87. 다음 중 물과의 반응성이 가장 큰 물질은?

- ① 니트로글리세린 ② 이황화탄소

- ③ 금속나트륨 ④ 석유

88. 산업안전보건법령상 위험물질의 종류에서 폭발성 물질에 해당하는 것은?

- ① 니트로화합물 ② 등유
- ③ 황 ④ 질산

89. 어떤 습한 고체재료 10kg을 완전 건조 후 무게를 측정하였더니 6.8kg 이었다. 이 재료의 건량 기준 함수율은 몇 kg·H₂O/kg 인가?

- ① 0.25 ② 0.36
- ③ 0.47 ④ 0.58

90. 대기압하에서 인화점이 0℃ 이하인 물질이 아닌 것은?

- ① 메탄올 ② 이황화탄소
- ③ 산화프로필렌 ④ 디에틸에테르

91. 가연성가스의 폭발범위에 관한 설명으로 틀린 것은?

- ① 압력 증가에 따라 폭발 상한계와 하한계가 모두 현저히 증가한다.
- ② 불활성가스를 주입하면 폭발범위는 좁아진다.
- ③ 온도의 상승과 함께 폭발범위는 넓어진다.
- ④ 산소 중에서 폭발범위는 공기 중에서 보다 넓어진다.

92. 열교환기의 정기적 점검을 일상점검과 개방점검으로 구분할 때 개방점검 항목에 해당하는 것은?

- ① 보냉재의 파손 상황
- ② 플랜지부나 용접부에서의 누출 여부
- ③ 기초볼트의 체결 상태
- ④ 생성물, 부착물에 의한 오염 상황

93. 다음 중 분진 폭발을 일으킬 위험이 가장 높은 물질은?

- ① 염소 ② 마그네슘
- ③ 산화칼슘 ④ 에틸렌

94. 산업안전보건법령에서 인화성 액체를 정의할 때 기준이 되는 표준압력은 몇 kPa 인가?

- ① 1 ② 100
- ③ 101.3 ④ 273.15

95. 다음 중 C급 화재에 해당하는 것은?

- ① 금속화재 ② 전기화재
- ③ 일반화재 ④ 유류화재

96. 액화 프로판 310kg을 내용적 50L 용기에 충전할 때 필요할 소요 용기의 수는 몇 개인가? (단, 액화 프로판의 가스정수는 2.35이다.)

- ① 15 ② 17
- ③ 19 ④ 21

97. 다음 중 가연성 가스의 연소형태에 해당하는 것은?

- ① 분해연소 ② 증발연소
- ③ 표면연소 ④ 확산연소

98. 다음 중 산업안전보건법령상 위험물질의 종류에 있어 인화성 가스에 해당하지 않은 것은?

- ② 버팀대의 긴압(緊壓)의 정도
- ③ 부재의 손상·변형·부식·변위 및 탈락의 유무와 상태
- ④ 지표수의 흐름 상태

114. 말비계를 조립하여 사용하는 경우 지주부재와 수평면의 기울기는 얼마 이하로 하여야 하는가?

- ① 65° ② 70°
- ③ 75° ④ 80°

115. 지반 등의 굴착 시 위험을 방지하기 위한 연암 지반 굴착면의 기울기 기준으로 옳은 것은?(관련 규정 개정전 문제로 여기서는 기존 정답인 3번을 누르면 정답 처리됩니다. 자세한 내용은 해설을 참고하세요.)

- ① 1 : 0.3 ② 1 : 0.4
- ③ 1 : 0.5 ④ 1 : 0.6

116. 작업발판 및 통로의 끝이나 개구부로서 근로자가 추락할 위험이 있는 장소에서 난간등의 설치가 매우 곤란하거나 작업의 필요상 임시로 난간등을 해체하여야 하는 경우에 설치하여야 하는 것은?

- ① 구멍구 ② 수직보호망
- ③ 석면포 ④ 추락방호망

117. 흙막이 공법을 흙막이 지지방식에 의한 분류와 구조방식에 의한 분류로 나눌 때 다음 중 지지방식에 의한 분류에 해당하는 것은?

- ① 수평 버팀대식 흙막이 공법 ② H-Pile 공법
- ③ 지하연속벽 공법 ④ Top down method 공법

118. 철골용접부의 내부결함을 검사하는 방법으로 가장 거리가 먼 것은?(문제 오류로 가답안 발표시 1번으로 발표되었지만 확정답안 발표시 1, 3, 4번이 정답처리 되었습니다. 여기서는 가답안인 1번을 누르시면 정답 처리 됩니다.)

- ① 알칼리 반응 시험 ② 방사선 투과시험
- ③ 자기분말 탐상시험 ④ 침투 탐상시험

119. 유해위험방지 계획서를 제출하려고 할 때 그 첨부서류와 가장 거리가 먼 것은?

- ① 공사개요서 ② 산업안전보건관리비 작성요령
- ③ 전체 공정표 ④ 재해 발생 위험 시 연락 및 대피방법

120. 콘크리트 타설작업과 관련하여 준수하여야 할 사항으로 가장 거리가 먼 것은?

- ① 당일의 작업을 시작하기 전에 해당 작업에 관한 거푸집동바리 등의 변형·변위 및 지반의 침하 유무 등을 점검하고 이상이 있으면 보수할 것
- ② 콘크리트를 타설하는 경우에는 편심이 발생하지 않도록 골고루 분산하여 타설할 것
- ③ 진동기의 사용은 많이 할수록 균일한 콘크리트를 얻을 수 있으므로 가급적 많이 사용할 것
- ④ 설계도서상의 콘크리트 양생기간을 준수하여 거푸집동바리 등을 해체할 것

1	2	3	4	5	6	7	8	9	10
②	②	①	②	④	②	③	④	④	③
11	12	13	14	15	16	17	18	19	20
②	③	①	③	④	④	①	②	③	②
21	22	23	24	25	26	27	28	29	30
③	①	②	④	④	④	①	③	④	①
31	32	33	34	35	36	37	38	39	40
①	③	③	②	②	③	②	④	②	②
41	42	43	44	45	46	47	48	49	50
①	③	②	④	④	④	④	②	②	②
51	52	53	54	55	56	57	58	59	60
①	③	②	③	①	①	①	③	③	④
61	62	63	64	65	66	67	68	69	70
③	③	①	③	④	①	③	①	④	②
71	72	73	74	75	76	77	78	79	80
④	④	③	③	④	④	②	②	③	③
81	82	83	84	85	86	87	88	89	90
③	①	③	③	④	④	③	①	③	①
91	92	93	94	95	96	97	98	99	100
①	④	②	③	②	①	④	④	①	①
101	102	103	104	105	106	107	108	109	110
①	③	②	②	①	④	①	③	③	④
111	112	113	114	115	116	117	118	119	120
④	②	④	③	③	④	①	①	②	③