

1과목 : 승강기 개론

1. 기계실의 조명 및 환기시설에 관한 설명으로 옳은 것은?

- ① 조명스위치는 기계실 어디든지 조작하기 쉽도록 설치하면 된다.
- ② 조도는 기기가 배치된 바닥면에서 80Lux 이상이어야 한다.
- ③ 조명전원은 엘리베이터의 제어전원과 별도로 분리하여야 한다.
- ④ 자연환기하는 경우에 환기창 또는 루버 등의 합산한 크기는 기계실 바닥면적의 1/10 이상이어야 한다.

2. 교류엘리베이터의 제어방식이 아닌 것은?

- ① VVVF 제어 ② 워드레오나드 제어
- ③ 교류귀환 제어 ④ 교류일단 속도 제어

3. 유입완충기가 비상작동되어 플러저를 완전히 압축시킨 상태에서 완전복귀 시간까지 소요되는 시간을 몇 초이내로 제한하고 있는가?

- ① 30 ② 60
- ③ 90 ④ 120

4. 견인비(Traction ratio)의 선정 방법은

- ① 무부하시와 전부하시의 값이 가능한 한 같도록 하고 그 절대값이 적을수록 좋다.
- ② 무부하시와 전부하시의 값의 차를 크게 하고 그 값도 가능한 크게한다.
- ③ 균형비 값은 커야하고 무부하시와 전부하시의 값은 동일해야 한다.
- ④ 균형비 값은 적어야 하고 무부하시와 전부하시의 값은 고려하지 않는다.

5. 일반적으로 카틀(CAR FRAME)에는 브레이스 로드(BRACE ROD OR SIDE BRABE)를 설치한다. 이 브레이스 로드로 인하여 하부체대에 받는 힘의 어느 정도가 카주 또는 상부체대에 분포되는가?

- ① 1/8 ② 3/8
- ③ 1/5 ④ 3/5

6. 가이드 레일에 대한 설명으로 틀린 것은>?

- ① 비상정지장치가 작동하는 곳에는 정밀가공한 T자형의 레일이 사용된다.
- ② 레일 규격의 호칭은 가공 완료된 1m당의 중량을 표시한 것이다.
- ③ 레일의 표준길이는 5m 이다
- ④ 균형추측 레일에는 강판성형한 레일을 사용할 수도 있다.

7. 엘리베이터를 3~8대 병설할 때에 각 카를 불필요한 동작없이 합리적으로 운행관리하는 조작방식은?

- ① 군승합자동식 ② 군관리 방식
- ③ 자동식 ④ 범용방식

8. 승객용 엘리베이터의 카내에서 정전시 예비조명장치의 조도에 대한 내용으로 옳은 것은?(관련 규정 개정전 문제로 여기서는 기존정답인 2번을 누르면 정답 처리 됩니다. 자세한 내용은 해설을 참고하세요.)

- ① 정전시에 램프중심으로부터 1.5m 떨어진 수직면상에서 측정하여 1Lux 이상의 조도를 확보해야한다.

- ② 정전시에 램프중심으로부터 2m 떨어진 수직면상에서 측정하여 1Lux 이상의 조도를 확보해야한다.
- ③ 정전시에 램프중심으로부터 1.5m 떨어진 수직면상에서 측정하여 10Lux 이상의 조도를 확보해야한다.
- ④ 정전시에 램프중심으로부터 2m 떨어진 수직면상에서 측정하여 10Lux 이상의 조도를 확보해야한다.

9. 카 바닥 앞부분과 승강로 벽과의 수평거리는 몇 [mm] 이하이어야 하는가?(관련 규정 개정전 문제로 여기서는 기존 정답인 2번을 누르면 정답 처리됩니다. 자세한 내용은 해설을 참고하세요.)

- ① 100 ② 125
- ③ 140 ④ 150

10. 정지 레오나드 방식에서 정지형 반도체 소자를 이용하여 교류를 직류로 전환시킴과 동시에 무엇을 제어하여 직류 전압을 변화 시키는가?

- ① 점호각 ② 주파수
- ③ 전압 ④ 전류

11. 제동기에 대한 설명으로 옳은 것은?(관련 규정 개정전 문제로 여기서는 기존 정답인 4번을 누르면 정답 처리됩니다. 자세한 내용은 해설을 참고하세요.)

- ① 승객용 엘리베이터는 120%의 부하로 전속하강 중 위험 없이 감속정지 할 수 있어야 한다.
- ② 화물용 엘리베이터는 125%의 부하로 전속하강 중 위험 없이 감속정지 할 수 있어야 한다.
- ③ 제동력은 전원이 흐르는 사이에 전자코일에 의해 주어진 다.
- ④ 제동력을 너무 크게 하면 감속도가 크게 된다.

12. 최대 굽힘모멘트 390000[kg·cm], 사용재료 H250 x 250 x 14 x 9(단면계수 867[cm³])인 기계대의 안전율은 약 얼마인가? (단, 재질의 허용응력은 4000[kg/cm²]이다)

- ① 6 ② 9
- ③ 11 ④ 15

13. 승강장 도어에 대한 설명으로 옳은 것은

- ① 승강장 도어의 비상키는 기준층에만 설치하면 된다.
- ② 중앙 개폐방식의 도어는 닫힌 상태에서 금속부분 사이의 거리가 없어야 한다.
- ③ 승강장 도어와 문틀 사이의 여유거리는 6mm이상 이어야 한다.
- ④ 도어는 출입구의 위와 양쪽 옆, 그리고 상호간에 겹쳐야 한다.

14. 엘리베이터의 카를 휴지 및 재가동시킬 목적으로 설치하는 부속 장치는?

- ① 파킹스위치 ② 강제정지스위치
- ③ 비상정지스위치 ④ 스톱다운스위치

15. 에스컬레이터 적재하중을 산출하는데 필요한 사항이 아닌 것은?

- ① 디딤판(스텝)의 폭 ② 층고
- ③ 반력점간거리 ④ 디딤판(스텝)의 수평 투영단면적

16. 완충기의 행정은 정격속도의 115% 속도로 적용범위의 중량을 충돌시킨 경우 카 또는 균형추의 평균 감속도는 얼마 이하인가? 또한 순간 최대 감속도는 2.5g(가속도)를 넘는 감

속도가 몇 초 이상 지속하지 않아야 하는가?

- ① 0.8g 이하, 0.04초
- ② 1.0g 이하, 0.04초
- ③ 1.5g 이하, 0.4초
- ④ 2.5g 이하, 0.4초

17. 기계식주차장치안에서 자동차를 입·출고 하는 사람이 출입하는 통로의 너비와 높이가 맞는 것은?

- ① 너비:30cm이상, 높이:1.6m 이상
- ② 너비:50cm이상, 높이:1.8m 이상
- ③ 너비:60cm이상, 높이: 2m 이상
- ④ 너비:80cm이상, 높이: 2m 이상

18. 유압 엘리베이터의 VWF 속도제어에 대한 설명으로 옳지 않은 것은?

- ① 로프식 엘리베이터와 동일한 주행곡선이 얻어진다.
- ② 기동·정지시 쇼크가 없이 원활하고 정지는 바로 착상하게 된다.
- ③ 유량제어 밸브를 사용하지 않으므로 작동유의 온도변화 및 압력변화에 영향을 받는다.
- ④ 상승 운전시 필요한 유량을 펌프에서 토출하므로 낭비가 없다.

19. 승객용 엘리베이터의 브레이크 성능을 알아보기 위하여 일정한 부하를 싣고 전속하강중인 카를 안전하게 감속 및 정지시킬 수 있는지를 확인하려고 한다. 몇 %의 부하를 싣어야 하는가?

- ① 100
- ② 110
- ③ 115
- ④ 125

20. 조속기의 로프 및 도르래의 구비조건 중 틀린 것은?

- ① 조속기 로프의 공칭지름은 최소 6mm 이상이어야 한다.
- ② 조속기 도르래의 피치지름과 로프의 공칭지름의 비는 30배 이상이어야 한다.
- ③ 속기 로프는 비상정지장치로부터 분리시킬 수 없어야 한다.
- ④ 조속기의 컷치가 작동되었을 때 조속기로프가 갖추어야 할 인장력은 300N 이상이어야 한다.

2과목 : 승강기 설계

21. 재해시 관제운전의 우선순위로 맞는 것은?

- ① 지진식 관제-> 화재시 관제 -> 정전시 관제
- ② 화재시 관제-> 지진시 관제 -> 정전시 관제
- ③ 지진시 관제-> 정전시 관제 -> 화재시 관제
- ④ 화재시 관제-> 정전시 관제 -> 지진시 관제

22. 엘리베이터의 각종 상태에 대한 비상운전예의 전환 가능성을 설명한 것이다. 틀린것은?

- ① 카내 비상스위치가 조작되어 있더라도 비상호출 운행은 가능하다.
- ② 내부 운전 휴지스위치가 동작되어 있더라도 비상호출 운행은 가능하다.
- ③ 파킹 스위치가 동작되어 있더라도 비상호출운행은 가능하다.
- ④ 지진관제에 의해 정지 중인 경우, 비상호출운행은 불가능하다.

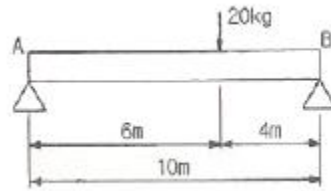
23. 가이드레일에 관한 설명 중 틀린것은?

- ① 가이드레일의 표준길이는 5m 이다
- ② 균형추에 비상정지장치를 설치할 경우 5K 가이드레일은 적합하지 않다.
- ③ 가이드레일의 규격에 대한 기준은 단위 길이당 중량으로 표시한다.
- ④ 가이드레일은 엘리베이터 운행속도와 관계가 밀접하다.

24. 전기자에 전류가 흐르면 그 전류에 대한 자속이 발생해 주자극의 자속에 영향을 미쳐 주자속이 감소하고, 전기자 중성점이 이동하는 현상을 일으키는데, 이것을 무엇이라 하는가?

- ① 자속 반작용
- ② 주 자극 반작용
- ③ 전류 반작용
- ④ 전기자 반작용

25. 그림과 같은 보의 지정반력 R_A, R_B 는 각각 몇 kg 인가?



- ① $R_A=4, R_B=8$
- ② $R_A=12, R_B=8$
- ③ $R_A=8, R_B=12$
- ④ $R_A=8, R_B=4$

26. 승강기에 대한 주요 부품 중 설치 위치가 다른 한 가지는?

- ① 균형추
- ② 이동케이블
- ③ 가이드레일
- ④ 조속기

27. 승강기검사기준에서 정하는 에스컬레이터의 경사도가 30°이하 이고 층고가 6m 이하 일 경우 속도 규정은? (단, 디딤판의 수가 3개 이상인 경우이다.)

- ① 30m/min 이하
- ② 40m/min 이하
- ③ 50m/min 이하
- ④ 60m/min 이하

28. 엘리베이터의 전원설비를 설계할 때 사용되는 부등률에 대한 설명으로 틀린 것은?

- ① 여러 대의 엘리베이터에 일괄적으로 전원을 공급하는 경우, 변압기의 용량은 부등률을 곱하여 저감시킬 수 있다.
- ② 사용 빈도가 크면 부등률이 크고 사용 빈도가 작으면 부등률도 작다.
- ③ 비상용 엘리베이터는 100% 동시 사용으로 본다.
- ④ 부등률은 엘리베이터의 기동 빈도와는 관계가 없다.

29. 엘리베이터용 도어머신에서 요구되는 사항과 관련이 없는 것은?

- ① 작동이 원활하고 소음이 발생하지 않을것
- ② 카상부에 설치하기 위하여 소형 경량일 것
- ③ 가격이 고가일 것
- ④ 동작회수가 엘리베이터의 기동회수의 2배가 되므로 보수가 용이할 것

30. 엘리베이터의 승강로에 관하여 틀린 것은?

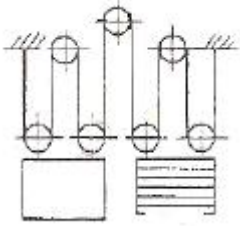
- ① 비상용엘리베이터의 승강로는 전층 단일구조로 연결하여야 한다.
- ② 꼭대기 틈새란 카가 정지했을 때 상부체대의 윗면에서 승강로 천정 사이의 수직거리이다.

- ③ 정격속도가 90m/min인 로프식 엘리베이터의 꼭대기 틈새는 1.6cm 이상이면 된다.
- ④ 로프식 엘리베이터의 오버헤드는 출입구 높이+꼭대기 틈새이다.

31. 60Hz, 4극 전동기의 슬립이 5%인 경우 전부하 회전수는 몇 rpm 인가?

- ① 1710 ② 1890
- ③ 3420 ④ 3780

32. 그림은 로프식 승강기의 로핑 방법을 나타낸 것이다.



- ① 1:1 로핑 ② 2:1로핑
- ③ 3:1 로핑 ④ 4:1로핑

33. 다음 중 엘리베이터 진동의 발생 원인으로 잘못된 것은?

- ① 동기 : 회전저항에 의한 진동
- ② 감속기 : 기어 맞물림 진동
- ③ 출입문 : 승동부와 회전부의 진동
- ④ 가이드 레일 : 레일 접합부 통과시 진동

34. 기계대 강도 계산시 작용하는 하중에 포함되지 않는 것은?

- ① 기계대 자중 ② 권상기 자중
- ③ 로프자중 ④ 균형추 자중

35. 비상정지장치의 성능 시험과 관계가 없는 것은?

- ① 적용중량 ② 가이드 레일의 규격
- ③ 적용 작동속도 ④ 정지거리

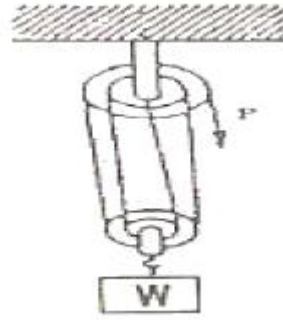
36. 다음중 엘리베이터의 조명전원 설비로 볼 수 없는 것은?

- ① 카내 형광등 전원
- ② 기계실 형광등 전원
- ③ 카 상부 환기용 팬(FAN) 전원
- ④ 카 상부 점검용 콘센트(Receptacle)전원

37. 엘리베이터의 일주시간을 계산할 때 고려되는 사항이 아닌 것은?

- ① 기준층 복귀시간 ② 주행시간
- ③ 도어개폐시간 ④ 승객 출입시간

38. 아래 그림의 복활차에서 W=1000kg 일 때, 당기는 힘 P는 몇 kg 인가?



- ① 1000 ② 200
- ③ 500 ④ 250

39. 엘리베이터의 정격속도가 60m/min 이다. 이때 꼭대기틈새 및 피트 깊이의 규정으로 맞는 것은?

- ① 꼭대기틈새 : 1.2m, 피트깊이 : 1.2m
- ② 꼭대기틈새 : 1.2m, 피트깊이 : 1.5m
- ③ 꼭대기틈새 : 1.4m, 피트깊이 : 1.5m
- ④ 꼭대기틈새 : 1.5m, 피트깊이 : 1.4m

40. 기계실에 설치할 수 있는 설비로 적합한 것은?

- ① 급배수설비 ② 피뢰침선
- ③ 변압기 ④ 비상 방송용 스피커

3과목 : 일반기계공학

41. 다이캐스팅(die casting)주조법의 특징에 대한 설명으로 맞는 것은?

- ① 다품종 소량 생산에 적합하다.
- ② 제품의 크기에 제한을 받지 않는다.
- ③ 용융점이 높은 금속은 주조가 곤란하다.
- ④ 주물의 표면이 거칠고, 치수 정밀도가 낮다.

42. 다음 중 축에 삼각형의 작은 이를 만들어 축과 보스를 고정시킨 키의 일종인 것은?

- ① 월뿔 키 ② 페더키
- ③ 반달 키 ④ 세레이션

43. 다음 중 펌프를 분류할 때 용적형에 속하는 것은?

- ① 왕복식 ② 원심식
- ③ 축류식 ④ 사류식

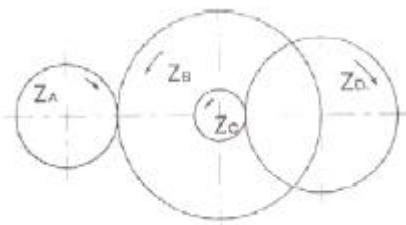
44. 용접이음이 리벳이음에 비하여 우수한 점이 아닌 것은?

- ① 기밀성이 좋다.
- ② 재료를 절감시킬 수 있다.
- ③ 잔류 응력을 남기지 않는다.
- ④ 가공 모양을 자유롭게 할 수 있다.

45. 선반에서 사용하는 단동척을 가장 바르게 설명한 것은?

- ① 조(jaw)가 4개이며 조가 각각 움직이므로 불규칙한 형상의 가공물의 고정 사용한다.
- ② 조(jaw)가 3개이며 원형, 정다각형의 가공물을 물리는데 편리하며 조가 마모되면 정밀도도 저하된다.
- ③ 콜릿을 이용하여 자동선반, 터릿선반, 시계선반 등에 사용되는 척이다.

- ④ 전자석을 이용하여 장, 탈착이 쉽도록 하여 대량생산에 주로 사용되는 척이다.
46. 한 개 또는 여러 개의 회전자에 의하여 액체에 원심력을 주거나 압력을 일으켜 양수하는 펌프는?
 ① 피스톤 펌프 ② 기어 펌프
 ③ 원심 펌프 ④ 마찰 펌프
47. 굽힘모멘트 $45000N \cdot mm$ 을 받는 연강재 축 (solid shaft)의 지름은 약 몇 mm 인가? (단, 이 때 발생한 굽힘응력 σ_b 는 $5N/mm$ 이다.)
 ① 35.8 ② 45.1
 ③ 56.8 ④ 60.1
48. 전위기어를 사용하는 장점이 아닌 것은?
 ① 언더컷 방지
 ② 이의 강도를 증대
 ③ 베어링 압력을 증대
 ④ 원하는 축간거리의 조절 가능
49. 회전축은 분당 1000 회전으로 100 kW의 회전력을 전달한다. 굽힘 모멘트 $200N \cdot m$ 를 받을 때 상당 비틀림 모멘트는 몇 $N \cdot m$ 인가?
 ① 925.9 ② 955.4
 ③ 975.7 ④ 995.1
50. 보통 주철에 대한 설명으로 틀린 것은?
 ① 흑연의 모양 및 분포에 따라 기계적 성질이 좌우된다.
 ② 가단 주철과 칠드 주철이 이에 속한다.
 ③ 인장강도는 100~196 MPa 정도이다.
 ④ 기계 가공성이 좋고 값이 싸다.
51. 펄베트의 두께 x 나비가 5mm x 80mm 이고, 허용인장응력이 2MPa 일 때, 7.5m/s의 속도로 운전하면 전달할 수 있는 최대동력은 약 몇 kW인가? (단, 원심력은 무시하고, 장력비는 $e^{\mu\theta}=2.0$ 이다)
 ① 1.5 ② 3.0
 ③ 6.0 ④ 7.5
52. 애크미(Acme) 나사라고도 하며 공작기계의 이송용, 선반의 리드, 나사 프레스, 바이스 등에 사용되는 나사는?
 ① 둥근나사 ② 사각나사
 ③ 사다리꼴나사 ④ 톱나사
53. 속도비 $i=0.2$ 이고 기어 잇수가 $Z_A=16, Z_C=10, 2Z_B=Z_D$ 일 때 Z_B 와 Z_D 는?



- ① $Z_B=10, Z_D=20$ ② $Z_B=20, Z_D=40$
 ③ $Z_B=10, Z_D=30$ ④ $Z_B=20, Z_D=60$

54. 지름 60mm 의 축이 500 rpm 으로 회전하여 동력을 전달하고, 축의 허용전단응력이 $100N/cm^2$ 일 때 최대허용 전달 동력은 약 몇 kW 인가?
 ① 2.22 ② 3.24
 ③ 3.63 ④ 3.87
55. 배관시스템에서 공동현상(cavitation) 발생에 따른 결과로 나타나는 현상이 아닌 것은?
 ① 소재의 손상 ② 기포 발생 저하
 ③ 소음 진동의 발생 ④ 체어 특성의 저하
56. 강에 인성을 부여하여 신율 및 충격치를 개선시키는 것이 주목적인 열처리 방법은?
 ① 뜨임 ② 불림
 ③ 풀림 ④ 담금질
57. 재료가 인장을 받을 경우 변형 전.후의 체적변화가 없다고 가정할 때 프와송비 (Poisson's ratio)는 ()보다 작아야 한다. ()안에 맞는 수치는 ?
 ① 0.1 ② 0.3
 ③ 0.5 ④ 1.0
58. 선삭작업에서 공구의 바이트에 크레이터 마멸이 발생하는 위치는?
 ① 옆날 ② 상면 경사면
 ③ 전면 여유면 ④ 측면 여유면
59. 탄소강의 열처리 중에서 담금질에 관한 설명으로 올바른 것은?
 ① 잔류응력을 제거하는 작업으로 어닐링이라고도 한다.
 ② A_1 변태점 이상의 온도에서 가열한 후 물 등에 급랭시켜 경도를 높이는 작업이다.
 ③ 경도를 낮추고 인성을 부여하는 작업으로 노멀라이징이라고도 한다.
 ④ A_1 변태점 이하의 온도에서 가열한 후 냉각하여 인성을 높이는 작업이다.
60. 외접 원통마찰차의 축간거리가 300mm, 원동차의 회전수가 200rpm, 종동차의 회전수가 100rpm 일 때 원동차의 지름 (D_1)과 종동차의 지름(D_2)는 각각 몇 mm 인가?
 ① $D_1=400, D_2=200$ ② $D_1=200, D_2=400$
 ③ $D_1=200, D_2=100$ ④ $D_1=100, D_2=200$

4과목 : 전기제어공학

61. 논리식 $X = AB + \overline{BC}$ 에서 작동 설명이 잘못된 것은?
 ① $A=1, B=0, C=1$ 이면 $X=1$ 이다
 ② $A=1, B=1, C=0$ 이면 $X=1$ 이다
 ③ $A=0, B=0, C=0$ 이면 $X=0$ 이다
 ④ $A=0, B=0, C=1$ 이면 $X=1$ 이다
62. PLC(Programmable Logic Controller) CPU부의 구성과 거리가 먼 것은?
 ① 데이터 메모리부 ② 프로그램 메모리부

- ③ 연산부 ④ 전원부

63. 특정 방정식의 $s^3+2s^2+Ks+5=0$ 으로 주어지는 제어계가 안정하기 위한 K 값은?

- ① $K>0$ ② $K<0$
- ③ $K>5/2$ ④ $K<5/2$

64. 내부저항 r인 전류계의 측정범위를 n배로 확대하려면 전류계에 접속하는 분류기 저항값은?

- ① r/n ② $r/(n-1)$
- ③ $(n-1)r$ ④ nr

65. 제어 결과로 사이클링(cycling)과 오프셋(offset)을 발생시키는 동작은?

- ① on-off 동작 ② P 동작
- ③ I 동작 ④ PI 동작

66. 저항체에 전류가 흐르면 줄열이 발생하는데 이때 전류 I 와 전력 P의 관계는?

- ① $I=P$ ② $I=P^{0.5}$
- ③ $I=P^{1.5}$ ④ $I=P^2$

67. 평행한 두 도체에 같은 방향의 전류를 흘렸을 때 두 도체 사이에 작용하는 힘은 어떻게 되는가?

- ① 반발력 ② 힘이 작용하지 않는다.
- ③ 흡인력 ④ $2/2\pi r$ 의 힘

68. 전동기 2차측에 기동저항기를 접속하고 비례추이를 이요하여 기동하는 전동기는?

- ① 2중 농형 유도 전동기 ② 권선형 유도 전동기
- ③ 단상 유도전동기 ④ 2상 유도전동기

69. 제어계의 전달(transfer function)에 대한 설명 중 옳지 않은 것은?

- ① 모든 초기값을 0으로 한다.
- ② 시간(t)함수에 대한 입력 및 출력신호의 비이다.
- ③ 선형 제어계에서만 정의된다.
- ④ $t<0$ 에서는 제어계가 정지 상태를 의미한다.

70. 발전기의 유기 기전력의 방향을 알기위한 법칙은?

- ① 렌츠의 법칙 ② 패러데이의 법칙
- ③ 플레밍의 왼손법칙 ④ 플레밍의 오른 법칙

71. 일정 전압의 직류전원에 저항을 접속하고 정격전류를 흘 때의 전류보다 30%의 전류를 증가시키면 소요되는 저항값은 약 몇 배가 되는가?

- ① 0.60 ② 0.77
- ③ 1.30 ④ 3.0

72. 단상변압기 3대를 Δ 결선하여 부하에 전력을 공급하다가 1대의 고장으로 V 결선하여 사용하는 경우 공급할 수 있는 전력은 고장 전과 비교하면 약 몇 [%]가 되는가?

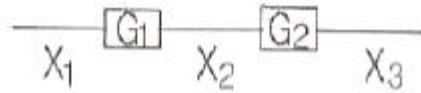
- ① 57.7% ② 66.7%
- ③ 5.0% ④ 86.6%

73. 변압기유의 열화방지 방법 중 맞지 않는 것은?

- ① 밀봉방식 ② 흡착제 방식

- ③ 수소 봉입 방식 ④ 개방형 콘서베이터

74. 그림과 같은 블록선도에서 X_3/X_1 는?



- ① G_1G_2 ② $1/G_1G_2$
- ③ G_2/G_1 ④ G_1/G_2

75. 제어장치가 제어대상에 가하는 제어신호로서 제어장치의 출력인 동시에 제어대상의 입력인 신호는?

- ① 조작량 ② 제어량
- ③ 목표량 ④ 이득량

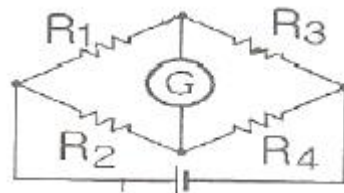
76. 다음 중 발열체의 구비조건으로 적절하지 않은 것은?

- ① 내열성이 클것
- ② 용융온도가 높을것
- ③ 고온에서 기계적 강도가 클 것
- ④ 산화온도가 낮을 것

77. 과도 응답의 소멸되는 정도를 나타내는 감쇠비(decayratio)는?

- ① 제2오버슈트/최대 오버슈트
- ② 제2오버슈트/제3 오버슈트
- ③ 제3오버슈트/제2 오버슈트
- ④ 최대 오버슈트/제2 오버슈트

78. 그림에서 $R_1 = 1000\Omega$, $R_2 = 100\Omega$, $R_3 = 800\Omega$ 일때 검류계 G의 지시가 0 이 되었다 저항 R4 는 몇오인가?



- ① 80 ② 160
- ③ 240 ④ 320

79. RLC 병렬회로에서 유도성회로가 되기 위한 조건은?

- ① $X_L > X_C$ ② $X_L < X_C$
- ③ $X_L = X_C$ ④ $X_L X_C = R$

80. 피상전력이 $P_a[kVA]$ 이고 무효전력이 $P_r[kvar]$ 인 경우 유효 전력 P[kW]를 나타낸 것은?

- ① $P = \sqrt{p_r^2 - p_a^2}$ ② $P = \sqrt{p_a^2 - p_r^2}$
- ③ $P = \sqrt{p_r^2 + p_r^2}$ ④ $P = \sqrt{p_a^2 + p_r^2}$

1	2	3	4	5	6	7	8	9	10
③	②	③	①	②	②	②	②	②	①
11	12	13	14	15	16	17	18	19	20
④	②	④	①	③	②	②	③	④	③
21	22	23	24	25	26	27	28	29	30
①	②	④	④	③	④	②	④	③	④
31	32	33	34	35	36	37	38	39	40
①	④	①	①	②	②	①	④	③	④
41	42	43	44	45	46	47	48	49	50
③	④	①	③	①	③	②	③	③	②
51	52	53	54	55	56	57	58	59	60
②	③	②	①	②	①	③	②	②	②
61	62	63	64	65	66	67	68	69	70
③	④	③	②	①	②	③	②	②	④
71	72	73	74	75	76	77	78	79	80
②	①	③	①	①	④	①	①	②	②