

귀할 때까지 요하는 시간은?

- ① 초 이하 90 ② 초 이하 120
- ③ 초 이하 150 ④ 초 이하 180

19. 수평보행기의 디딤면이 고무제품 등 미끄러지기 어려운 구조일 경우 최대 허용 경사도는 몇 도인가?

- ① 8° ② 10°
- ③ 12° ④ 15°

20. 승강기 정의에 대한 설명으로 가장 올바른 것은?

- ① 전용 승강로 내를 레일을 따라 동력에 의해 좌 우로 움직이는 카로 사람 또는 물건을 운반하는 기계장치
- ② 전용 승강로 내를 레일에 따라 중력에 의해 상 하로 움직이는 카로 사람 또는 물건을 운반하는 기계장치
- ③ 전용 승강로 내를 레일을 따라 동력에 의해 상 하로 움직이는 카로 사람 또는 물건을 운반하는 기계장치
- ④ 전용 승강로 내를 레일 없이 동력에 의해 상 하로 움직이는 카로 사람 또는 물건을 운반하는 기계장치

2과목 : 승강기설계

21. 엘리베이터를 이용한 범죄예방을 위한 실시대책이 아닌 것은?

- ① 각 도어마다 방법창을 부착한다.
- ② 기준층에 파킹스위치를 부착한다.
- ③ 인터폰을 설치한다.
- ④ 각층 강제정지운전을 한다.

22. 하중 값이 시간적으로 변화하는 상황에 따른 분류 중 동하중에 해당되지 않는 것은?

- ① 반복하중 ② 교번하중
- ③ 충격하중 ④ 집중하중

23. 로프 거는 방식 중 고속을 얻기에 적당한 로핑 방법은?

- ① 1:1로핑 ② 2:1로핑
- ③ 3:1로핑 ④ 4:1로핑

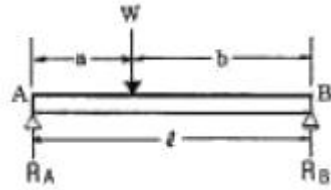
24. 지진을 대비한 것이 아닌 것은?

- ① 도르래의 로프 가이드 ② 각층 강제정지장치
- ③ 권상기의 스톱퍼 ④ 제어반 스테이

25. 카의 정전시 예비조명장치에 대한 설명 중 옳은 것은?

- ① 카의 램프 중심부로부터 2m떨어진 곳의 수직면의 1Lux조도가 이상 되도록 설계한다
- ② 카의 램프 중심부로부터 2m떨어진 곳의 수직면의 100Lux조도가 이상 되도록 설계한다
- ③ 카의 램프 중심부로부터 1m떨어진 곳의 수직면의 1lux조도가 이상 되도록 설계한다
- ④ 카의 램프 중심부로부터 1m떨어진 곳의 수직면의 100Lux조도가 이상 되도록 설계한다

26. 아래 그림 단순보에서 W=100kg, a=400, b=600cm일 때 점에서 발생하는 회전모멘트는 몇 [kg·cm]인가?



- ① 40 ② 60
- ③ 100 ④ 1000

27. 엘리베이터 제어방식 중 교류귀환 제어방식을 사용하는 가장 적합한 이유는?

- ① 병렬 운전 제어 ② 점호각 제어
- ③ 전동기속도 제어 ④ 정류개선 제어

28. 전동 덤웨이터 기계실의 천장 높이는 최소 몇cm 이상이어야 하는가? (단, 기기의 배치 및 관리에 지장이 있는 경우)

- ① 60 ② 70
- ③ 80 ④ 100

29. 주어진 조건과 같은 에스컬레이터의 적재하중은 약 몇[kg]인가?

총고:4m, 속도:30m/min, 스텝폭:1000mm, 경사각:30°

- ① 1400 ② 1870
- ③ 3460 ④ 6930

30. 정격속도 인 로프식 엘리베이터 카 꼭 90m/min 대기틈새 기준으로 적합한 것은?

- ① 1.8m이상 ② 1.6m이상
- ③ 1.4m이상 ④ 1.2m이상

31. 로프와 도르래 홈에 언더컷 홈을 사용하는 이유는?

- ① 마찰계수 향상 ② 윤활 용이
- ③ 로프의 중심 균형 ④ 도르래의 경량화

32. 기어의 장점을 설명한 것으로 틀린 것은?

- ① 강도가 크다
- ② 높은 정밀도를 얻을 수 있다
- ③ 전동이 확실하다
- ④ 호환성이 나쁘다

33. 브레이크 로드를 전후좌우 개소에 적절히 설치 하면 카바닥 하중의 어느 정도까지를 균등하게 카틀의 상부에서 하부까지 전달할 수 있는가?

- ① 1/8 ② 2/8
- ③ 3/8 ④ 4/8

34. 에스컬레이터에 대한 설명으로 옳지 않은 것은?

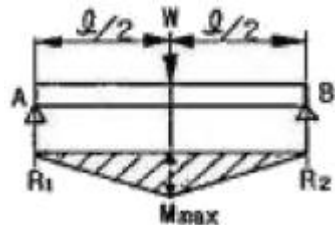
- ① 수송능력은 엘리베이터의 7~10배이며 대량 수송에 적합하다.
- ② 건축상으로 점유면적이 적고 별도의 기계실이 필요하지 않다.
- ③ 800형은 난간폭이 1000mm이고 시간당 6000명을 수송할 수 있다.
- ④ 대기시간이 없고 연속적으로 승객을 수송할 수 있다.

35. 비상용 엘리베이터 운행속도의 기준으로 옳은 것은?
 ① 30m/min이상 ② 45m/min이상
 ③ 60m/min이상 ④ 90m/min이상
36. 속도가 30m/min인 교류 1단속도 제어방식의 엘리베이터가 최하층에 수평으로 정지되어 있다. 이 때 카와 스프링 완충기와의 최소거리는 몇[mm] 인가?
 ① 120 ② 150
 ③ 200 ④ 225
37. 동력전월설비의 설계기준에서 반드시 정할 사항이 아닌 것은?
 ① 누설전류 ② 변압기 용량
 ③ 과전류차단기 용량 ④ 배전선 굵기
38. 엘리베이터용 전동기의 구비요건으로 옳지 않은 것은?
 ① 기동전류가 클 것
 ② 기동토크가 클 것
 ③ 회전부의 관성모멘트가 적을 것
 ④ 빈번한 운전에 대한 열적 특성이 양호할 것
39. 정격전압380V, 정격전류12A일 때 동력전원 설계시 일반적으로 가속전류는 어느 정도로 하여야 하는가?
 ① 14.4A ② 15A
 ③ 20A ④ 24A
40. 군관리 승객용 엘리베이터 중 1대에만 전면과 후면 출입구를 설치하려고 한다. 틀린 것은?
 ① 문열림 특별장치가 필요하다
 ② 파트타임 서비스에 적당하다
 ③ 국내에도 설치할 수 있다
 ④ 동시에 양쪽문이 작동해도 된다

3과목 : 일반기계공학

41. 기어나 피스톤 핀 등과 같이 마모작용에 강하고 동시에 충격에도 강해야 할 때, 강의 표면을 경화하기 위하여 열처리하는 방법이 아닌 것은?
 ① 침탄법 ② 침탄질화법
 ③ 저온소둔법 ④ 고주파법
42. 지름이 100mm인 탄소강재를 선반 가공할 때 1회 가공소요 시간은 약 몇 초인가? (단, 회전수는 400rpm이고 이송은 0.3mm/rev이며 탄소강재의 길이는 50mm이다.)
 ① 20초 ② 25초
 ③ 30초 ④ 40초
43. 재료의 성질을 나타내는 세로탄성계수(영률E)의 단위가 맞는 것은?
 ① N ② N/cm²
 ③ N·m ④ N/cm
44. 속이 찬 회전축의 전달마력이 7kW인축에 350rpm으로 작동한다면 축의 전달 토크는 약 몇 N·m인가?
 ① 101 ② 151

- ③ 191 ④ 231
45. 용적형 펌프에 해당하는 피스톤 펌프는 어느 형식에 속하는 펌프인가?
 ① 왕복식 펌프 ② 원심식 펌프
 ③ 샤프 펌프 ④ 회전식 펌프
46. 코일 스프링에서 코일의 평균지름 D=50mm이고, 유효권수가 10, 소선 지름이 d=6mm이고, 축방향 하중 10N이 작용할 때 비틀림에 의한 전다응력은 약 몇 MPa인가?
 ① 1.5 ② 3.0
 ③ 5.9 ④ 15.9
47. 다이얼 게이지로 측정하는 것이 가장 적합한 것은?
 ① 캠 축의 휨
 ② 나사의 피치
 ③ 피스톤의 외경
 ④ 피스톤과 실린더의 간극
48. 길이가 2m이고 직경이 1cm인 강선에 작용하는 인장하중 1600kgf/cm²일 때 강선의 늘어난 길이는? (단, 탄성계수(E)=2.1×10⁶kgf/cm²이다.)
 ① 0.1941cm ② 0.1814cm
 ③ 0.1579cm ④ 0.1327cm
49. 절삭 및 비절삭가공 중엿 절삭가공에 속하는 것은?
 ① 주조 ② 단조
 ③ 판금 ④ 호닝
50. 그림과 같이 길이 l 인 단순보의 중에에 집중하중 W를 받는데 최대 굽힘모멘트(M max 점)는 얼마인가?



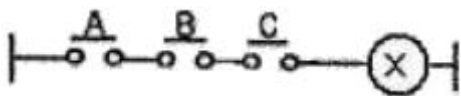
- ① $\frac{Wl}{4}$ ② $\frac{Wl}{2}$
 ③ $\frac{Wl^2}{4}$ ④ $\frac{Wl^2}{2}$

51. 표준 스퍼 기어에서 기어의 잇수가 25개, 피치원의 지름이 75mm일 때 모듈은 얼마인가?
 ① 3 ② 9.42
 ③ 0.33 ④ 6
52. V벨트 전동과 비교한 체인전동의 특징을 설명한 것으로 틀린 것은?
 ① 전동 효율이 높다
 ② 고속 회전에 적합하다
 ③ 미끄럼이 없어 속도비가 일정하다
 ④ V벨트 길이보다는 체인길이를 쉽게 조절할 수 있다.

- 53. 베어링에 오일 실(oil seal)을 사용하는 가장 중요한 이유는?
 ① 접촉이 잘 되도록 하기 위하여
 ② 열발산을 잘하기 위하여
 ③ 유막이 끊어지지 않도록 하기 위하여
 ④ 기름이 새는 것과 먼지 등의 침입을 막기 위해
- 54. 다음 중 선반의 4대 주요 구성 부분에 속하지 않는 것은?
 ① 심압대 ② 주축대
 ③ 바이트 ④ 왕복대
- 55. 두께가 같은 10mm인 강판의 겹치기이음의 전면 필렛용접에서 작용하중이 5000N이면, 용접부의 허용응력이 6N/mm² 일 때 용접부 유효길이는 약 몇 mm이상 이어야 하는가?
 ① 50 ② 59
 ③ 65 ④ 72
- 56. 비중이 2.7인 이 금속은 황금원소를 첨가하여 높은 강도, 가벼운 무게와 내부식성이 강한 합금으로 개선 하여 자동차 트랜스미션 케이스, 피스톤, 엔진블록 등으로 사용되는 것은?
 ① 납 ② 아연
 ③ 마그네슘 ④ 알루미늄
- 57. 나사의 접촉면 사이의 틈이나 나사면을 딸 증기나 기름 등이 누출되는 것을 방지하는데 주로 사용하는 너트는?
 ① 홈볼이 너트 ② 캡 너트
 ③ 플랜지 너트 ④ 원형 너트
- 58. 유량이 6m³/min, 손실 양정 6m, 실양정 30m인, 급수펌프를 1750rpm으로 운전할 때 소요 동력은 약 몇 kW인가? (단, 펌프효율은 0.88이다.)
 ① 20 ② 30
 ③ 35 ④ 40
- 59. 가공 경화된 재료를 연한 재질상태로 돌아가게 하는 열처리 방법은?
 ① 불림(normalizing) ② 풀림(annealing)
 ③ 뜨임(tempering) ④ 담금질(quenching)
- 60. 선삭가공이나 드릴로 뚫어진 구멍의 형상과 치수를 정밀하게 다듬질하는 작업은?
 ① 리밍 ② 탭핑
 ③ 다이스 작업 ④ 스크레이퍼 작업

4과목 : 전기제어공학

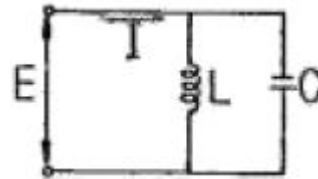
61. 그림과 같은 유접점 회로의 논리식과 논리회로 명칭으로 옳은 것은?



- ① $F = \overline{A \cdot B \cdot C}$ NOT회로
- ② $F = \overline{A + B + C}$ NOT회로
- ③ $F = A + B + C$, OR회로

④ $F = A \cdot B \cdot C$, AND회로

- 62. 직류전동기의 회전 방향을 바꾸려면 어떻게 하는가?
 ① 입력단자의 극성을 바꾼다
 ② 전기자의 접속을 바꾼다
 ③ 보극권선의 접속을 바꾼다
 ④ 브러시의 위치를 조정한다
- 63. 논리식 $A(A+B)$ 를 간단히 하면?
 ① A ② B
 ③ AB ④ A+B
- 64. 주파수 50Hz인 교류의 위상차가 $\pi/3$ rad이다. 이 위상차를 시간으로 나타내면 몇 sec인가?
 ① 1/60 ② 1/120
 ③ 1/400 ④ 1/720
- 65. 변압기 정격 1차 전압의 의미를 바르게 설명한 것은?
 ① 정격 2차 전압에 권수비를 곱한 것이다
 ② 1/2 부하를 걸었을 때의 1차 전압이다
 ③ 무부하일 때의 1차 전압이다
 ④ 정격 2차 전압에 효율을 곱한 것이다
- 66. 목표값이 시간에 대하여 변화하지 않는 제어로 정전압장치나 일정 속도제어 등에 해당하는 제어는?
 ① 프로그램제어 ② 추종제어
 ③ 정치제어 ④ 비율제어
- 67. 피제어동작은 프로세스제어계의 정상특성 개선에 흔히 사용된다. 이것에 대응하는 보상요소는?
 ① 동상 보상요소 ② 지상 보상요소
 ③ 진상 조상요소 ④ 지상 및 진상 보상요소
- 68. 그림과 같은 병렬공진회로에서 전류 I_{rk} 전압 F 보다 앞서는 관례로 옳은 것은?

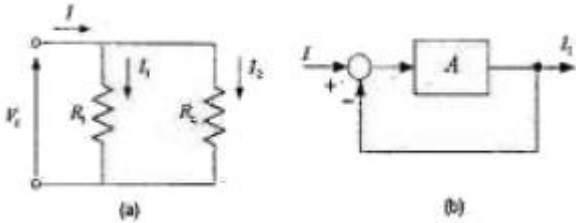


- ① $f < \frac{1}{2\pi\sqrt{LC}}$ ② $f > \frac{1}{2\pi\sqrt{LC}}$
- ③ $f = \frac{1}{2\pi\sqrt{LC}}$ ④ $f = \frac{1}{\sqrt{2\pi LC}}$

- 69. 피드백제어에서 반드시 필요한 장치는?
 ① 안정도를 향상시키는 장치
 ② 응답속도를 개선시키는 장치
 ③ 구동장치
 ④ 입력과 출력을 비교하는 장치
- 70. 어떤 제어계의 임펄스 응답이 $\sin \omega t$ 일 때 계의 전달함수는?

- ① $\frac{\omega}{s + \omega}$ ② $\frac{s}{s + \omega^2}$
 ③ $\frac{\omega}{s + \omega^2}$ ④ $\frac{\omega^2}{s + \omega}$

71. 그림(a)의 병렬로 연결된 저항회로에서 전류 I와 I₁의 관계를 그림(b)의 블록선도로 나타낼 때 A에 들어갈 전달함수는?



- ① $\frac{1}{R_1 + R_2}$ ② $\frac{1}{R_1 R_2}$
 ③ $\frac{R_1}{R_2}$ ④ $\frac{R_2}{R_1}$

72. 평행한 왕복도체에 흐르는 전류에 의한 작용력은?

- ① 반발력 ② 흡인력
 ③ 회전력 ④ 정지력

73. 직류발전기 전기자 반작용의 영향이 아닌 것은?

- ① 중성축의 이동 ② 자속의 크기 감소
 ③ 절연내력의 저하 ④ 유기기전력의 감소

74. 기전력 2V, 용량 10Ah인 축전기 9개를 직렬로 연결하여 사용할 때의 용량은 몇 [Ah]인가?

- ① 10 ② 90
 ③ 100 ④ 180

75. $\frac{1}{s+1}$ 인 함수의 라플라스 역변환식은?

- ① $1 - e^{-t}$ ② $1 + e^{-t}$
 ③ e^t ④ e^{-t}

76. 피드백 제어계에 사용되는 용어의 설명으로 틀린 것은?

- ① 기준 입력요소란 목표치에 비례하는 기준 입력 신호를 발생하는 장치이다.
 ② 제어요소란 동작신호를 조작량으로 변환하는 요소이다.
 ③ 외란이란 제어량의 값을 변화시키려는 하는 외부로부터의 바람직하지 않은 신호이다.
 ④ 동작신호는 기준입력과 제어량의 편차인 신호이다.

77. 자동제어의 조절기기 중 연속동작이 아닌 것은?

- ① 비례제어 동작 ② 적분제어 동작
 ③ 2위치 동작 ④ 미분제어 동작

78. 2[Ω]의 저항 10개를 직렬로 연결한 경우 병렬로 연결한 경우의 합성저항의 크기는 몇 배인가?

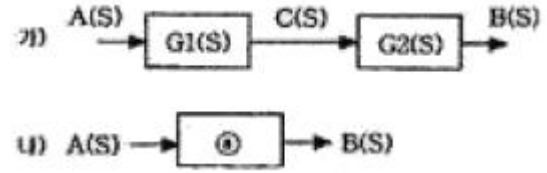
- ① 150 ② 100

- ③ 50 ④ 10

79. 스테핑 모터를 사용할 수 없는 기기는?

- ① X-Y테이블 ② 복사기
 ③ 에스컬레이터 ④ 프린터

80. 아래의 가) 그림과 같이 직렬결합되어 있는 블록선도를 등가변환한 나) 그림의 ㉔에 해당 하는 것은?



- ① G1(s)+G2(s) ② G1(s)-G2(s)
 ③ G1(s) · G2(s) ④ G1(s)/G2(s)

1	2	3	4	5	6	7	8	9	10
③	②	④	④	①	④	②	①	①	④
11	12	13	14	15	16	17	18	19	20
④	③	④	④	④	③	④	①	④	③
21	22	23	24	25	26	27	28	29	30
②	④	①	②	①	②	③	④	②	②
31	32	33	34	35	36	37	38	39	40
①	④	③	③	③	④	①	①	③	④
41	42	43	44	45	46	47	48	49	50
③	②	②	③	①	③	①	①	④	①
51	52	53	54	55	56	57	58	59	60
①	②	④	③	②	④	②	④	②	①
61	62	63	64	65	66	67	68	69	70
④	②	①	③	①	③	②	②	④	③
71	72	73	74	75	76	77	78	79	80
④	①	③	①	①	④	③	②	③	③