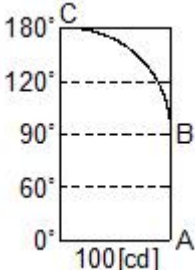


1과목 : 전기응용 및 공사재료

- 전압을 일정하게 유지하기 위한 전압 제어소자로 널리 이용되는 다이오드는?  
 ① 터널 다이오드(tunnel diode)  
 ② 제너 다이오드(zener diode)  
 ③ 바랙터 다이오드(varactor diode)  
 ④ 쇼트키 다이오드(schottky diode)
- 열전도율의 단위를 나타낸 것은?  
 ① kcal/h                      ② m · h · °C/kcal  
 ③ kcal/kg · °C                ④ kcal/m · h · °C
- 다음 전동기 중에서 속도 변동률이 가장 큰 것은?  
 ① 3상 동기 전동기  
 ② 단상 유도 전동기  
 ③ 3상 농형 유도 전동기  
 ④ 3상 권선형 유도 전동기
- 금속의 전해정제로 틀린 것은?  
 ① 전력소비가 적다.  
 ② 순도가 높은 금속이 석출된다.  
 ③ 금속을 음극으로 하고 순금속을 양극으로 한다.  
 ④ 동(Cu)의 전해정제는 H2SO4와 CuSO4의 혼합용액을 전해액으로 사용한다.
- 루소선도에서 하반구 광속[lm]은 약 얼마인가? (단, 그림에서 곡선 BC는 4분원이다.)  
  
 ① 528                          ② 628  
 ③ 728                          ④ 828
- 전기가열방식 중에서 고주파 유전가열의 응용으로 틀린 것은?  
 ① 목재의 건조                ② 비닐막 접착  
 ③ 목재의 접착                ④ 공구의 표면처리
- 정격전압 220[V], 100[W]의 전구를 점등한 방의 조도가 120[lx]이다. 이 부하에 전압을 218[V]가 인가하면 이 방의 조도는 약 몇 [lx]인가? (단, 여기서 광속의 전압 지수는 3.6으로 한다.)  
 ① 119                          ② 118  
 ③ 116                          ④ 124
- 2종의 금속이나 반도체를 접합하여 열전대를 만들고 기전력을 공급하면 각 접점에서 열의 흡수, 발생이 일어나는 현상은?  
 ① 핀치(Pinch) 효과                                      ② 제벡(Seebeck) 효과

- 펠티에(Peltier) 효과                                      ④ 톰슨(Thomson) 효과
- 전기차의 속도제어시스템 중 주파수의 변화에 대응하도록 전압도 같이 제어하는 방법은?  
 ① 저항 제어시스템                      ② 초퍼 제어시스템  
 ③ 위상 제어시스템                      ④ VVVF 제어시스템
- 직류 전동기의 속도제어법에서 정출력 제어에 속하는 것은?  
 ① 계자 제어법                              ② 전압 제어법  
 ③ 전기자 저항 제어법                      ④ 워드레오나드 제어법
- 대전력 정류용으로 사용되는 SCR의 특징이 아닌 것은?  
 ① 열용량이 커서 고온에 강하다.  
 ② 역률각 이하에서는 제어가 되지 않는다.  
 ③ 아크가 생기지 않으므로 열의 발생이 적다.  
 ④ 전류가 흐르고 있을 때 양극의 전압강하가 작다.
- 전선 접속시 유의사항이 아닌 것은?  
 ① 접속으로 인해 전기적 저항이 증가하지 않게 한다.  
 ② 접속으로 인한 도체 단면적을 현저히 감소시키게 한다.  
 ③ 접속부분의 전선의 강도를 20[%] 이상 감소시키지 않게 한다.  
 ④ 접속부분은 절연전선의 절연물과 동등 이상의 절연내력이 있는 것으로 충분히 피복한다.
- 전원을 넣자마자 곧바로 점등되는 형광등용의 안정기는?  
 ① 점등관식                              ② 래피드스타트식  
 ③ 글로우스타트식                      ④ 필라멘트 단락식
- 전선을 지지하기 위하여 사용되는 자재로 애자를 부착하여 사용하며 단면이 □형으로 생긴 형강은?  
 ① 경완철                              ② 분기고리  
 ③ 행거밴드                              ④ 인류스트랩
- 철탑의 상부구조에서 사용되는 것이 아닌 것은?  
 ① 암(arm)                              ② 수평재  
 ③ 보조재                              ④ 주각재
- 특고압 배전선로 보호용 기기로 자동 재폐로가 가능한 기기는?  
 ① ASS                              ② ALTS  
 ③ ASBS                              ④ Recloser
- 공기 중의 산소를 전지의 감극제로 사용하는 건전지는?  
 ① 표준전지                              ② 일반 건전지  
 ③ 내한 건전지                              ④ 공기 습전지
- 배전선로의 지지물로 가장 많이 쓰이고 있는 것은?  
 ① 철탑                              ② 강판주  
 ③ 강관 전주                              ④ 철근 콘크리트 전주
- 도전 재료로서 요구되는 조건이 틀린 것은?  
 ① 전기 저항이 클 것  
 ② 내식성 등이 우수할 것  
 ③ 접촉과 연결이 비교적 쉬울 것

④ 자원이 풍부하여 얻기 쉽고 가격이 저렴할 것

20. 납축전지에 대한 설명 중 틀린 것은?

- ① 충전시 음극 : PbSO<sub>4</sub> → Pb
- ② 방전시 음극 : Pb → PbSO<sub>4</sub>
- ③ 충전시 양극 : PbSO<sub>4</sub> → PbO
- ④ 방전시 양극 : PbO<sub>2</sub> → PbSO<sub>4</sub>

**2과목 : 전력공학**

21. 150[kVA] 단상변압기 3대를 △-△ 결선으로 사용하다가 1대의 고장으로 V-V결선하여 사용하면 약 몇 [kVA] 부하까지 걸 수 있겠는가?

- ① 200                      ② 220
- ③ 240                      ④ 260

22. 송전계통의 안정도를 증진시키는 방법이 아닌 것은?

- ① 전압변동을 적게 한다.
- ② 제동저항기를 설치한다.
- ③ 직렬리액턴스를 크게 한다.
- ④ 중간조상기방식을 채용한다.

23. 연간 전력량이 E[kWh]이고, 연간 최대전력이 W[kW]인 연부하율은 몇 [%]인가?

- ①  $\frac{E}{W} \times 100$                       ②  $\frac{\sqrt{3}W}{E} \times 100$
- ③  $\frac{8760W}{E} \times 100$                       ④  $\frac{E}{8760W} \times 100$

24. 차단기의 정격차단시간은?

- ① 고장 발생부터 소호까지의 시간
- ② 가동접촉자 시동부터 소호까지의 시간
- ③ 트립코일 여자부터 소호까지의 시간
- ④ 가동접촉자 개구부터 소호까지의 시간

25. 3상 결선 변압기의 단상 운전에 의한 소손방지 목적으로 설치하는 계전기는?

- ① 단락 계전기                      ② 결상 계전기
- ③ 지락 계전기                      ④ 과전압 계전기

26. 인터록(interlock)의 기능에 대한 설명으로 맞는 것은?

- ① 조작자의 의중에 따라 개폐되어야 한다.
- ② 차단기가 열려 있어야 단로기를 닫을 수 있다.
- ③ 차단기가 닫혀 있어야 단로기를 닫을 수 있다.
- ④ 차단기와 단로기를 별도로 닫고, 열 수 있어야 한다.

27. 그림과 같은 22[kV] 3상 3선식 전선로의 P점에 단락이 발생하였다면 3상 단락전류는 약 몇 [A]인가? (단, %리액턴스는 8[%]이며 저항분은 무시한다.)



- ① 6561                      ② 8560
- ③ 11364                      ④ 12684

28. 전력계통에서 내부 이상전압의 크기가 가장 큰 경우는?

- ① 유도성 소전류 차단시
- ② 수차발전기의 부하 차단시
- ③ 무부하 선로 충전전류 차단시
- ④ 송전선로의 부하 차단기 투입시

29. 화력 발전소에서 재열기의 목적은?

- ① 급수예열                      ② 석탄건조
- ③ 공기예열                      ④ 증기가열

30. 송전선로의 각 상전압이 평형되어 있을 때 3상 1회선 송전선의 작용정전용량[μF/km]을 옳게 나타낸 것은? (단, r은 도체의 반지름[m] D는 도체의 등가선간거리[m]이다.)

- ①  $\frac{0.02413}{\log_{10} \frac{D}{r}}$                       ②  $\frac{0.2413}{\log_{10} \frac{D}{r}}$
- ③  $\frac{0.02413}{\log_{10} \frac{D^2}{r}}$                       ④  $\frac{0.2413}{\log_{10} \frac{D^2}{r}}$

31. 플리커 경감을 위한 전력 공급측의 방안이 아닌 것은?

- ① 공급전압을 낮춘다.
- ② 전용 변압기로 공급한다.
- ③ 단독 공급 계통을 구성한다.
- ④ 단락용량이 큰 계통에서 공급한다.

32. 송전선로에서 송전전력, 거리, 전력손실율과 전선의 밀도가 일정하다고 할 때, 전선 단면적 A[mm<sup>2</sup>]는 전압 V[V]와 어떤 관계에 있는가?

- ① V에 비례한다.                      ② V<sup>2</sup>에 비례한다.
- ③ 1/V에 비례한다.                      ④ 1/V<sup>2</sup>에 비례한다.

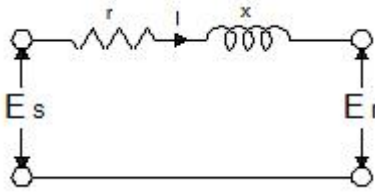
33. 동기조상기에 관한 설명으로 틀린 것은?

- ① 동기전동기의 V특성을 이용하는 설비이다.
- ② 동기전동기를 부속여자차로 하여 컨덕턴스로 사용한다.
- ③ 동기전동기를 과여자차로 하여 콘덴서로 사용한다.
- ④ 송전계통의 전압을 일정하게 유지하기 위한 설비이다.

34. 비등수형 원자로의 특색이 아닌 것은?

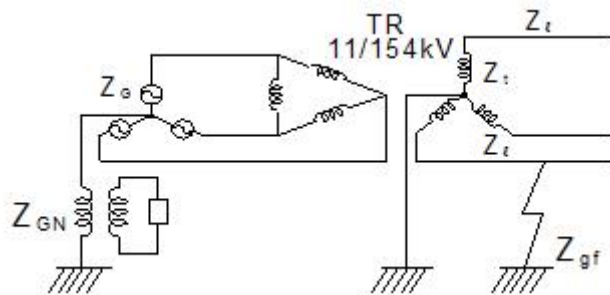
- ① 열교환기가 필요하다.
- ② 기포에 의한 자기 제어성이 있다.
- ③ 방사능 때문에 증기는 완전히 기수분리를 해야 한다.
- ④ 순환펌프로서는 급수펌프뿐이므로 펌프동력이 작다.

35. 그림과 같은 단거리 배전선로의 송전단 전압 6600[V], 역률은 0.9이고, 수전단 전압 6100[V], 역률 0.8 일 때 회로에 흐르는 전류 I[A]는? (단, E<sub>s</sub> 및 E<sub>r</sub>은 송·수전단 대지전압이며, r=20[Ω], x=10[Ω]이다.)



- ① 20                      ② 35
- ③ 53                      ④ 65

36. 피뢰기의 제한전압이란?  
 ① 충격파의 방전개시전압  
 ② 상용주파수의 방전개시전압  
 ③ 전류가 흐르고 있을 때의 단자전압  
 ④ 피뢰기 동작 중 단자전압의 파고값
37. 단락용량 5000[MVA]인 모선의 전압이 154[kV]라면 등가 모선임피던스는 약 몇 [Ω]인가?  
 ① 2.54                      ② 4.74  
 ③ 6.34                      ④ 8.24
38. 피뢰기가 그 역할을 잘 하기 위하여 구비되어야 할 조건으로 틀린 것은?  
 ① 속류를 차단할 것  
 ② 내구력이 높을 것  
 ③ 충격방전 개시전압이 낮을 것  
 ④ 제한전압은 피뢰기의 정격전압과 같게 할 것
39. 저압배전선로에 대한 설명으로 틀린 것은?  
 ① 저압 बैं킹 방식은 전압변동을 경감할 수 있다.  
 ② 밸런서(balancer)는 단상 2선식에 필요하다.  
 ③ 배전선로의 부하율이 F일 때 손실계수는 F와 F<sup>2</sup>의 중간값이다.  
 ④ 수용률이란 최대수용전력을 설비용량으로 나눈 값을 퍼센트로 나타낸 것이다.
40. 그림과 같은 전력계통의 154[kV] 송전선로에서 고장 지락 임피던스 Z<sub>gf</sub>를 통해서 1선 지락고장이 발생되었을 때 고장점에서 본 영상 %임피던스는? (단, 그림에 표시한 임피던스는 모두 동일용량, 100[MVA] 기준으로 환산한 %임피던스임)

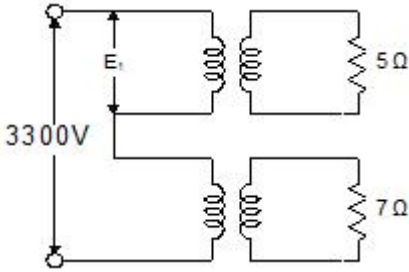


- ①  $Z_0 = Z_l + Z_t + Z_G$
- ②  $Z_0 = Z_l + Z_t + Z_{af}$
- ③  $Z_0 = Z_l + Z_t + 3Z_{af}$

④  $Z_0 = Z_l + Z_t + Z_{af} + Z_G + Z_{GN}$

3과목 : 전기기기

41. 정전압 계통에 접속된 동기발전기의 여자를 약하게 하면?  
 ① 출력이 감소한다.  
 ② 전압이 강해진다.  
 ③ 앞선 무효전류가 증가한다.  
 ④ 뒤진 무효전류가 증가한다.
42. 다이오드를 사용하는 정류회로에서 과대한 부하전류로 인하여 다이오드가 소손될 우려가 있을 때 가장 적절한 조치는 어느 것인가?  
 ① 다이오드를 병렬로 추가한다.  
 ② 다이오드를 직렬로 추가한다.  
 ③ 다이오드 양단에 적당한 값의 저항을 추가한다.  
 ④ 다이오드 양단에 적당한 값의 콘덴서를 추가한다.
43. 직류 발전기의 외부 특성곡선에서 나타내는 관계로 옳은 것은?  
 ① 계자전류와 단자전압  
 ② 계자전류와 부하전류  
 ③ 부하전류와 단자전압  
 ④ 부하전류와 유기기전력
44. 직류기의 전기자 반작용에 의한 영향이 아닌 것은?  
 ① 자속이 감소하므로 유기기전력이 감소한다.  
 ② 발전기의 경우 회전방향으로 기하학적 중성축이 형성된다.  
 ③ 전동기의 경우 회전방향과 반대방향으로 기하학적 중성축이 형성된다.  
 ④ 브러시에 의해 단락된 코일에는 기전력이 발생하므로 브러시 사이의 유기기전력이 증가한다.
45. 어떤 정류기의 부하 전압이 2000[V]이고 맥동률이 3[%]이면 교류분의 진폭[V]은?  
 ① 20                      ② 30  
 ③ 50                      ④ 60
46. 3상 3300[V], 100[kVA]의 동기발전기의 정격전류는 약 몇 [A]인가?  
 ① 17.5                      ② 25  
 ③ 30.3                      ④ 33.3
47. 4극 3상 유도전동기가 있다. 전원전압 200[V]로 전부하를 걸었을 때 전류는 21.5[A]이다. 이 전동기의 출력은 약 몇 [W]인가? 단, 전부하 역률 86[%], 효율 85[%]이다.  
 ① 5029                      ② 5444  
 ③ 5820                      ④ 6103
48. 변압비 3000/100[V]인 단상변압기 2대의 고압측을 그림과 같이 직렬로 3300[V] 전원에 연결하고, 저압측에 각각 5 [Ω], 7[Ω]의 저항을 접속하였을 때, 고압측의 단자전압 E<sub>t</sub>은 약 몇 [V]인가?

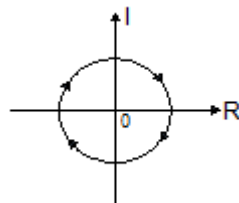


- ① 471                      ② 660
  - ③ 1375                    ④ 1925
49. 교류기에서 유기기전력의 특징 고조파분을 제거하고 또 권선을 절약하기 위하여 자주 사용되는 권선법은?
- ① 전절권                  ② 분포권
  - ③ 집중권                  ④ 단절권
50. 12극의 3상 동기발전기가 있다. 기계각 15°에 대응하는 전기각은?
- ① 30                        ② 45
  - ③ 60                        ④ 90
51. 4극, 60[Hz]의 유도전동기가 슬립 5[%]로 전부하 운전하고 있을 때 2차 권선의 손실이 94.25[W]라고 하면 토크는 약 몇 [N·m]인가?
- ① 1.02                    ② 2.04
  - ③ 10.0                    ④ 20.0
52. 단상 변압기에 정현파 유기기전력을 유기하기 위한 여자전류의 파형은?
- ① 정현파                  ② 삼각파
  - ③ 왜형파                  ④ 구형파
53. 회전형전동기와 선형전동기(Linear Motor)를 비교한 설명 중 틀린 것은?
- ① 선형의 경우 회전형에 비해 공극의 크기가 작다.
  - ② 선형의 경우 직접적으로 직선운동을 얻을 수 있다.
  - ③ 선형의 경우 회전형에 비해 부하관성의 영향이 크다.
  - ④ 선형의 경우 전원의 상 순서를 바꾸어 이동방향을 변경한다.
54. 변압기의 전일 효율이 최대가 되는 조건은?
- ① 하루 중의 무부하손의 합 = 하루중의 부하손의 합
  - ② 하루 중의 무부하손의 합 < 하루 중의 부하손의 합
  - ③ 하루 중의 무부하손의 합 > 하루 중의 부하손의 합
  - ④ 하루 중의 무부하손의 합 = 2×하루 중의 부하손의 합
55. 유도전동기를 정격상태로 사용 중, 전압이 10[%] 상승하면 다음과 같은 특성의 변화가 있다. 틀린 것은? (단, 부하는 일정 토크라고 가정한다.) (문제 오류로 실제 시험에서는 나,다번이 정답처리 되었습니다. 여기서는 나번을 누르면 정답 처리 됩니다.)
- ① 슬립이 작아진다.
  - ② 효율이 떨어진다.
  - ③ 속도가 감소한다.
  - ④ 히스테리시스손과 와류손이 증가한다.

56. 대칭 3상 권선에 평형 3상 교류가 흐르는 경우 회전자계의 설명으로 틀린 것은?
- ① 발생 회전 자계 방향 변경 가능
  - ② 발전 회전 자계는 전류와 같은 주기
  - ③ 발생 회전 자계 속도는 동기 속도보다 늦음
  - ④ 발생 회전 자계 세기는 각 코일 최대 자계의 1.5배
57. 직류기 권선법에 대한 설명 중 틀린 것은?
- ① 단중 파권은 균압환이 필요하다.
  - ② 단중 중권의 병렬회로 수는 극수와 같다.
  - ③ 저전류·고전압 출력은 파권이 유리하다.
  - ④ 단중 파권의 유기전압은 단중 중권의 P/2이다.
58. 스테핑 모터의 일반적인 특징으로 틀린 것은?
- ① 기동·정지 특성은 나쁘다.
  - ② 회전각은 입력펄스 수에 비례한다.
  - ③ 회전속도는 입력펄스 주파수에 비례한다.
  - ④ 고속 응답이 좋고, 고출력의 운전이 가능하다.
59. 철손 1.6[kW] 전부하동손 2.4[kW]인 변압기에는 약 몇 [%] 부하에서 효율이 최대로 되는가?
- ① 82                        ② 95
  - ③ 97                        ④ 100
60. 동기 발전기의 제동권선의 주요 작용은?
- ① 제동작용                  ② 난조방지작용
  - ③ 시동권선작용              ④ 자력작용(自動作用)

**4과목 : 회로이론 및 제어공학**

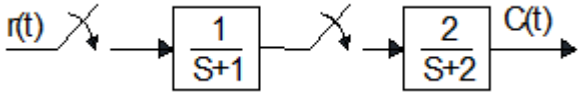
61. 제어오차가 검출될 때 오차가 변화하는 속도에 비례하여 조작량을 조절하는 동작으로 오차가 커지는 것을 사전에 방지하는 제어 동작은?
- ① 미분동작제어              ② 비례동작제어
  - ③ 적분동작제어              ④ 온-오프(ON-OFF)제어
62. 다음과 같은 상태방정식으로 표현되는 제어계에 대한 설명으로 틀린 것은?
- $$\dot{x} = \begin{bmatrix} 0 & 1 \\ -2 & -3 \end{bmatrix} x + \begin{bmatrix} 1 & 1 \\ 0 & -2 \end{bmatrix} u$$
- ① 2차 제어계이다.
  - ② x는 (2×1)의 벡터이다.
  - ③ 특성방정식은 (s+1)(s+2)=0이다.
  - ④ 제어계는 부족제동(under damped)된 상태에 있다.
63. 벡터 궤적이 다음과 같이 표시되는 요소는?



- ① 비례요소                      ② 1차 지연요소
- ③ 2차 지연요소                ④ 부동작 시간요소

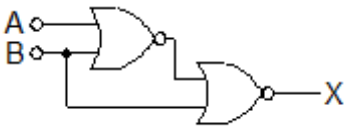
64. 그림과 같은 이산치계의 z변환 전달함수  $\frac{C(z)}{R(z)}$  를 구하

면? (단,  $Z\left[\frac{1}{s+a}\right] = \frac{z}{z-e^{-aT}}$  임)



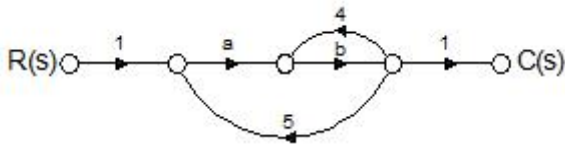
- ①  $\frac{2z}{z-e^{-T}} - \frac{2z}{z-e^{-2T}}$
- ②  $\frac{2z^2}{(z-e^{-T})(z-e^{-2T})}$
- ③  $\frac{2z}{z-e^{-2T}} - \frac{2z}{z-e^{-T}}$
- ④  $\frac{2z}{(z-e^{-T})(z-e^{-2T})}$

65. 다음의 논리 회로를 간단히 하면?



- ① X=AB                              ② X = A $\bar{B}$
- ③ X =  $\bar{A}B$                             ④ X =  $\bar{A}\bar{B}$

66. 그림과 같은 신호흐름 선도에서 C(s)/R(s)의 값은?



- ①  $\frac{ab}{1-4b-5ab}$                       ②  $\frac{ab}{1+4b-5ab}$
- ③  $\frac{ab}{1-4b+5ab}$                       ④  $\frac{ab}{1+4b+5ab}$

67. 단위계단 입력에 대한 응답특성이  $c(t) = 1 - e^{-\frac{1}{T}t}$  로 나타나는 제어계는?

- ① 비례제어계                      ② 적분제어계
- ③ 1차지연제어계                ④ 2차지연제어계

68.  $G(s)H(s) = \frac{K(s+1)}{s^2(s+2)(s+3)}$  에서 근궤적의 수는?

- ① 1                                      ② 2
- ③ 3                                      ④ 4

69. 주파수 응답에 의한 위치제어계의 설계에서 계통의 안정도 척도와 관계가 적은 것은?

- ① 공진치                              ② 위상여유
- ③ 이득여유                        ④ 고유주파수

70. 나이퀴스트(Nyquist) 선도에서의 임계점 (-1, j0)에 대응하는 보드선도에서의 이득과 위상은?

- ① 1 dB, 0°                        ② 0 dB, -90°
- ③ 0 dB, 90°                      ④ 0 dB, -180°

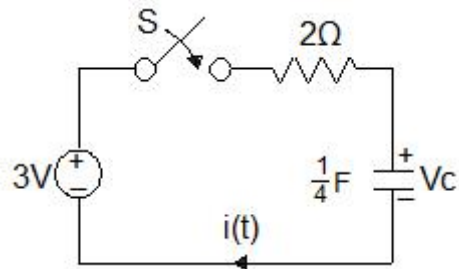
71. 평형 3상  $\Delta$ 결선 회로에서 선간전압( $E_l$ )과 상전압( $E_p$ )의 관계로 옳은 것은?

- ①  $E_l = \sqrt{3} E_p$                       ②  $E_l = 3E_p$
- ③  $E_l = E_p$                             ④  $E_l = \frac{1}{\sqrt{3}} E_p$

72. 정격전압에서 1[kW]의 전력을 소비하는 저항에 정격의 80[%] 전압을 가할 때의 전력[W]은?

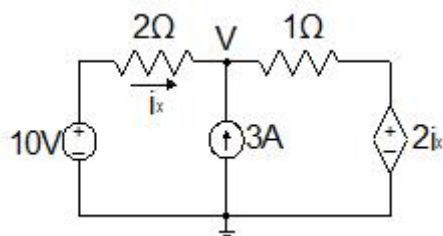
- ① 320                                    ② 540
- ③ 640                                    ④ 860

73. 그림에서 t=0에서 스위치 S를 닫았다. 콘덴서에 충전된 초기전압  $V_c(0)$ 가 1[V] 이었다면 전류를 변환한 값  $i(s)$ 는?



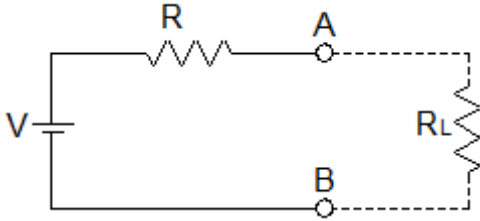
- ①  $\frac{3}{2s+4}$                               ②  $\frac{3}{s(2s+4)}$
- ③  $\frac{2}{s(s+2)}$                             ④  $\frac{1}{s+2}$

74. 그림과 같은 회로에서  $i_x$ 는 몇 [A] 인가?



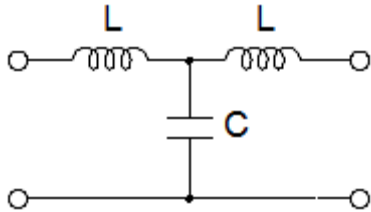
- ① 3.2                      ② 2.6
- ③ 2.0                      ④ 1.4

75. 그림과 같이 전압 V와 저항 R로 구성되는 회로 단자 A-B간에 적당한 저항 R<sub>L</sub>을 접속하여 R<sub>L</sub>에서 소비되는 전력을 최대로 하게 했다. 이 때 R<sub>L</sub>에서 소비되는 전력 P는?



- ①  $\frac{V^2}{4R}$                       ②  $\frac{V^2}{2R}$
- ③ R                              ④ 2R

76. 다음의 T형 4단자망 회로에서 ABCD 파라미터 사이의 성질 중 성립되는 대칭조건은?

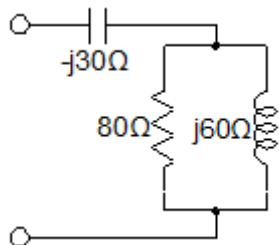


- ① A=D                      ② A=C
- ③ B=C                      ④ B=A

77. 분포정수 회로에서 선로의 특성임피던스를 Z<sub>0</sub>, 전파정수를 γ라 할 때 무한장 선로에 있어서 송전단에서 본 직렬임피던스는?

- ①  $\frac{Z_0}{\gamma}$                       ②  $\sqrt{\gamma Z_0}$
- ③  $\gamma Z_0$                       ④  $\frac{\gamma}{Z_0}$

78. 그림의 RLC 직렬회로를 등가 병렬회로로 바꿀 경우, 저항과 리액턴스는 각각 몇 [Ω]인가?



- ① 46.23, j87.67              ② 46.23, j107.15
- ③ 31.25, j87.67              ④ 31.25, j107.15

79.  $F(s) = \frac{5s+3}{s(s+1)}$  일 때 f(t)의 정상값은?

- ① 5                              ② 3

- ③ 1                              ④ 0

80. 선간전압이 200[V], 선전류가 10√3[A], 부하역률이 80[%]인 평형 3상 회로의 무효전력[Var]은?

- ① 3600                      ② 3000
- ③ 2400                      ④ 1800

**5과목 : 전기설비기술기준 및 판단기준**

81. 동일 지지물에 고압 가공전선과 저압 가공전선을 병가할 경우 일반적으로 양 전선간의 이격거리는 몇 [cm]이상인가?

- ① 50                              ② 60
- ③ 70                              ④ 80

82. 전압의 종별에서 교류 600[V]는 무엇으로 분류하는가?

- ① 저압                              ② 고압
- ③ 특고압                      ④ 초고압

83. 전로에 시설하는 고압용 기계기구의 철대 및 금속제 외함에는 제 몇 종 접지공사를 하여야 하는가?

- ① 제1종 접지공사              ② 제2종 접지공사
- ③ 제3종 접지공사              ④ 특별 제3종 접지공사

84. 저압 옥상전선로의 시설에 대한 설명으로 틀린 것은?

- ① 전선은 절연전선을 사용한다.
- ② 전선은 지름 2.6mm 이상의 경동선을 사용한다.
- ③ 전선과 옥상전선로를 시설하는 조영재와의 이격거리를 0.5[m]로 한다.
- ④ 전선은 상시 부는 바람 등에 의하여 식물에 접촉하지 않도록 시설한다.

85. 저압 및 고압 가공전선의 높이에 대한 기준으로 틀린 것은?

- ① 철도를 횡단하는 경우는 레일면상 6.5[m] 이상이다.
- ② 횡단 보도교 위에 시설하는 저압의 경우는 그 노면 상에서 3[m] 이상이다.
- ③ 횡단 보도교 위에 시설하는 고압의 경우는 그 노면 상에서 3.5[m] 이상이다.
- ④ 다리의 하부 기타 이와 유사한 장소에 시설하는 저압의 전기철도용 급전선은 지표상 3.5[m]까지로 감할 수 있다.

86. 35[kV] 기계기구, 모선 등을 옥외에 시설하는 변전소의 구내에 취급자 이외의 사람이 들어가지 않도록 울타리를 시설하는 경우에 울타리의 높이와 울타리로부터의 총전부분까지의 거리의 합계는 몇 [m]인가?

- ① 5                              ② 6
- ③ 7                              ④ 8

87. 최대사용전압이 22,900[V]인 3상4선식 중성선 다중접지식 전로와 대지 사이의 절연내력 시험전압은 몇 [V]인가?

- ① 21,068                      ② 25,229
- ③ 28,752                      ④ 32,510

88. 터널 등에 시설하는 사용전압이 220[V]인 저압의 전구선으로 편조 고무코드를 사용하는 경우 단면적은 몇 [mm<sup>2</sup>] 이상인가?

- ① 0.5                              ② 0.75

- ③ 1.0                      ④ 1.25
89. 고압 가공전선과 건조물의 상부 조영재와의 옆쪽 이격거리는 몇 [m] 이상인가? 단, 전선에 사람이 쉽게 접촉할 우려가 있고 케이블이 아닌 경우이다.  
 ① 1.0                      ② 1.2  
 ③ 1.5                      ④ 2.0
90. 특고압용 제2종 보안장치 또는 이에 준하는 보안장치 등이 되어 있지 않은 25[kV] 이하인 특고압 가공 전선로의 지지물에 시설하는 통신선 또는 이에 직접 접속하는 통신선으로 사용할 수 있는 것은?  
 ① 광섬유 케이블            ② CN/CV 케이블  
 ③ 캡타이어 케이블        ④ 지름 2.6[mm] 이상의 절연전선
91. 765[kV] 가공전선 시설 시 2차 접근상태에서 건조물을 시설하는 경우 건조물 상부와 가공전선 사이의 수직거리는 몇 [m] 이상인가? (단, 전선의 높이가 최저상태로 사람이 올라갈 우려가 있는 개소를 말한다.)  
 ① 15                      ② 20  
 ③ 25                      ④ 28
92. 정격전류 20[A]와 40[A]인 전동기와 정격전류 10[A]인 전열기 5대에 전기를 공급하는 단상 220[V] 저압 옥내간선이 있다. 몇 [A] 이상의 허용전류가 있는 전선을 사용하여야 하는가?  
 ① 100                      ② 116  
 ③ 125                      ④ 132
93. 의료 장소에서 인접하는 의료장소와의 바닥면적 합계가 몇 [m<sup>2</sup>] 이하인 경우 기준접지바를 공용으로 할 수 있는가?  
 ① 30                      ② 50  
 ③ 80                      ④ 100
94. 배선공사 중 전선이 반드시 절연전선이 아니라도 상관없는 공사방법은?  
 ① 금속관 공사              ② 합성수지관 공사  
 ③ 버스덕트 공사          ④ 플로어 덕트 공사
95. 폭발성 또는 연소성의 가스가 침입할 우려가 있는 곳에 시설하는 지중전선로의 지중함은 그 크기가 최소 몇 [m<sup>3</sup>] 이상인 경우에는 통풍장치 기타 가스를 방산 시키기 위한 적당한 장치를 시설하여야 하는가?  
 ① 1                      ② 3  
 ③ 5                      ④ 10
96. 사용 전압이 특고압인 전기집진장치에 전원을 공급하기 위해 케이블을 사람이 접촉할 우려가 없도록 시설 하는 경우 케이블의 피복에 사용하는 금속체는 몇 종 접지 공사로 할 수 있는가?  
 ① 제1종 접지공사          ② 제2종 접지공사  
 ③ 제3종 접지공사          ④ 특별 제3종 접지공사
97. 가공 전선로의 지지물에 시설하는 지선의 안전율은 일반적인 경우 얼마 이상이어야 하는가?  
 ① 2.0                      ② 2.2  
 ③ 2.5                      ④ 2.7
98. 고·저압 혼축에 의한 위험을 방지하려고 시행하는 제2종

- 접지공사에 대한 기준으로 틀린 것은?  
 ① 제2종 접지공사는 변압기의 시설장소마다 시행하여야 한다.  
 ② 토지의 상황에 의하여 접지저항값을 얻기 어려운 경우, 가공 접지선을 사용하여 접지극을 100[m]까지 떼어 놓을 수 있다.  
 ③ 가공 공동지선을 설치하여 접지공사를 하는 경우, 각 변압기를 중심으로 지름 400[m] 이내의 지역에 접지를 하여야 한다.  
 ④ 저압 전로의 사용전압이 300[V] 이하인 경우, 그 접지공사를 중성점에 하기 어려우면 저압측의 1단자에 시행할 수 있다.
99. 저압 가공전선로의 지지물에 시설하는 통신선 또는 이에 접속하는 가공 통신선이 도로를 횡단하는 경우, 일반적으로 지표상 몇 [m] 이상의 높이로 시설하여야 하는가?  
 ① 6.0                      ② 4.0  
 ③ 5.0                      ④ 3.0
100. 사용전압이 22.9[kV]인 특고압 가공전선이 도로를 횡단하는 경우, 지표상 높이는 최소 몇 [m] 이상인가?  
 ① 4.5                      ② 5  
 ③ 5.5                      ④ 6

1	2	3	4	5	6	7	8	9	10
②	④	②	③	②	④	③	③	④	①
11	12	13	14	15	16	17	18	19	20
①	②	②	①	④	④	④	④	①	③
21	22	23	24	25	26	27	28	29	30
④	③	④	③	②	②	①	③	④	①
31	32	33	34	35	36	37	38	39	40
①	④	②	①	③	④	②	④	②	③
41	42	43	44	45	46	47	48	49	50
③	①	③	④	④	①	②	③	④	④
51	52	53	54	55	56	57	58	59	60
③	③	①	①	②	③	①	①	①	②
61	62	63	64	65	66	67	68	69	70
①	④	④	②	②	①	③	④	④	④
71	72	73	74	75	76	77	78	79	80
③	③	④	④	①	①	③	④	②	①
81	82	83	84	85	86	87	88	89	90
①	①	①	③	②	①	①	②	②	①
91	92	93	94	95	96	97	98	99	100
④	②	②	③	①	③	③	②	①	④