

1과목 : 건축계획

1. 공동주택을 건설하는 주택단지의 부대시설에 관한 설명으로 옳지 않은 것은?

- ① 주택단지에는 생활폐기물보관시설 또는 용기를 설치하여야 한다.
- ② 주택단지안의 어린이놀이터 및 도로에는 보안 등을 설치하여야 한다.
- ③ 관리사무소는 관리업무의 효율성과 입주민의 접근성 등을 고려하여 배치하여야 한다.
- ④ 주택단지의 총세대수가 300세대 미만인 경우 진입도로의 폭은 최소 10m 이상으로 하여야 한다.

2. 아파트의 사회적인 성립요인으로 옳지 않은 것은?

- ① 세대인원의 감소
- ② 도시생활자의 이동성
- ③ 도시의 인구밀도 증가
- ④ 단독주택에 비하여 프라이버시가 증대

3. 학교운영방식 중 오픈스쿨(open school)에 관한 설명으로 옳지 않은 것은?

- ① 초등학교 저학년이나 유치원에 적용이 가능하다.
- ② 교원수가 많지 않아도 되며, 시설의 제약조건이 거의 없다.
- ③ 학급단위의 수업을 부정하고 개인의 능력과 자질에 따라 편성한다.
- ④ 다양한 학습에 대처할 수 있는 개방적이고 융통성 있는 공간계획이 필요하다.

4. 상점의 동선계획에 관한 설명으로 옳지 않은 것은?

- ① 고객동선은 직원동선과 명확하게 구분, 분리하는 것이 좋다.
- ② 직원동선은 되도록 짧게 하여 보행 및 서비스 거리를 최대한 줄이도록 계획한다.
- ③ 상품의 내용 안내를 위해 고객 출입구와 상품 반출·입출입구가 일치하도록 한다.
- ④ 피난에 관련된 동선은 고객이 쉽게 인지하도록 위치 설정 및 접근성을 고려하여 계획한다.

5. 아파트 평면형식에 관한 설명으로 옳지 않은 것은?

- ① 편복도형은 통풍, 채광이 양호하며 프라이버시가 가장 좋다.
- ② 계단실형은 주거성이 양호하며 공용면적이 작은 이점이 있다.
- ③ 중복도형은 구조적 측면에서 이점이 있으나 방위에 따른 주호의 환경이 균등하지 않다.
- ④ 집중형은 엘리베이터, 계단실을 중앙 홀에 두고 주호를 집중 배치하는 형식으로 대지의 이용률을 높일 수 있다.

6. 근린생활권에 관한 설명으로 옳지 않은 것은?

- ① 근린주구는 초등학교가 중심이 된다.
- ② 인보구는 어린이 놀이터가 중심이 된다.
- ③ 인보구는 근린분구에 비해 작은 규모를 갖는다.
- ④ 근린분구의 중심시설로는 도서관, 병원 등이 있다.

7. 상업건축의 입면구성시 필요로 하는 5가지 광고요소에 속하지 않는 것은?

- ① 주의(attention) ② 기억(memory)
- ③ 욕망(desire) ④ 경제(economic)

8. 주택의 노인실 계획에 관한 설명으로 옳지 않은 것은?

- ① 정신적 안정과 보건에 유의해야 한다.
- ② 식당, 욕실 및 화장실에 가까운 곳이 좋다.
- ③ 일조가 충분하고 전망 좋은 곳에 면하도록 한다.
- ④ 노인방은 조용하여야 하므로 가장 은밀한 곳에 배치하도록 한다.

9. 사무소건축의 실단위계획 중 개실 시스템에 관한 설명으로 옳은 것은?

- ① 소음이 크고 독립성이 떨어진다.
- ② 방의 길이나 깊이에 변화를 줄 수 있다.
- ③ 전면적을 유효하게 이용할 수 있어 공간절약상 유리하다.
- ④ 프라이버시 확보와 응접이 요구되는 최고경영자나 전문직 개실에 사용된다.

10. 다음 중 주택 부실에서 작업삼각형(work triangle)의 3변 길이의 합계로 가장 알맞은 것은?

- ① 1000mm ② 2000mm
- ③ 3000mm ④ 4000mm

11. 학교의 배치형식 중 분산병렬형에 관한 설명으로 옳지 않은 것은?

- ① 구조계획이 간단하다.
- ② 일조, 통풍 등 교실의 환경조건이 균등하다.
- ③ 각 건물 사이에 놀이터와 정원이 생겨 생활환경이 좋아진다.
- ④ 편복도로 할 경우 복도면적을 많이 차지하지 않아 유기적인 구성을 취하기가 용이하다.

12. 주택건축의 설계방향으로 옳지 않은 것은?

- ① 주거면적의 적정규모를 산출한다.
- ② 개인적인 프라이버시를 존중할 수 있도록 공간 계획을 한다.
- ③ 설비시설을 효과적으로 계획하여 에너지를 절약할 수 있도록 한다.
- ④ 부실에서 가장 중요한 것은 미적 공간 창출이며 이를 위해서 기능적 구성은 고려하지 않는다.

13. 공장건축에서 효율적인 자연채광 유입을 위해 고려해야 할 사항으로 옳은 것은?

- ① 젓빛 유리나 프리즘 유리는 사용하지 않는다.
- ② 가능한 동일 패턴의 창을 반복하지 않는 것이 좋다.
- ③ 벽면 및 색채계획시 빛의 반사에 대한 면밀한 검토가 필요하다.
- ④ 공장은 대부분 기계류를 취급하므로 가능한 한 창을 작게 설치하는 것이 효율적이다.

14. 테라스 하우스에 관한 설명으로 옳지 않은 것은?

- ① 각 가구마다 정원을 확보할 수 있다.
- ② 모든 유형에서 각 가구마다 지하실을 설치 할 수 있다.
- ③ 시각적인 인공테라스형은 일반적으로 위층으로 갈수록 건물의 내부가 작아진다.
- ④ 자연형 테라스 하우스는 경사지를 이용하여 지형에 따라

건물을 축조한 것이다.

15. 다음의 백화점 에스컬레이터의 배치 형식 중 점내의 점유 면적이 가장 작은 것은?
 ① 직렬식 배치 ② 교차식 배치
 ③ 병렬 단속식 배치 ④ 병렬 연속식 배치
16. 다음 중 상점내의 진열케이스 배치계획에 있어 가장 중요하게 고려하여야 할 사항은?
 ① 동선 ② 조명의 조도
 ③ 천장의 높이 ④ 바닥면의 질감
17. 아파트의 형식 중 메조넷형(Maisonnette)에 관한 설명으로 옳은 것은?
 ① 소규모 주택에 적당한 형식이다.
 ② 통로면적과 임대면적이 감소된다.
 ③ 전용면적비는 크나 독립성이 좋지 않다.
 ④ 주택 내의 공간변화가 있고 거주성이 좋다.
18. 공장건축의 형식 중 파빌리온형(Pavilion type)에 관한 설명으로 옳은 것은?
 ① 통풍, 채광이 좋지 않다.
 ② 배수, 물흐름설치가 어렵다.
 ③ 공장의 신설, 확장이 비교적 용이하다.
 ④ 건축형식, 구조를 각각 다르게 할 수 없다.
19. 다음 설명에 알맞은 백화점 매장의 배치 유형은?

- 매장 면적의 이용률을 최대로 확보할 수 있다.
 - 쇼 케이스의 규격화가 가능하다.

- ① 직각배치법 ② 사행배치법
 ③ 방사배치법 ④ 자유유선배치법
20. 사무소 건축의 코어 유형 중 편심형 코어에 관한 설명으로 옳은 것은?
 ① 구조적으로 가장 바람직한 유형이다.
 ② 기준층 바닥면적이 작은 경우에 적합한 유형이다.
 ③ 2방향 피난에 이상적인 관계로 방재상 유리한 유형이다.
 ④ 코어를 업무공간에서 별도로 분리, 독립시킨 유형으로 분리코어라고도 한다.

2과목 : 건축시공

21. 철골보의 설계 시 플랜지(Flange)에 커버 플레이트(Cover Plate)를 설치하는 주된 목적은?
 ① 휨모멘트에 대한 보강
 ② 전단력에 대한 보강
 ③ 과도한 충격 하중에 대한 플랜지 보호
 ④ 작용 하중의 분산
22. 철골구조의 합성보에서 철골보와 슬래브를 일체화 시킬 때 그 접합부에 생기는 전단력에 저항시키기 위하여 사용되는 접합재는?
 ① 웨어 커넥터(shear connector)
 ② 게이지 라인(gage line)

- ③ 중도리(purline)
 ④ 스페이스 프레임(space frame)
23. 콘크리트는 수산화칼슘이 중성인 탄산칼슘으로 변하여 알칼리성을 상실하고 중성화하게 된다. 이 화학적인 반응을 유발하는 원인은?
 ① 질소화합물 ② 염화나트륨
 ③ 이산화탄소 ④ 규산칼륨
24. 시멘트의 응결에 대한 설명으로 옳지 않은 것은?
 ① 분말도가 큰 시멘트는 불리당을 감소시킨다.
 ② 물시멘트비가(W/C)가 낮을수록 응결 속도가 느리다.
 ③ 시멘트가 풍화되면 응결 속도가 늦어진다.
 ④ 분말도가 큰 시멘트는 비표면적이 증대된다.
25. 타일에 관한 설명으로 옳지 않은 것은?
 ① 자기질 타일은 용도상 내·외장 및 바닥용으로 사용되며 소성온도는 1,300~ 1,400℃이다.
 ② 석기질 타일은 현대건축의 벽화타일이나 이미지타일로서 폭넓게 활용되고 있다.
 ③ 도기질 타일은 내구성·내수성이 강하여 욕외나 물기가 있는 곳에 주로 사용된다.
 ④ 티타늄타일은 500℃ 전후의 고온에서도 그 성질이 변하지 않으며 내식성도 우수하다.
26. 건설계약에서 지명경쟁 입찰을 택하는 가장 큰 이유는?
 ① 건축공사비를 절감하기 위해서
 ② 공사 준공기일을 빠르게 하기 위해서
 ③ 양질의 시공결과를 얻기 위해서
 ④ 공사감리를 편하게 하기 위해서
27. 건설 프로젝트의 비용 및 일정에 대한 계획 대비실적을 통합된 기준으로 비교, 관리하는 통합공정관리 시스템은?
 ① EVMS(Earned Value Management System)
 ② QC(Quality Control)
 ③ CIC(Computer Integrated Construction)
 ④ CALS(Continuous Acquisition & Life cycle Support)
28. 지름 15cm, 높이 30cm인 원주 공시체 콘크리트의 재령 28일의 압축강도를 시험하였더니 500kN에서 파괴되었다. 이 콘크리트의 최대압축강도는? (단, π는 3.14로 계산)
 ① 7.00MPa ② 11.1MPa
 ③ 22.2MPa ④ 28.3MPa
29. 난간벽 위에 설치하는 돌을 무엇이라 하는가?
 ① 쌍돌 ② 두겹돌
 ③ 인방돌 ④ 창대돌
30. 철근의 정착 위치에 대한 설명으로 옳지 않은 것은?
 ① 기둥의 주근은 기초에 정착한다.
 ② 보의 주근은 기둥에 정착한다.
 ③ 직교하는 단부 보 밑에 기둥이 없을 때에는 벽체에 정착한다.
 ④ 벽철근은 기둥, 보, 기초 또는 바닥판에 정착한다.
31. 건축공사표준시방서에 기재하는 사항으로 가장 거리가 먼

것은?

- ① 사용 재료 ② 공법, 공사 순서
- ③ 공사비 ④ 시공 기계, 기구

32. 벽돌 벽체에 생기는 백화현상을 방지하기 위한 조치로 옳지 않은 것은?

- ① 줄눈 모르타르에 석회를 혼합하여 우수의 침입을 방지한다.
- ② 처마를 충분히 내고 벽에 직접 비가 맞지 않도록 한다.
- ③ 잘 소성된 벽돌을 사용한다.
- ④ 줄눈을 충분히 사춤하고 줄눈 모르타르에 방수제를 넣는다.

33. 콘크리트의 슬럼프 테스트(slump test)는 콘크리트의 무엇을 판단하기 위한 수단인가?

- ① 압축강도 ② 워커빌리티(workability)
- ③ 블리딩(bleeding) ④ 공기량

34. 콘크리트 공사에서 시공연도를 증진시키는 혼화재료가 아닌 것은?

- ① AE제 ② 플라이애쉬
- ③ 포졸란 ④ 급경제

35. 공사진행의 일반적인 순서로 알맞은 것은?

- ① 공사착공 준비 → 가설공사 → 토공사 → 지정 및 기초공사 → 구조체 공사
- ② 공사착공 준비 → 토공사 → 가설공사 → 구조체 공사 → 지정 및 기초공사
- ③ 공사착공 준비 → 지정 및 기초공사 → 가설공사 → 토공사 → 구조체 공사
- ④ 공사착공 준비 → 구조체 공사 → 지정 및 기초공사 → 토공사 → 가설공사

36. 목구조에서 부재의 이음과 맞춤을 할 때 주의사항으로 옳지 않은 것은?

- ① 부재의 응력이 적은 곳에서 한다.
- ② 이음과 맞춤의 단면은 응력의 방향과 관계없이 시공하기에 쉬워야 한다.
- ③ 맞춤면은 정확히 가공하여 서로 밀착되어 빈틈이 없게 한다.
- ④ 공작이 간단한 것을 쓰고 모양에 치중하지 않는다.

37. 표준관입시험에 관한 내용으로 옳지 않은 것은?

- ① N의 값은 샘플러가 30cm 관입하는데 요하는 타격횟수이다.
- ② 추의 무게는 63.5kg이다.
- ③ N값이 클수록 밀실한 토질이다
- ④ 추의 낙하 높이는 1m 정도이다.

38. 콘크리트의 배합설계에 있어 물시멘트비를 결정하는 것과 관계가 가장 적은 것은?

- ① 소요강도 ② 내구성
- ③ 수밀성 ④ 내마모성

39. 탄소강에 니켈, 망간, 규소 등을 소량 첨가하여 열간 및 냉간 가공 과정을 거쳐 보통 철근보다 강도를 향상시킨 강재는?

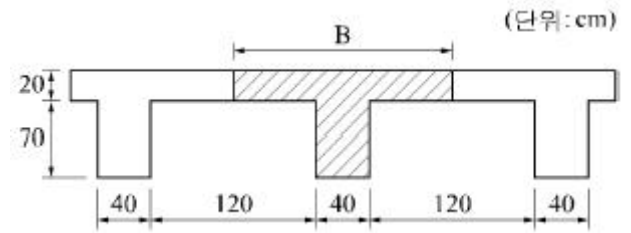
- ① 원형 철근 ② 고강도 철근
- ③ 이형 철근 ④ 피아노선

40. 시공용 기계·기구와 용도가 서로 잘못 짝지어진 것은?

- ① 임팩트렌치 - 볼트 체결 작업
- ② 디젤 해머 - 말뚝박기 공사
- ③ 핸드 오거 - 지반조사시험
- ④ 드리프트 핀 - 철근공사

3과목 : 건축구조

41. T형보의 유효폭 B의 값은? (단, 보의 스패ンは 15m이다.)

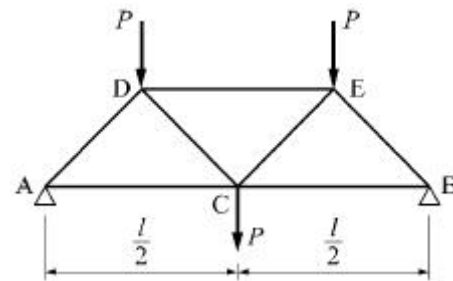


- ① 375cm ② 360cm
- ③ 210cm ④ 160cm

42. 탄성하중법의 원리를 적용시킬 수 있도록 단부의 조건을 변화시켜 처짐을 구하는 방법은?

- ① 3연 모멘트법 ② 처짐각법
- ③ 모멘트 분배법 ④ 공역(共扼)보법

43. 그림의 트러스에 관한 설명 중 옳지 않은 것은?



- ① AD재는 압축재이다. ② AC재는 인장재이다.
- ③ DE재는 인장재이다. ④ CD재는 인장재이다.

44. 철근과 콘크리트 사이의 부착력에 영향을 주는 요인에 관한 설명 중 옳지 않은 것은?

- ① 철근의 강도가 증가할수록 부착력은 높아진다.
- ② 콘크리트의 강도가 증가할수록 부착력은 높아진다.
- ③ 수평철근에서 상부철근보다 하부철근의 부착력이 높아진다.
- ④ 지름이 큰 철근보다 동일면적의 지름이 작은 여러개의 철근을 사용하면 부착력이 높아진다.

45. 철근콘크리트 줄기초의 철근 정착을 검토한 결과 사용 철근의 정착 길이가 부족하다. 이에 대한 대책으로 옳지 않은 것은?

- ① 동일면적의 직경이 큰 철근을 사용한다.
- ② 기초의 폭을 넓혀 정착 길이를 추가 확보한다.
- ③ 콘크리트의 강도를 크게 한다.
- ④ 철근 단부의 후크를 사용한다.

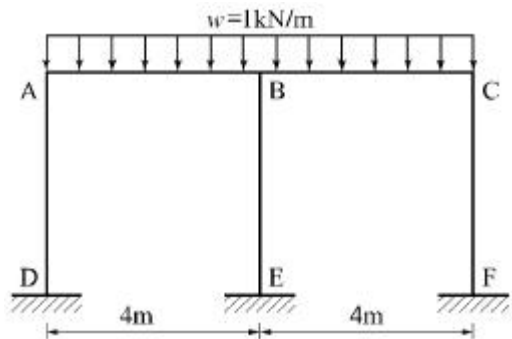
46. 트러스의 기본가정 및 해석에 관한 설명 중 옳지 않은 것은?

- ① 트러스의 각 절점은 고정단이며, 트러스에 작용하는 하중은 절점에 집중하중으로 작용한다.
- ② 절점을 연결하는 직선은 부재의 중심축과 일치하고 편심모멘트가 발생하지 않는다.
- ③ 같은 직선상에 있지 않은 2개의 부재가 모인 절점에서 그 절점에 하중이 작용하지 않으면 부재력은 0이다.
- ④ 3개의 부재가 모인 절점에서 두 부재축이 일직선으로 이루어진 두 부재의 부재력은 같다.

47. 4변이 고정인 2방향슬래브(two way slab)에서 가장 많이 하중을 받는 곳은?

- ① 장변방향 단부 ② 장변방향 중앙부
- ③ 단변방향 단부 ④ 단변방향 중앙부

48. 그림과 같은 완전대칭 라멘 구조에서 BE부재에 발생하는 휨모멘트 M_{BE} 의 크기는?

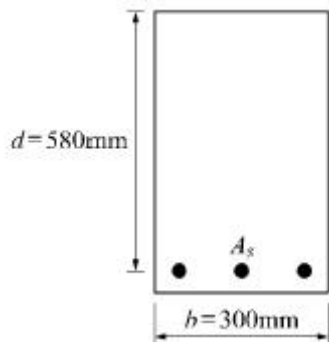


- ① 0 ② 1.5kN · m
- ③ 2kN · m ④ 4kN · m

49. 강구조 고력볼트 접합에서 표준볼트 장력은 설계볼트 장력의 몇 배로 조임을 실시하는가?

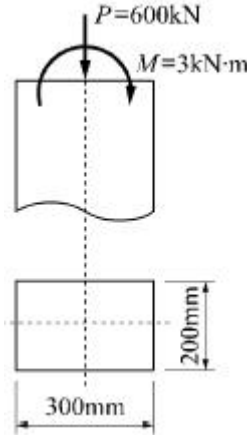
- ① 1.1배 ② 1.2배
- ③ 1.3배 ④ 1.4배

50. 강도설계법에서 그림과 같은 단면을 가지는 단근보의 설계모멘트(ϕM_n)는? (단, $f_{ck}=27\text{MPa}$, $f_y=400\text{MPa}$, $A_s=2,871\text{mm}^2$)



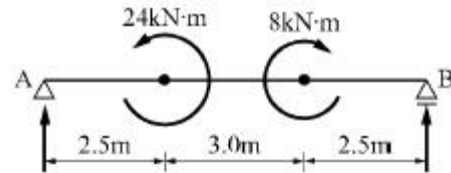
- ① 381.33kN · m ② 484.75kN · m
- ③ 569.64kN · m ④ 715.66kN · m

51. 다음 기둥단면에서 발생하는 최대응력도의 크기는?



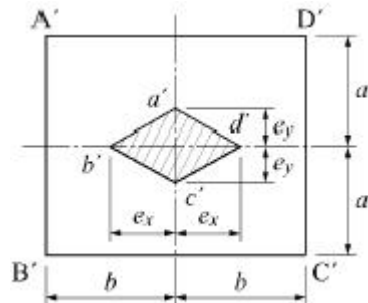
- ① 8MPa ② 11MPa
- ③ 14MPa ④ 17MPa

52. 그림과 같은 단순보에서 A지점의 수직반력은?



- ① 1kN ② 2kN
- ③ 3kN ④ 4kN

53. 다음 그림은 단면의 핵을 표시한 것이다. e_x , e_y 의 값으로 옳은 것은?



- ① $e_x = \frac{b}{6}, e_y = \frac{a}{3}$
- ② $e_x = \frac{b}{3}, e_y = \frac{a}{6}$
- ③ $e_x = \frac{b}{6}, e_y = \frac{a}{6}$
- ④ $e_x = \frac{b}{3}, e_y = \frac{a}{3}$

54. 말뚝재료별 구조 세척에 관한 기술 중 옳지 않은 것은?

- ① 나무말뚝을 타설할 때 그 중심 간격은 말뚝머리지름의 2.5배 이상 또한 600mm 이상으로 한다.
- ② 기성 콘크리트 말뚝을 타설할 때 그 중심 간격은 말뚝머리지름의 2.5배 이상 또한 750mm 이상으로 한다.
- ③ 강재말뚝을 타설할 때 그 중심 간격은 말뚝머리의 지름 또는 폭의 1.5배 이상 또한 700mm 이상으로 한다.

④ 현장타설 콘크리트 말뚝을 배치할 때 그 중심 간격은 말뚝머리 지름의 2.0배 이상 또한 말뚝머리 지름에 1000mm를 더한 값으로 한다.

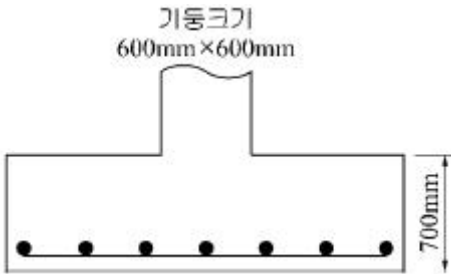
55. 강구조 기둥의 주각부분에 사용되는 것이 아닌 것은?

- ① 앵커 볼트(Anchor bolt)
- ② 리브 플레이트(Rib plate)
- ③ 플레이트 거더(Plate girder)
- ④ 베이스 플레이트(Base plate)

56. 철선의 길이 $l=1.5\text{m}$ 에 인장하중을 가하여 길이가 1.5009m 로 늘어났을 때 변형율(ϵ)은?

- ① 0.0003
- ② 0.0005
- ③ 0.0006
- ④ 0.0008

57. 정사각형 독립기초에서 뚫림 전단(punching shear) 응력을 산정할 때 검토하는 위험단면의 면적은 얼마인가? (단, 유효 깊이 $d=600\text{mm}$, 위험단면의 경계는 기둥의 경계로부터 $d/2$ 로 계산)

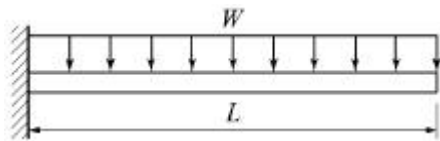


- ① 2,480,000mm²
- ② 2,680,000mm²
- ③ 2,880,000mm²
- ④ 3,080,000mm²

58. 보의 자중이 1.0kN/m이고 적재하중이 1.2kN/m인 등 분포 하중을 받는 스패 6m인 단순보의 설계용 휨모멘트의 크기는?

- ① 11.4kN · m
- ② 12.4kN · m
- ③ 13.4kN · m
- ④ 14.4kN · m

59. 그림과 같은 캔틸레버 보의 길이(L)를 2L로 할 경우에 최대 처짐량은 몇 배로 커지는가?



- ① 2배
- ② 4배
- ③ 8배
- ④ 16배

60. 폭이 300mm, 유효 깊이가 500mm인 직사각형 보에서 콘크리트가 부담하는 설계전단강도(ϕV_c)를 구하면? (단, 보통종량 콘크리트, $f_{ck}=24\text{MPa}$)

- ① 61.9kN
- ② 71.9kN
- ③ 81.9kN
- ④ 91.9kN

4과목 : 건축설비

61. 기계적 에너지가 아닌 열에너지에 의해 냉동 효과를 얻는 냉동기는?

- ① 흡수식 냉동기
- ② 터보식 냉동기

- ③ 왕복동식 냉동기
- ④ 스크루식 냉동기

62. 습공기를 가습하는 경우, 다음의 상대 습도 중 변화하지 않는 것은?

- ① 건구온도
- ② 습구온도
- ③ 절대습도
- ④ 상대습도

63. 다음은 조명설비와 관련된 용어에 관한 설명이다. ()안에 알맞은 내용은?

어떤 물체에 광속이 투사되면 그 면은 밝게 비추어진다. 그 광원에 의해 비추어진 면의 밝기 정도를 ()라 하며 단위는 럭스[lx]이다.

- ① 광도
- ② 휘도
- ③ 조도
- ④ 광속발산도

64. 공기조화방식 중 팬코일 유닛 방식에 관한 설명으로 옳지 않은 것은?

- ① 각 실 유닛의 개별 제어가 용이하다.
- ② 각 실에 수배관으로 인한 누수의 우려가 없다.
- ③ 덕트방식에 비해 유닛의 위치 변경이 용이하다.
- ④ 덕트 샤프트나 스페이스가 필요 없거나 작아도 된다.

65. 제1종 접지공사의 접지저항 값은 최대 얼마 이하로 유지하여야 하는가?

- ① 5[Ω]
- ② 10[Ω]
- ③ 50[Ω]
- ④ 100[Ω]

66. 급기와 배기측에 팬을 부착하여 정확한 환기량과 급기량 변화에 의해 실내압을 정압(+) 또는 부압(-)으로 유지할 수 있는 환기방법은?

- ① 자연환기
- ② 제1종 환기
- ③ 제2종 환기
- ④ 제3종 환기

67. 3상 평형부하에 220[V]의 전압을 가하니 10[A]의 전류가 흘렀다. 역률이 0.75일 때 소비되는 전력은?

- ① 약 953[W]
- ② 약 2858[W]
- ③ 약 4950[W]
- ④ 약 5081[W]

68. 건물 내의 급수방식 중 고가수조방식에 관한 설명으로 옳은 것은?

- ① 단수시에도 일정량의 급수가 가능하다.
- ② 3층 이상의 고층으로의 급수가 불가능하다.
- ③ 수도 본관의 영향을 그대로 받아 수압 변화가 심하다.
- ④ 위생성 및 유지·관리 측면에서 가장 바람직 한 방식이다.

69. 오배수 입상관으로부터 취출하여 위쪽의 통기관에 연결되는 배관으로, 오배수 입상관 내의 압력을 같게하기 위한 도피 통기관은?

- ① 각개통기관
- ② 결합통기관
- ③ 공용통기관
- ④ 선정통기관

70. 수질 관련 용어 중 BOD가 의미하는 것은?

- ① 용존산소량
- ② 수소이온농도

- ③ 화학적 산소요구량
- ④ 생물화학적 산소요구량

71. 용량 1kW의 커피포트로 1L의 물을 10℃에서 100℃까지 가열하는데 걸리는 시간은? (단, 열손실은 없으며, 물의 비열은 4.2kJ/kg·K, 밀도는 1kg/L이다.)

- ① 3.6분
- ② 4.8분
- ③ 6.3분
- ④ 12.2분

72. 최대 방수구역에 설치된 스프링클러헤드의 개수가 10개일 때 스프링클러설비의 수원의 최소 필요 저수량은? (단, 개방형스프링클러헤드를 사용하는 스프링클러설비의 경우)

- ① 8m³
- ② 16m³
- ③ 40m³
- ④ 32m³

73. 급탕기기 용량에 관한 설명으로 옳지 않은 것은?

- ① 일반적으로 가열기 능력과 저탕 탱크 용량과의 사이에는 반비례 관계가 있다.
- ② 급탕기기는 건물 내 사람의 일일 사용량과 피크 시간대에 대응할 수 있는 용량으로 선정한다.
- ③ 동시사용율이 높은 건물은 일반적으로 가열기 능력을 작게 하고 저장탱크는 대용량으로 한다.
- ④ 가열장치의 능력에는 단위시간 내에 물을 가열할 수 있는 가열능력과 피크 사용시에 대비해 온수를 저장하는 저장용량이 있다.

74. 간선 배선방식 중 평행식에 관한 설명으로 옳지 않은 것은?

- ① 전압 강하가 평균화된다.
- ② 사고 발생시 파급되는 범위가 좁다.
- ③ 배선이 간편하고 설비비가 적어진다.
- ④ 배전반으로부터 각 층의 분전반까지 단독으로 배선 된다.

75. 대변기의 세정방식 중 버큘 브레이커의 설치가 요구되는 것은?

- ① 세라식
- ② 로 탱크식
- ③ 하이 탱크식
- ④ 세정 밸브식

76. 열매가 증기인 경우, 방열기의 표준 방열량은?

- ① 0.450kW/m²
- ② 0.523kW/m²
- ③ 0.650kW/m²
- ④ 0.756kW/m²

77. 다음 중 배수설비에서 봉수의 파괴원인과 가장 거리가 먼 것은?

- ① 증발현상
- ② 공동현상
- ③ 모세관현상
- ④ 자기사이편작용

78. 주철제 보일러에 관한 설명으로 옳지 않은 것은?

- ① 내식성이 우수하다.
- ② 조립식이므로 분할 반입이 용이하다.
- ③ 재질이 약하여 고압으로 사용이 곤란하다.
- ④ 대형건물이나 지역난방 등에 주로 사용된다.

79. 다음은 공기조화용 공급 덕트 내 압력을 나타낸 것이다. 일반적으로 그 값이 가장 큰 것은?

- ① 전압
- ② 정압
- ③ 동압
- ④ 대기압

80. 다음의 공기조화방식 중 전공기 방식에 속하지 않는 것은?

- ① 단일덕트방식
- ② 이중덕트 방식
- ③ 유인 유닛 방식
- ④ 멀티존 유닛 방식

5과목 : 건축관계법규

81. 건축물의 대지는 원칙적으로 최소 얼마 이상이 도로에 접하여야 하는가? (단, 자동차만의 통행에 사용되는 도로는 제외)

- ① 1m
- ② 1.5m
- ③ 2m
- ④ 3m

82. 다음은 건축물의 사용승인에 관한 기준 내용이다. ()안에 알맞은 것은?

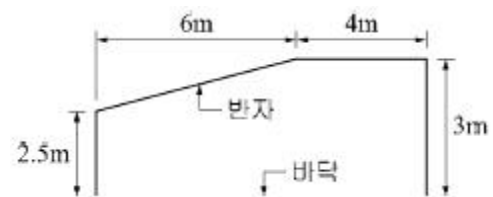
건축주가 허가를 받았거나 신고를 한 건축물의 건축공사를 완료한 후 그 건축물을 사용하려면 공사감리자가 작성한 감리완료보고서와 국토교통부령으로 정하는 ()를 첨부하여 허가권자에게 사용승인을 신청하여야 한다.

- ① 사용승인서
- ② 공사완료도서
- ③ 표준설계도서
- ④ 감리중간보고서

83. 노외주차장의 주차형식에 따른 차로의 최소 너비 관계를 옳게 나열한 것은? (단, 이론자동차전용 외의 노외주차장에서 출입구가 2개인 경우)

- ① 평행주차 < 직각주차 < 교차주차
- ② 평행주차 < 60도 대향주차 < 직각주차
- ③ 45도 대향주차 < 60도 대향주차 < 교차주차
- ④ 45도 대향주차 < 평행주차 < 60도 대향주차

84. 그림과 같은 단면을 갖는 거실의 반자높이는?



- ① 2.5m
- ② 2.75m
- ③ 2.85m
- ④ 3.0m

85. 건축물에 급수·배수·난방 및 환기설비를 설치하는 경우, 건축설비기술사 또는 공조냉동 기계기술사의 협력을 받아야 하는 대상 건축물의 연면적 기준은? (단, 참고시설은 제외)

- ① 3000m²이상
- ② 5000m²이상
- ③ 10000m²이상
- ④ 15000m²이상

86. 국토의 계획 및 이용에 관한 법령상 자연녹지 지역 안에서의 건폐율 기준은?

- ① 10% 이하
- ② 20% 이하
- ③ 30% 이하
- ④ 40% 이하

87. 다음 중 부설주차장의 최소 설치대수가 가장 많은 시설물은? (단, 시설면적이 1000m²인 경우)

- ① 장례식장
- ② 종교시설

- ③ 판매시설 ④ 위락시설

88. 건축법령상 다음과 같이 정의되는 용어는?

건축물의 내부와 외부를 연결하는 완충 공간으로서 전망이나 휴식 등의 목적으로 건축물 외벽에 접하며 부가적(附加的)으로 설치되는 공간

- ① 테라스 ② 발코니
- ③ 베란다 ④ 부속용도

89. 건축물의 건축에 있어 건축물 관련 건축기준의 허용오차 범위로 옳지 않은 것은?

- ① 출구너비 : 3% 이내 ② 반자너비 : 2% 이내
- ③ 벽체두께 : 3% 이내 ④ 바닥판두께 : 3% 이내

90. 지역의 환경을 쾌적하게 조성하기 위하여 일반이 사용할 수 있도록 소규모 휴식시설 등의 공개 공지 또는 공개 공간을 설치하여야 하는 대상 지역에 속하지 않는 것은?

- ① 준주거지역 ② 준공업지역
- ③ 전용주거지역 ④ 일반주거지역

91. 주차장의 주차단위구획(일반형) 기준으로 옳은 것은? (단, 평행주차형식 외의 경우)

- ① 너비 1.7m 이상, 길이 4.5m 이상
- ② 너비 2.0m 이상, 길이 5.0m 이상
- ③ 너비 2.5m 이상, 길이 5.0m 이상
- ④ 너비 3.3m 이상, 길이 5.0m 이상

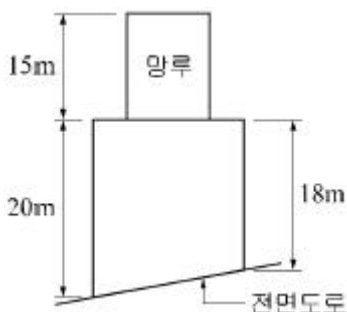
92. 공작물을 축조할 때 특별자치시장·특별자치도지사 또는 시장·군수·구청장에게 신고를 하여야 하는 대상 공작물에 속하는 것은?

- ① 높이가 5m인 굴뚝 ② 높이가 5m인 광고탑
- ③ 높이가 5m인 장식탑 ④ 높이가 5m인 기념탑

93. 다음 중 주요구조부를 내화구조로 하여야 하는 건축물은?

- ① 종교시설의 용도로 쓰는 건축물로서 집회실의 바닥면적의 합계가 300m²인 건축물
- ② 공장의 용도로 쓰는 건축물로서 그 용도로 쓰는 바닥면적의 합계가 1000m²인 건축물
- ③ 판매시설의 용도로 쓰는 건축물로서 그 용도로 쓰는 바닥면적의 합계가 300m²인 건축물
- ④ 관광휴게시설의 용도로 쓰는 건축물로서 그 용도로 쓰는 바닥면적의 합계가 400m²인 건축물

94. 가로구역별 건축물의 높이제한과 관련하여 다음과 같은 건축물의 높이는? (단, 망루부분의 수평투영면적은 당해 건축물 건축 면적의 1/10이다.)



- ① 19m ② 20m
- ③ 22m ④ 35m

95. 다음 중 설치하여야 하는 승용승강기의 최소 대수가 가장 많은 건축물의 용도는? (단, 6층 이상의 거실면적의 합계가 3000m²이며, 15인승 승강기를 설치하는 경우)

- ① 업무시설 ② 판매시설
- ③ 위락시설 ④ 노유자시설

96. 다음 중 건축법령상 공동주택에 속하지 않는 것은?

- ① 아파트 ② 연립주택
- ③ 다중주택 ④ 다세대주택

97. 다음 중 제1종 전용주거지역 안에서 건축할 수 있는 건축물에 속하지 않는 것은?

- ① 공간 ② 아파트
- ③ 다중주택 ④ 단독주택 중 단독주택

98. 다음은 창문 등의 차면시설에 관한 기준 내용이다. ()안에 알맞은 것은?

인접 대지경계선으로부터 직선거리 () 이내 이웃주택의 내부가 보이는 창문 등을 설치하는 경우에는 차면시설을 설치하여야 한다.

- ① 1m ② 2m
- ③ 3m ④ 5m

99. 사용승인 후 5년이 지난 연면적 1000m²미만의 건축물의 용도를 변경하는 경우 부설주차장을 추가로 확보하지 아니하고 건축물의 용도를 변경할 수 있는 것은? (단, 변경 후 용도의 주차대수가 많은 경우)

- ① 업무시설의 용도로 변경하는 경우
- ② 위락시설의 용도로 변경하는 경우
- ③ 문화 및 집회시설 중 공연장의 용도로 변경하는 경우
- ④ 문화 및 집결시설 중 관람장의 용도로 변경하는 경우

100. 비상용승강기 승강장의 구조에 관한 기준 내용으로 옳지 않은 것은?

- ① 채광이 되는 창문이 있거나 예비전원에 의한 조명설비를 할 것
- ② 벽 및 반자가 실내에 접하는 부분의 마감재로는 불연재료로 할 것
- ③ 옥내 승강장의 바닥면적은 비상용승강기 1대에 대하여 6m²이상으로 할 것
- ④ 피난층이 있는 승강장의 출입구로부터 도로 또는 공지에 이르는 거리가 30m 이상일 것

1	2	3	4	5	6	7	8	9	10
④	④	②	③	①	④	④	④	④	④
11	12	13	14	15	16	17	18	19	20
④	④	③	②	②	①	④	③	①	②
21	22	23	24	25	26	27	28	29	30
①	①	③	②	③	③	①	④	②	③
31	32	33	34	35	36	37	38	39	40
③	①	②	④	①	②	④	④	②	④
41	42	43	44	45	46	47	48	49	50
④	④	③	①	①	①	③	①	①	②
51	52	53	54	55	56	57	58	59	60
②	②	④	③	③	③	③	④	④	④
61	62	63	64	65	66	67	68	69	70
①	①	③	②	②	②	②	①	②	④
71	72	73	74	75	76	77	78	79	80
③	②	③	③	④	④	②	④	①	③
81	82	83	84	85	86	87	88	89	90
③	②	②	③	③	②	④	②	①	③
91	92	93	94	95	96	97	98	99	100
③	②	①	③	②	③	②	②	①	④