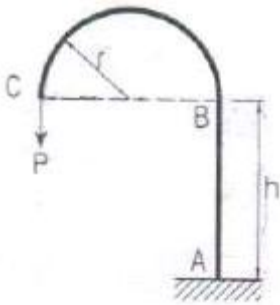


1과목 : 응용역학

1. 변의 길이 a인 정사각형 단면의 장주(長柱)가 있다. 길이가 l 이고, 최대임계축하중이 P이고 탄성계수가 E 라면 다음 설명 중 옳은 것은?

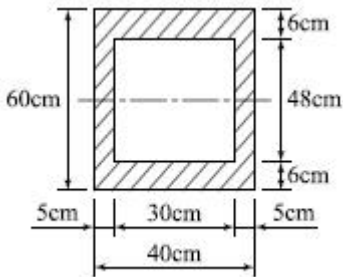
- ① P는 E에 비례, a의 3제곱에 비례, 길이 l²에 반비례
- ② P는 E에 비례, a의 3제곱에 비례, 길이 l³에 반비례
- ③ P는 E에 비례, a의 4제곱에 비례, 길이 l²에 반비례
- ④ P는 E에 비례, a의 4제곱에 비례, 길이 l³에 반비례

2. 다음 그림과 같은 구조물에서 B점의 수평변위는? (단, EI는 일정하다.)



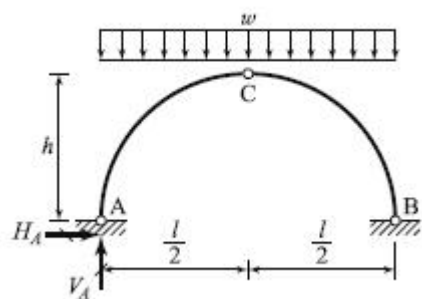
- ① $\frac{Prh^2}{4EI}$
- ② $\frac{Prh^2}{3EI}$
- ③ $\frac{Prh^2}{2EI}$
- ④ $\frac{Prh^2}{EI}$

3. 그림과 같이 속이 빈 직사각형 단면의 최대 전단응력은? (단, 전단력은 2t)



- ① 2.125kg/cm²
- ② 3.22kg/cm²
- ③ 4.125kg/cm²
- ④ 4.22kg/cm²

4. 다음 그림과 같은 3활절 포물선 아치의 수평반력(H_A)은?



- ① 0
- ② $\frac{Wl^2}{8h}$

③ $\frac{3Wl^2}{8h}$

④ $\frac{5Wl^2}{8h}$

5. 다음 그림과 같은 보에서 휨모멘트에 의한 탄성변형 에너지를 구한 값은?



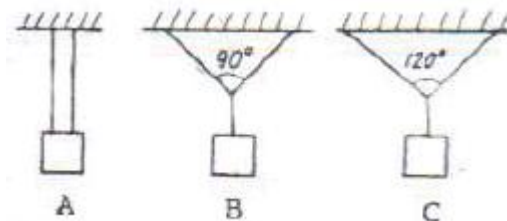
- ① $\frac{W^2l^5}{8EI}$
- ② $\frac{W^2l^5}{24EI}$
- ③ $\frac{W^2l^5}{40EI}$
- ④ $\frac{W^2l^5}{48EI}$

6. 다음과 같은 2경간 연속보에서 B점이 5cm 아래로 침하하고, C점이 2cm 위로 상승하는 변위를 각각 취했을 때 B점이 휨모멘트로서 옳은 것은?



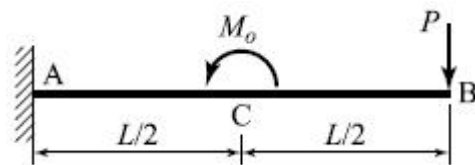
- ① 20EIδ²
- ② 18EIδ²
- ③ 15EIδ²
- ④ 12EIδ²

7. 무게 1kgf의 물체를 두 끈으로 늘어 뜨렸을 때 한 끈이 받는 힘의 크기 순서가 옳은 것은?



- ① B>A>C
- ② C>A>B
- ③ A>B>C
- ④ C>B>A

8. 아래 그림과 같은 캔틸레버 보에서 B점의 연직변위(δ)는? (단, M₀=0.4t·m, P=1.6t, L=2.4m, EI=600t·m²이다.)



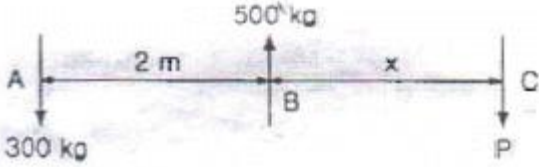
- ① 1.08cm(↓)
- ② 1.08cm(↑)
- ③ 1.37cm(↓)
- ④ 1.37cm(↑)

9. 직경 d인 원형단면의 단면 2차 극모멘트 I_p의 값은?

- ① $\frac{\pi d^4}{64}$
- ② $\frac{\pi d^4}{32}$

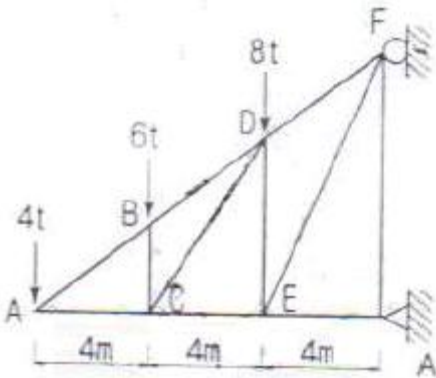
③ $\frac{\pi d^4}{16}$ ④ $\frac{\pi d^4}{4}$

10. 다음 그림과 같은 세 힘이 평형 상태에 있다면 점 C에서 작용하는 힘 P와 BC사이의 거리 x로 옳은 것은?



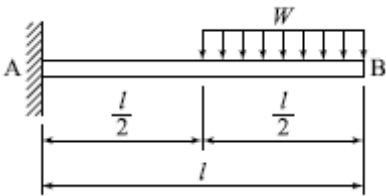
- ① P = 200kg, x = 3m ② P = 300kg, x = 3m
 ③ P = 200kg, x = 2m ④ P = 300kg, x = 2m

11. 다음 트러스에서 CD 부재의 부재력은?(단, FA=9m)



- ① 5.542t(인장) ② 6.012t(인장)
 ③ 7.211t(인장) ④ 6.242t(인장)

12. 그림과 같은 캔틸레버보에서 최대 처짐각(θ_B)은? (단, 티는 일정하다.)

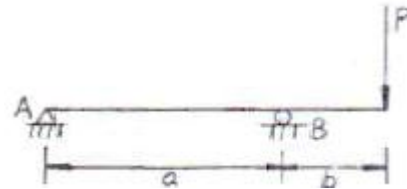


- ① $\frac{3Wl^3}{48EI}$ ② $\frac{7Wl^3}{48EI}$
 ③ $\frac{9Wl^3}{48EI}$ ④ $\frac{5Wl^3}{48EI}$

13. 평균 지름 d=1200mm, 벽두께t=6mm를 갖는 긴 강제수도관(鋼製水道管)이 P=10kg/cm²의 내압을 받고 있다. 이 관벽 속에 발생하는 원환응력(圓環應力)의 크기는?

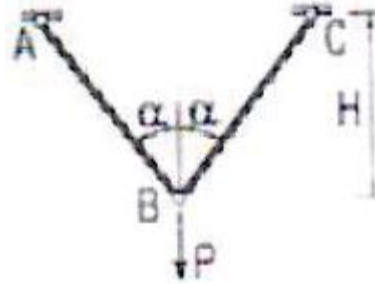
- ① 16.6kg/cm² ② 450kg/cm²
 ③ 900kg/cm² ④ 1000kg/cm²

14. 다음 그림과 같은 보에서 B지점의 반력이 2P가 되기 위해서 b/a 는 얼마가 되어야 하는가?



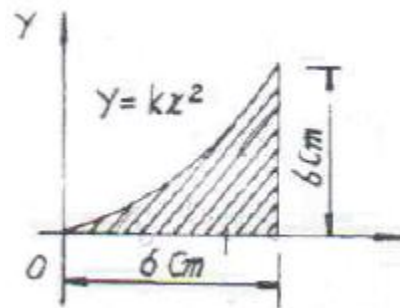
- ① 0.50 ② 0.75
 ③ 1.00 ④ 1.25

15. B점의 수직변위가 1이 되기 위한 하중의 크기 P는? (단, 부재의 축강성은 EA로 동일하다.)



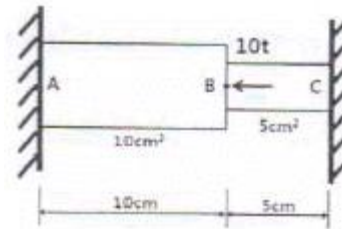
- ① $\frac{E \cos^3 a}{AH}$ ② $\frac{2E \cos^3 a}{AH}$
 ③ $\frac{EA \cos^3 a}{H}$ ④ $\frac{2EA \cos^3 a}{H}$

16. 다음 그림에서 빗금친 부분의 X 축에 관한 단면 2차 모멘트는?




- ① 56.2cm⁴ ② 58.5cm⁴
 ③ 61.7cm⁴ ④ 64.4cm⁴

17. 다음에서 부재 BC에 걸리는 응력의 크기는?



- ① 2/3 t/cm² ② 1 t/cm²
 ③ 3/2 t/cm² ④ 2 t/cm²

18. 아래 그림과 같은 단순보의 B점에 하중 5t이 연직 방향으로 작용하면 C점에서의 휨모멘트는?

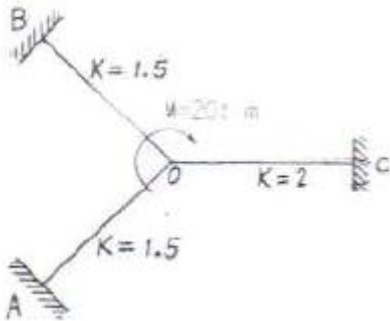


- ① 3.33 t·m ② 5.4 t·m
- ③ 6.67 t·m ④ 10.0 t·m

19. 길이 10m, 폭 20cm, 높이 30cm인 직사각형 단면을 갖는 단순보에서 자중에 의한 최대휨응력은? (단, 보의 단위중량은 25kN/m³으로 균일한 단면을 갖는다.)

- ① 6.25MPa ② 9.375MPa
- ③ 12.25MPa ④ 15.275MPa

20. 절점 O는 이동하지 않으며, 재단 A, B, C가 고정일 때 Mco의 크기는 얼마인가? (단, K는 강비이다.)



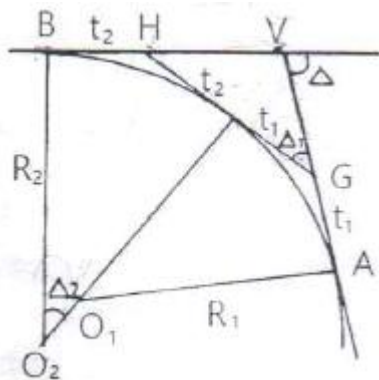
- ① 2.5 t·m ② 3 t·m
- ③ 3.5 t·m ④ 4 t·m

2과목 : 측량학

21. 종단면도에 표기하여야하는 사항으로 거리가 먼 것은?

- ① 흙막기 토량과 흙쌓기 토량 ② 거리 및 누가거리
- ③ 지반고 및 계획고 ④ 경사도

22. 그림과 같은 복곡선(Compound Curve)에서 관계식으로 틀린 것은?



- ① $\Delta_1 = \Delta - \Delta_2$
- ② $t_2 = R_2 \tan \frac{\Delta_2}{2}$
- ③ $VG = (\sin \Delta_2) \left(\frac{GH}{\sin \Delta} \right)$

④ $VB = (\sin \Delta_2) \left(\frac{GH}{\sin \Delta} \right) + t_2$

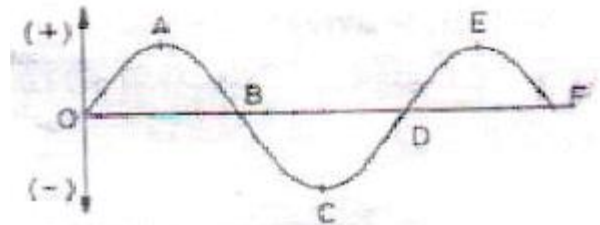
23. 지구의 곡률에 의하여 발생하는 오차를 1/10⁶까지 허용한다면 평면으로 가정할 수 있는 최대 반지름은? (단, 지구곡률 반지름 R=6370km)

- ① 약 5 km ② 약 11 km
- ③ 약 22 km ④ 약 110 km

24. 3차 중첩 내삽법(Cubic convolution)에 대한 설명으로 옳은 것은?

- ① 계산된 좌표를 기준으로 가까운 3개의 화소값의 평균을 취한다.
- ② 영상분류와 같이 원영상의 화소값과 통계치가 중요한 작업에 많이 사용된다.
- ③ 계산이 비교적 빠르며 출력영상이 가장 매끄럽게 나온다.
- ④ 보정전 자료와 통계치 및 특성의 손상이 많다.

25. 그림과 같은 유토곡선(mass curve)에서 하향구간이 의미하는 것은?



- ① 성토구간 ② 절토구간
- ③ 운반토량 ④ 운반거리

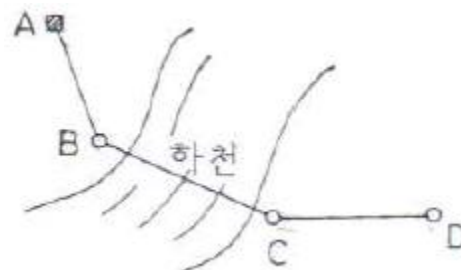
26. 높이 2774m인 상의 정상에 위치한 저수지의 가장 긴 변의 거리를 관측한 결과 1950m이었다면 평균 해수면으로 환산한 거리는? (단, 지구반지름 R=6377km)

- ① 1949.152m ② 1950.849m
- ③ -0.848m ④ 0.848m

27. 축척 1:2000 도면상의 면적을 축척 1:1000으로 잘못 알고 면적을 관측하여 24000m²를 얻었다면 실제 면적은?

- ① 6000m² ② 12000m²
- ③ 48000m² ④ 96000m²

28. 그림과 같이 수준측량을 실시하였다. A점의 표고는 300m이고, B와 C구간은 교호수준측량을 실시하였다면, D점의 표고는? (표고차:A→B:+1.233m, B→C:+0.726m, C→B:-0.720m, C→D:-0.926m)



- ① 300.310m ② 301.030m
- ③ 302.153m ④ 302.882m

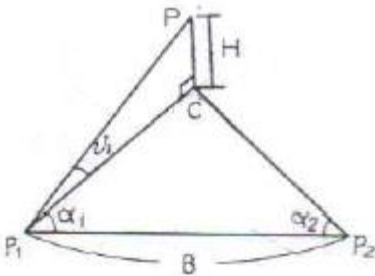
29. 촬영고도 1000m로부터 초점거리 15cm의 카메라로 촬영한 중복도 60%인 2장의 사진이 있다. 각각의 사진에서 주점기 선장을 측정할 결과 124mm와 132mm이었다면 비고 60m인 굴곡의 시차차는?(관련 규정 개정전 문제로 여기서는 기존 정답인 3번을 누르면 정답 처리됩니다. 자세한 내용은 해설을 참고하세요.)

- ① 8.0mm ② 7.9mm
- ③ 7.7mm ④ 7.4mm

30. 지표면상의 A, B간의 거리가 7.1km라고 하면 B 점에서 A 점을 시준할 때 필요한 측표(표척)의 최소 높이로 옳은 것은? (단, 지구의 반지름은 6,370km이고, 대기의 굴절에 의한 요인은 무시한다.)

- ① 1m ② 2m
- ③ 3m ④ 4m

31. 그림과 같이 $\triangle P_1P_2C$ 는 동일 평면상에서 $\alpha_1=62^\circ 8'$, $\alpha_2=56^\circ 27'$, $B=60.00m$ 이고 연직각 $v_1=20^\circ 46'$ 일 때 C로부터 P까지의 높이 H는?



- ① 24.23m ② 22.90m
- ③ 21.59m ④ 20.58m

32. 확폭량이 S인 노선에서 노선의 곡선 반지름(R)을 두 배로 하면 확폭량(S')은?

- ① $S' = 1/4 S$ ② $S' = 1/2 S$
- ③ $S' = 2S$ ④ $S' = 4S$

33. 다각측량을 위한 수평각 측정방법 중 어느 측선의 바로 앞 측선의 연장선과 이루는 각을 측정하여 각을 측정하는 방법은?

- ① 편각법 ② 교각법
- ③ 방위각법 ④ 전진법

34. 수준측량과 관련된 용어에 대한 설명으로 틀린 것은?

- ① 수준면(level surface)은 각 점들이 중력방향에 직각으로 이루어진 곡면이다.
- ② 지구곡률을 고려하지 않는 범위에서는 수준면(level surface)을 평면으로 간주한다.
- ③ 지구의 중심을 포함한 평면과 수준면이 교차하는 선이 수준선(level line)이다.
- ④ 어느 지점의 표고(elevation)라 함은 그 지역 기준타원체로부터의 수직거리를 말한다.

35. 하천에서 2점법으로 평균유속을 구할 경우 관측하여야 할 두 지점의 위치는?

- ① 수면으로부터 수심의 1/5, 3/5 지점
- ② 수면으로부터 수심의 1/5, 4/5 지점
- ③ 수면으로부터 수심의 2/5, 3/5 지점

④ 수면으로부터 수심의 2/5, 4/5 지점

36. 직사각형의 두변의 길이를 1/100 정밀도로 관측하여 면적을 산출할 경우 산출된 면적의 정밀도는?

- ① 1/50 ② 1/100
- ③ 1/200 ④ 1/300

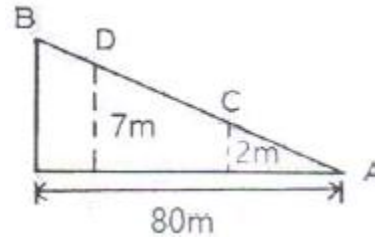
37. 삼각측량을 위한 삼각망 중에서 유심다각망에 대한 설명으로 틀린 것은?

- ① 농지측량에 많이 사용된다.
- ② 방대한 지역의 측량에 적합하다.
- ③ 삼각망 중에서 정확도가 가장 높다.
- ④ 동일측점 수에 비하여 포함면적이 가장 넓다.

38. 사진측량의 특수 3점에 대한 설명으로 옳은 것은?(관련 규정 개정전 문제로 여기서는 기존 정답인 2번을 누르면 정답 처리됩니다. 자세한 내용은 해설을 참고하세요.)

- ① 사진 상에서 등각점을 구하는 것이 가장 쉽다.
- ② 사진의 경사각이 0° 인 경우에는 특수 3점이 일치한다.
- ③ 기복변위는 주점에서 0이며 연직점에서 최대이다.
- ④ 카메라 경사에 의한 사선방향의 변위는 등각점에서 최대이다.

39. 등경사인 지성선 상에 있는 A, B표고가 각각 43m,63m이고 AB의 수평거리는 80m이다. 45m,50m 등고선과 지성선 AB의 교점을 각각 C,D라고 할 때 AC의 도상길이는? (단, 도상축척은 1:100이다.)



- ① 2cm ② 4cm
- ③ 8cm ④ 12cm

40. 트래버스 측량에 관한 일반적인 사항에 대한 설명으로 옳지 않은 것은?

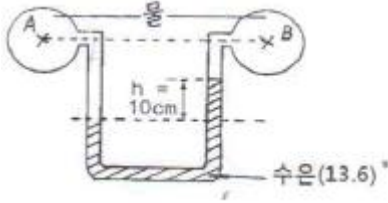
- ① 트래버스 종류 중 결합트래버스는 가장 높은 정확도를 얻을 수 있다.
- ② 각관측 방법 중 방위각법은 한번 오차가 발생하면 그 영향은 끝까지 미친다.
- ③ 폐합오차 조정방법 중 컴퍼스법칙은 각관측의 정밀도가 거리관측의 정밀도보다 높을 때 실시한다.
- ④ 폐합트래버스에서 편각의 총합은 반드시 360°가 되어야 한다.

3과목 : 수리학 및 수문학

41. 개수로 지배단면의 특성으로 옳은 것은?

- ① 하천흐름이 부정류인 경우에 발생한다.
- ② 완경사의 흐름에서 배수곡선이 나타나면 발생한다.
- ③ 상류 흐름에서 사류 흐름으로 변화할 때 발생한다.
- ④ 사류인 흐름에서 도수가 발생할 때 발생한다.

42. 그림과 같은 학주계에서 수은면의 차가 10cm이었다면 A,B 점의 수압차는? (단, 수은은 비중=13.6, 무게 1kg=9.8N)



- ① 133.5kPa ② 123.5kPa
- ③ 13.35kPa ④ 12.35kPa

43. 도수(hydraulic jump) 전후의 수심 h_1, h_2 의 관계를 도수 전의 Froude수 r_1 의 함수로 표시한 것으로 옳은 것은?

- ① $\frac{h_1}{h_2} = \frac{1}{2}(\sqrt{8Fr_1^2 + 1} - 1)$
- ② $\frac{h_1}{h_2} = \frac{1}{2}(\sqrt{8Fr_1^2 + 1} + 1)$
- ③ $\frac{h_2}{h_1} = \frac{1}{2}(\sqrt{8Fr_1^2 + 1} - 1)$
- ④ $\frac{h_2}{h_1} = \frac{1}{2}(\sqrt{8Fr_1^2 + 1} + 1)$

44. 관로 길이 100m, 안지름 30cm의 주철관에 0.1m³/s의 유량을 송수할 때 손실수두는? (단, $v=C\sqrt{(RI)}$, $C=63m^2/s$)이다.

- ① 0.54m ② 0.67m
- ③ 0.74m ④ 0.88m

45. 안지름 2m의 관내를 20℃의 물이 흐를 때 동점성 계수가 0.0101cm²/s 이고 속도가 50 cm/s라면 이 때의 레이놀즈 수(Reynolds number)는?

- ① 960,000 ② 970,000
- ③ 980,000 ④ 990,000

46. 관 벽면의 마찰력 τ_0 유체의 밀도 ρ , 점성계수를 μ 라 할 때 마찰속도(U^*)는?

- ① $\frac{\tau_0}{\rho\mu}$ ② $\sqrt{\frac{\tau_0}{\rho\mu}}$
- ③ $\sqrt{\frac{\tau_0}{\rho}}$ ④ $\sqrt{\frac{\tau_0}{\mu}}$

47. 저수지의 물을 방류하는데 1:225 로 축소된 모형에서 4분이 소요되었다면, 원형에서의 소요시간은?

- ① 60분 ② 120분
- ③ 900분 ④ 3375분

48. 강우강도(I), 지속시간(D), 생기반도(F) 관계를 표현하는 식

$$I = \frac{kT^x}{t^n} \text{ 에 대한 설명으로 틀린 것은?}$$

- ① t : 강우의 지속시간(min)으로서, 강우가 계속 지속 될수록 강우강도는()는 커진다.
- ② I : 단위시간에 내리는 강우량(mm/hr)인 강우강도이며 각종 수문학적 해석 및 설계에 필요하다.
- ③ T : 강우의 생기반도를 나타내는 연수(年數)로 재현기간(년)을 의미한다.
- ④ k, x, n : 지역에 따라 다른 값을 가지는 상수이다.

49. 지속시간 2hr인 어느 단위유량도의 기저시간이 10hr이다. 강우강도가 각각 2.0, 3.0 및 5.0cm/hr이고 강우지속기간은 똑같이 모두 2hr인 3개의 유효강우가 연속해서 내릴 경우 이로 인한 직접유출수문곡선의 기저시간은?

- ① 2hr ② 10hr
- ③ 14hr ④ 16hr

50. 직사각형의 단면 (폭 4m×수심 2m)개수로에서 Manning공식의 조도계수 $n=0.017$ 이고 유량 $Q=15m^3/s$ 일 때 수로의 경사(I)는?

- ① 1.016×10^{-3} ② 4.584×10^{-3}
- ③ 15.365×10^{-3} ④ 31.875×10^{-3}

51. 하상계수(河狀係數)에 대한 설명으로 옳은 것은?

- ① 대하천의 주요 지점에서의 강우량과 저수량의 비
- ② 대하천의 주요 지점에서의 최소유량과 최대유량의 비
- ③ 대하천의 주요 지점에서의 홍수량과 하천유지유량의 비
- ④ 대하천의 주요 지점에서의 최소유량과 갈수량의 비

52. 어떤 유역에 표와 같이 30분간 집중호우가 발생하였다. 지속시간 15분인 최대 강우 강도는?

시간(분)	0~5	5~10	10~15
우량(mm)	2	4	6

시간(분)	15~20	20~25	25~30
우량(mm)	4	8	6

- ① 80mm/hr ② 72mm/hr
- ③ 64mm/hr ④ 50mm/hr

53. 수평으로 관 A와 B가 연결되어 있다. 관A에서 유속은 2m/s, 관 B에서의 유속은 3m/s 이며, 관B에서의 유체압력이 9.8kN/m²이라 하면 관A에서의 유체압력은? (단, 에너지 손실은 무시한다.)

- ① 2.5kN/m² ② 12.3kN/m²
- ③ 22.6kN/m² ④ 37.6kN/m²

54. 연직오리피스에서 일반적인 유량계수C의 값은?

- ① 대략 1.00 전후이다. ② 대략 0.80 전후이다,
- ③ 대략 0.60 전후이다. ④ 대략 0.40 전후이다.

55. 직사각형 단면의 수로에서 최소비에너지가 1.5m라면 단위 폭당 최대유량은? (단, 에너지보정계수 $\alpha=1.0$)

- ① 2.86m³/s ② 2.98m³/s
- ③ 3.13m³/s ④ 3.32m³/s

56. 부피가 4.6m³인 유체의 중량이 51.548kN 일 때 이 유체의 비중은?

- ① 1.14 ② 5.26

- ③ 11.40 ④ 1143.48

57. 여과량이 2m³/s이고 동수경사가 0.2, 투수계수가 1cm/s일 때 필요한 여과지 면적은?

- ① 2500m² ② 2000m²
 ③ 1500m² ④ 1000m²

58. 두 개의 불투수층 사이에 있는 대수층의 두께 a, 투수계수 k인 곳에 반지름 r₀인 굴착정(artesian well)을 설치하고 일정 양수량 Q를 양수 하였다. 양수 전 굴착정 내의 수위 H가 h₀로 하강하여 정상흐름이 되었다. 굴착정의 영향원 반지름을 R이라 할 때(H-h₀)의 값은?

- ① $\frac{2Q}{\pi ak} \ln\left(\frac{R}{r_0}\right)$ ② $\frac{Q}{2\pi ak} \ln\left(\frac{R}{r_0}\right)$
 ③ $\frac{2Q}{\pi ak} \ln\left(\frac{r_0}{R}\right)$ ④ $\frac{Q}{2\pi ak} \ln\left(\frac{r_0}{R}\right)$

59. 베르누이 정리의 $\frac{\rho}{2} V^2 + wZ + P = H$ 로 표현할때, 이 식에서 정체압(stagnation pressure)은?

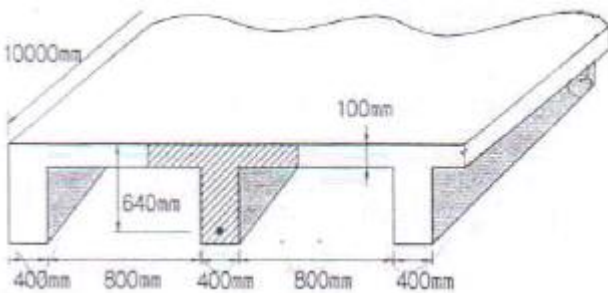
- ① $\frac{\rho}{2} V^2 + wZ$ 로 표시한다. ② $\frac{\rho}{2} V^2 + P$ 로 표시한다.
 ③ wZ+P 로 표시한다. ④ P로 표시한다.

60. 합성 단위유량도의 모양을 결정하는 인자가 아닌 것은?

- ① 기저시간 ② 첨두유량
 ③ 지체시간 ④ 강우강도

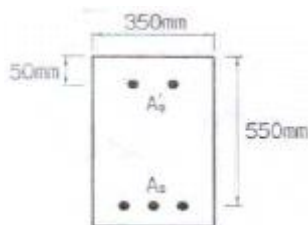
4과목 : 철근콘크리트 및 강구조

61. 아래 그림의 빗금친 부분이 같은 단철근 T형보의 등가응력의 깊이(a)는? (단, A_s=6345mm², f_{ck}=24MPa, f_y=400MPa)



- ① 96.7mm ② 111.5mm
 ③ 121.3mm ④ 128.6mm

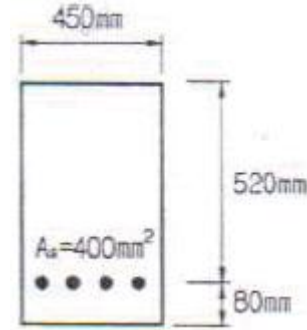
62. 그림과 같은 복철근 직사각형 보에서 공칭모멘트 강도(M_n)는? (단, f_{ck}=24MPa, f_y=350MPa, A_s=5730mm², A_s'=1980mm²)



- ① 947.7kN·m ② 886.5kN·m

- ③ 805.6kN·m ④ 725.3kN·m

63. 다음 단면의 균열 모멘트 M_{cr}의 값은? (단, 보통종량 콘크리트로서, f_{ck}=25MPa, f_y=400MPa)



- ① 16.8kN·m ② 41.58kN·m
 ③ 63.88kN·m ④ 85.05kN·m

64. 다음과 같은 옹벽의 각 부분 중 직사각형보로 설계해야 할 부분은?

- ① 앞부벽 ② 부벽식 옹벽의 전면벽
 ③ 캔틸레버식 옹벽의 전면벽 ④ 부벽식 옹벽의 저판

65. 콘크리트 설계기준 강도가 28MPa, 철근의 항복강도가 350MPa로 설계된 내민길이 4m인 캔틸레버보가 있다. 처짐을 계산하지 않는 경우의 최소 두께는?

- ① 340mm ② 465mm
 ③ 512mm ④ 600mm

66. 2방향 슬래브 설계 시 직접설계법을 적용할 수 있는 제한사항에 대한 설명으로 틀린 것은?

- ① 각 방향으로 3경간 이상 연속되어야 한다.
 ② 슬래브 판들은 단면 경간에 대한 장변 경간의 비가 20이하인 직사각형이어야 한다.
 ③ 연속한 기둥 중심선을 기준으로 기둥의 어긋남은 그 방향 경간의 15% 이하 이어야한다.
 ④ 각 방향으로 연속한 받침부 중심간 경간차이는 긴 경간의 1/3이하 이어야한다.

67. PS콘크리트의 균등질 보의 개념(homogeneous beam concept)을 설명한 것으로 가장 적당한 것은?

- ① 콘크리트에 프리스트레스가 가해지면 PSC부재는 탄성재료로 전환되고 이의 해석은 탄성이론으로 가능하다는 개념
 ② PSC보를 RC 보처럼 생각하여, 콘크리트는 압축력을 받고 긴장재는 인장력을 받게 하여 두형의 우력 멘트로 외력에 의한 휨모멘트에 저항시키는 개념
 ③ PS콘크리트는 결국 부재에 작용하는 하중의 일부 또는 전부를 미리 가해진 프리스트레스와 평행이 되도록 하는 개념
 ④ PS콘크리트는 강도가 크기 때문에 보의 단면을 강재의 단면으로 가정하여 압축 및 인장을 단면 전체가 부담할 수 있다는 개념

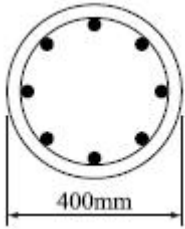
68. 깊은보에 대한 전단 설계의 규정 내용으로 틀린 것은? (단, λ : 받침부 내면 사이의 순경간, λ : 경량콘크리트 계수, b_w : 복부의 폭, d : 유효깊이, s : 종방향 철근에 평행한 방향으로 전단철근의 간격 s_h : 종방향 철근에 평행한 방향으로 전단철근의 간격)

- ① l_n 이 부재 깊이의 3배 이상인 경우 깊은 보로서 설계한

다.

- ② 깊은보의 V_n 은 $(5\lambda\sqrt{f_{ck}/6})b_w d$ 이하이어야 한다.
- ③ 횡인장철근과 직각인 수직전단철근의 단면적 A_v 를 $0.0025b_w$ 이상으로 하여야 한다.
- ④ 횡인장철근과 평행한 수평전단철근의 단면적 A_{vh} 를 $0.0015b_w s_h$ 이상으로 하여야 한다.

69. 그림과 같은 나선철근 단주의 공정 중심축하중(P_n)은? (단, $f_{ck}=24\text{MPa}$, $f_y=400\text{MPa}$ 축방향 철근은 8-D25($A_{st}=4050\text{mm}^2$)를 사용)



- ① 2125.2kN ② 2734.3kN
- ③ 3168.6kN ④ 3485.8kN

70. 폭 $b=300\text{mm}$, 유효깊이 $d=500\text{mm}$, 철근단면적 $A_s=2200\text{mm}^2$ 을 갖는 단철근 콘크리트 직사각형 휨모멘트 강도(ϕM_n)는? (단. 콘크리트 설계기준강도 $f_{ck}=27\text{MPa}$, 철근 항복강도 $f_y=400\text{MPa}$)

- ① 186.6kN·m ② 234.7kN·m
- ③ 284.5kN·m ④ 326.2kN·m

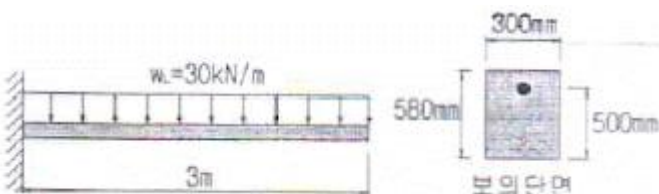
71. 용접이음에 관한 설명으로 틀린 것은?

- ① 리벳구멍으로 인한 단면 감소가 없어서 강도 저하가 없다.
- ② 내부 검사(X-선 검사)가 간단하지 않다.
- ③ 작업의 소음이 적고 경비와 시간이 절약된다.
- ④ 리벳이음에 비해 약하므로 응력 집중 현상이 일어나지 않는다.

72. $b=350\text{mm}$, $d=550\text{mm}$ 인 직사각형 단면의 보에서 지속하중에 의한 순간처짐이 16mm였다. 1년 후 총 처짐량은 얼마인가?(단, $A_s=2,246\text{mm}^2$, $A_s'=1,284\text{mm}^2$, $\xi=1.4$)

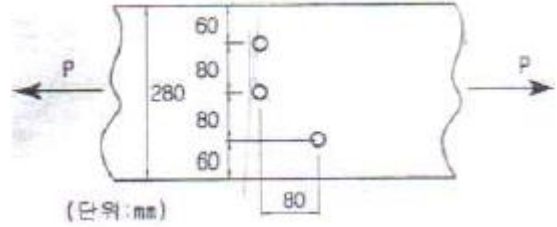
- ① 20.5mm ② 32.8mm
- ③ 42.1mm ④ 26.5mm

73. 그림과 같이 활하중(w)은 30kN/m , 고정하중(w_D)은 콘크리트의 자중(단위무게 23kN/m^3)만 작용하고 있는 캔틸레버보가 있다. 이 보의 위험단면에서 전단 철근이 부담해야 할 전단력은? (단, 하중은 하중조합을 고려한 소요강도(U)를 적용하고, $f_{ck}=24\text{MPa}$, $f_y=300\text{MPa}$ 이다.)



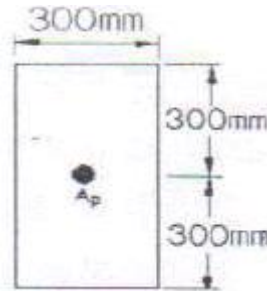
- ① 88.7kN ② 53.5kN
- ③ 21.3kN ④ 9.5kN

74. 아래 그림과 같은 두께 12mm평판의 순단면적을 구하면? (단, 구멍의 직경은 23mm이다.)



- ① 2310mm² ② 2340mm²
- ③ 2772mm² ④ 2928mm²

75. 그림과 같은 단면의 도심에 PS강재가 배치되어있다. 초기 프리스트레스 힘을 1800kN작용시켰다. 30%의 손실을 가정하여 콘크리트의 하연 응력이 0이 되도록 하려면 이때의 휨모멘트 값은? (단, 자중은 무시)



- ① 120kN·m ② 126kN·m
- ③ 130kN·m ④ 150kN·m

76. 초기 프리스트레스가 1200MPa이고, 콘크리트의 건조수축 변형률 $\epsilon_{sh}=1.8 \times 10^{-4}$ 일 때 긴장재의 인장 응력의 감소는? (단, $E_p=2.0 \times 10^5\text{MPa}$)

- ① 12MPa ② 24MPa
- ③ 36MPa ④ 48MPa

77. 설계기준 압축강도 (f_{ck})가 24MPa이고, 쏘랭인장강도(f_{sp})가 2.4MPa인 경량골재 콘크리트에 작용하는 경량콘크리트계수(λ)는?

- ① 0.75 ② 0.85
- ③ 0.87 ④ 0.92

78. 철골 압축재의 좌굴 안정성에 대한 설명으로 틀린 것은?

- ① 좌굴길이가 길수록 유리하다.
- ② 힌지지지보다 고정지지가 유리하다.
- ③ 단면2차모멘트 값이 클수록 유리하다.
- ④ 단면2차반지름이 클수록 유리하다.

79. 유효깊이(d)가 500mm인 직사각형 단면보에 $f_y=400\text{MPa}$ 인 인장철근이 1열로 배치되어 있다. 중립축(c)의 위치가 압축연단에서 200mm인 경우 강도감소계수(ϕ)는?(2021년 변경된 기준 적용됨)

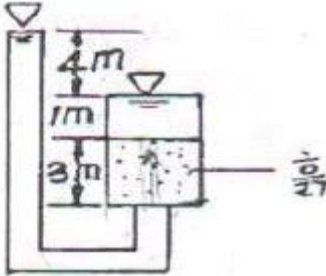
- ① 0.804 ② 0.817
- ③ 0.834 ④ 0.846

80. 사용 고정 하중(D)과 활하중(L)을 작용시켜서 단면에서 구한 휨모멘트는 각각 $M_D=30\text{kN}\cdot\text{m}$, $M_L=3\text{kN}\cdot\text{m}$ 이었다. 주어진 단면에 대해서 현행 콘크리트구조설계기준에 따라 최대 소요 강도를 구하면?

- ① 30kN·m ② 40.8kN·m
- ③ 42kN·m ④ 48.2kN·m

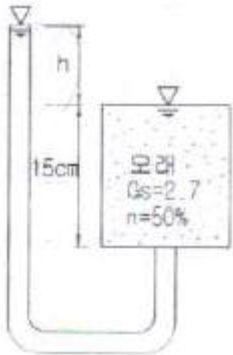
5과목 : 토질 및 기초

81. 다음은 그림에서 흙의 저면에 작용하는 단위 면적당 침투수 압은?



- ① 8t/m² ② 5t/m²
- ③ 4t/m² ④ 3t/m²

82. 그림에서 안전율 3을 고려하는 경우, 수두차 h를 최소 얼마로 높일 때 모래시료에 분사현상이 발생하겠는가?



- ① 12.75cm ② 9.75cm
- ③ 4.25cm ④ 3.25cm

83. 내부마찰각이 30°, 단위중량이 1.8t/m³인 흙의 인장균열 깊이가 3m일 때 점착력은?

- ① 1.56t/m² ② 1.67t/m²
- ③ 1.75t/m² ④ 1.81t/m²

84. 다져진 흙의 역학적 특성에 대한 설명으로 틀린 것은?

- ① 다짐에 의하여 간극이 작아지고 부착력이 커져서 역학적 강도 및 지지력은 증대하고, 압축성, 흡수성 및 투수성은 감소한다.
- ② 점토를 최적함수비보다 약간 건조측의 함수비로 다지면 면모구조를 가지게 된다.
- ③ 점토를 최적함수비보다 약간 습윤측에서 다지면 투수계수가 감소하게 된다.
- ④ 면모구조를 파괴시키지 못할 정도의 작은 압력으로 점토시료를 압밀할 경우 건조측 다짐을 한 시료가 습윤측 다짐을 한 시료보다 압축성이 크다.

85. 사면안정계산에 있어서 Fellenius법과 간편 Bishop법의 비교 설명으로 틀린 것은?

- ① Fellenius법은 간편 Bishop법보다 계산은 복잡하지만 계산결과는 더 안전측이다.
- ② 간편 Bishop법은 절편의 양쪽에서 작용하는 연직 방향의

합력은 0(zero)이라고 가정한다.

- ③ Fellenius법은 절편의 양쪽에 작용하는 연직 방향의 합력은 0(zero)이라고 가정한다.
- ④ 간편 Bishop법은 안전율을 시행착오법으로 구한다.

86. 점착력이 5t/m², γ_t=1.8t/m³의 비배수상태(φ=0)인 포화된 점성토 지반에 직경 40cm, 길이 10m의 PHC 말뚝이 항타시공되었다. 이 말뚝의 선단지지력은? (단, Meyerhof 방법을 사용)

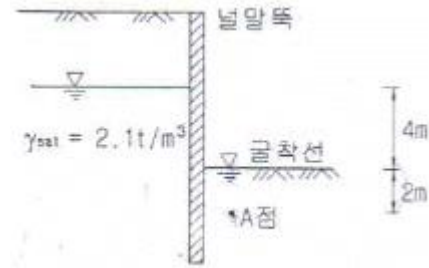
- ① 1.57t ② 3.23t
- ③ 5.65t ④ 45t

87. 사질토에 대한 직접 전단시험을 실시하여 다음과 같은 결과를 얻었다. 내부마찰각은 약 얼마인가?

수직응력(t/m ²)	3	6	9
최대전단응력(t/m ²)	1.73	3.46	5.19

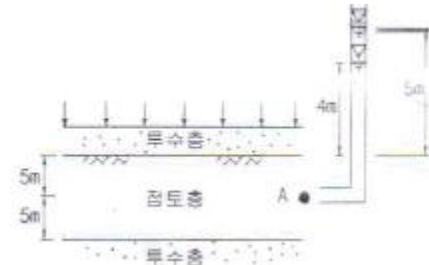
- ① 25° ② 30°
- ③ 35° ④ 40°

88. 그림과 같은 지반에 널말뚝을 박고 기초굴착을 할 때 A점의 압력수두가 3m이라면 A점의 유효응력은?



- ① 0.1t/m² ② 1.2t/m²
- ③ 4.2t/m² ④ 7.2t/m²

89. 그림과 같은 점토지반에 재하순간 A점에서의 물을 높이가 그림에서와 같이 점토층의 윗면으로부터 5m이었다. 이러한 물의 높이가 4m까지 내려오는데 50일이 걸렸다면, 50%압밀이 일어나는데는 몇 일이 더 걸리겠는가? (단, 10% 압밀기 압밀계수 T_v =0.008, 20% 압밀시 T_v =0.031), 50% 압밀시 T_v =0.197)



- ① 268일 ② 618일
- ③ 1181일 ④ 1231일

90. 일반적인 기초의 필요조건으로 틀린 것은?

- ① 동해를 받지 않는 최소한의 근압깊이를 가져야한다.
- ② 지지력에 대해 안전해야한다.
- ③ 침하를 허용해서는 안 된다.
- ④ 사용성, 경제성이 좋아야한다.

91. 흙 속에서 물의 흐름에 대한 설명으로 틀린 것은?
 ① 투수계수는 온도에 비례하고 점성에 반비례한다.
 ② 불포화토는 포화토에 비해 유효응력이 작고, 투수계수가 크다.
 ③ 흙 속의 침투수량은 Darcy 법칙, 유선망, 침투해석 프로그램등에 의해 구할 수 있다.
 ④ 흙 속에서 물이 흐를 때 분사현상이 발생한다.
92. 모래지반의 현장상태 습윤 단위 중량을 측정하고 결과 1.8t/m³으로 얻어졌으며 동일한 모래를 채취하여 실내에서 가장 조밀한 상태의 간극비를 구한 결과 e_{min}=0.45, 가장 느슨한 상태의 간극비를 구한 결과 e_{max}=0.92를 얻었다. 현장상태의 상대밀도는 약 몇 %인가? (단, 모래의 비중 G_s=2.7이고, 현장상태의 함수비 w=10%이다.)
 ① 44% ② 57%
 ③ 64% ④ 80%

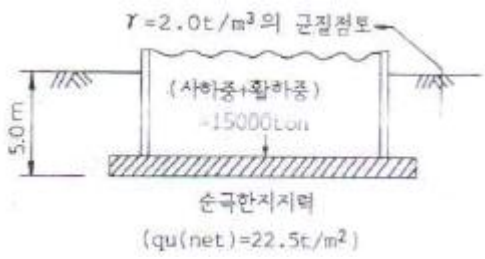
93. 아래 표의 식은 3축 압축시험에 있어서 간극수압을 측정하여 간극수압계수 A를 계산하는 식이다. 이 식에 대한 설명으로 틀린 것은?

$$\Delta u = B[\Delta \sigma + A(\Delta \sigma_1 - \Delta \sigma_3)]$$

- ① 포화된 흙에서는 B=1이다.
 ② 정규압밀 점토에서는 A값이 1에 가까운 값을 나타낸다.
 ③ 포화된 점토에서 구속압력을 일정하게 할 경우 간극수압의 측정값과 축차응력을 알면 A값을 구할 수 있다.
 ④ 매우 과압밀된 점토의 A값은 언제나 (+)의 값을 갖는다.
94. 포화된 점토지반위에 급속하게 성토하는 제방의 안정성을 검토할 때 이용해야 할 강도정수를 구하는 시험은?
 ① CU-test ② UU-test
 ③ (CU)'-test ④ CD-test

95. 흙의 비중이 2.60, 함수비 30%, 간극비 0.80일때 포화도는?
 ① 24.0% ② 62%
 ③ 78.0% ④ 97.5%
96. 시료가 점토인지 아닌지를 알아보고자 할 때 다음중 가장 거리가 먼 사항은?
 ① 소성지수 ② 소성도 A선
 ③ 포화도 ④ 200번 (0.075mm)체 통과량

97. 그림과 같은 20×30m 전면기초인 부분보상기초(partially compensated foundation)의 지지력 파괴에 대한 안전율은?



- ① 3.0 ② 2.5
 ③ 2.0 ④ 1.5

98. 지름 d=20cm인 나무말뚝을 25본 박아서 기초 상판을 지지하고 있다. 말뚝의 배치를 5열로 하고 각 열은 등간격으로 5본씩 박혀있다. 말뚝의 중심간격 S=1m이고 1본의 말뚝이 단독으로 10t의 지지력을 가졌다고 하면 이 무리 말뚝은 전체로 얼마의 하중을 견딜 수 있는가. (단, Converse-Labbarre식을 사용한다.)
 ① 100t ② 200t
 ③ 300t ④ 400t
99. 시험종류와 시험으로부터 얻을 수 있는 값의 연결이 틀린 것은?
 ① 비중계분석시험 - 흙의 비중(G_s)
 ② 삼축압축시험 - 강도정수(c,φ)
 ③ 일축압축시험 - 흙의 예비비(S_i)
 ④ 평판재하시험 - 지반반력계수(k_s)
100. 현장 도로 토공에서 모래 치환법에 의한 흙의 밀도 시험을 하였다. 파낸 구멍의 체적이 V=1960cm³, 흙의 질량이 3390g이고, 이 흙의 함수비는 10%이었다. 실험실에서 구한 최대 건조 밀도 γ_{dmax}=1.65g/cm³일 때 다짐도는?
 ① 85.6% ② 91.0%
 ③ 95.3% ④ 98.7%

6과목 : 상하수도공학

101. 자연유하식인 경우 도수관의 평균유속의 최소한 한도는?
 ① 0.01m/s ② 0.1m/s
 ③ 0.3m/s ④ 3m/s
102. 완속여과지의 구조와 형상의 설명으로 틀린 것은?
 ① 여과지의 총 깊이는 4.5~5.5m를 표준으로 한다
 ② 형상은 직사각형을 표준으로 한다.
 ③ 배치는 1열이나 2열로 한다.
 ④ 주위벽 상단은 지반보다 15cm이상 높인다.
103. 상수도 계획 설계 단계에서 펌프의 공동현상(cavitation)대책으로 옳지 않은 것은?
 ① 펌프의 회전속도를 낮게 한다.
 ② 흡입쪽 밸브에 의한 손실수두를 크게 한다.
 ③ 흡입관의 구경은 가능하면 크게 한다.
 ④ 펌프의 설치 위치를 가능한 한 낮게 한다.
104. 관거의 보호 및 기초공에 대한 설명으로 옳지 않은 것은?
 ① 관거의 부등침하는 최악의 경우 관거의 파손을 유발할 수 있다.
 ② 관거가 철도 밀을 횡단하는 경우 외압에 대한 관거 보호를 고려한다.
 ③ 경질염화비닐관 등의 연성관거는 콘크리트기초를 원칙으로 한다.
 ④ 강성관거의 기초공에서는 지반이 양호한 경우 기초를 생략할 수 있다.
105. 수중의 질소화합물의 질산화 진행과정으로 옳은 것은?
 ① NH₃-N→NO₂-N→NO₃-N
 ② NH₃-N→NO₃-N→NO₂-N

1	2	3	4	5	6	7	8	9	10
③	④	④	②	③	②	④	①	②	①
11	12	13	14	15	16	17	18	19	20
③	②	④	③	④	③	②	①	①	④
21	22	23	24	25	26	27	28	29	30
①	④	②	④	①	①	④	②	③	④
31	32	33	34	35	36	37	38	39	40
③	②	①	④	②	①	③	②	③	③
41	42	43	44	45	46	47	48	49	50
③	④	③	②	④	③	①	①	③	①
51	52	53	54	55	56	57	58	59	60
②	②	②	③	③	①	④	②	②	④
61	62	63	64	65	66	67	68	69	70
②	①	④	①	②	③	①	①	④	④
71	72	73	74	75	76	77	78	79	80
④	②	②	③	②	③	③	①	④	③
81	82	83	84	85	86	87	88	89	90
③	③	①	④	①	③	②	②	①	③
91	92	93	94	95	96	97	98	99	100
②	②	④	②	④	③	④	②	①	③
101	102	103	104	105	106	107	108	109	110
③	①	②	③	①	③	④	④	④	②
111	112	113	114	115	116	117	118	119	120
③	①	④	④	②	②	④	③	①	①