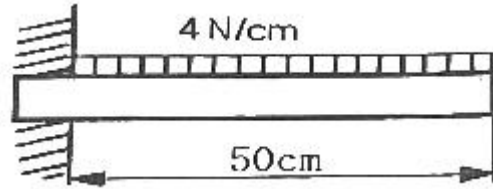


1과목 : 일반기계공학

1. 잇수 40, 피치원 지름 100mm인 표준 스퍼기어의 원주피치는 약 몇 mm인가?  
 ① 3.93                      ② 7.85  
 ③ 15.70                     ④ 23.55
2. Ti의 특성에 대한 설명으로 틀린 것은?  
 ① 비중이 4.5이다.  
 ② Mg과 Al보다 무겁고 철보다 가볍다.  
 ③ 전기 및 열의 전도성은 Fe보다 크다.  
 ④ 내식성이 우수하다.
3. 두 힘 10N과 30N이 직교하고 있다. 합성한 힘의 크기는 약 몇 N인가?  
 ① 31.6                      ② 38.7  
 ③ 40.0                      ④ 44.7
4. 정밀한 금형에 용융금속을 고압, 고속으로 주입하여 주물을 얻는 방법으로 주물표현이 미려하고 정도가 높은 주조법은?  
 ① 셀몰드법                 ② 원심주조법  
 ③ 다이캐스팅법         ④ 인베스트먼트 주조법
5. 3줄 나사에서 리드(lead)L과 피치(pitch) p의 관계로 옳은 것은?  
 ①  $p=L$                       ②  $L=1.5p$   
 ③  $p=3L$                      ④  $L=3p$
6. 다음 비중이 가장 낮은 경금속인 것은?  
 ① Ag                         ② Al  
 ③ Cu                         ④ Pb
7. 드릴 가공을 할 때, 가공물과 접촉에 의한 마찰을 줄이기 위하여 절삭날 면에 주는 각은?  
 ① 나선각(helix angle)    ② 선단각(point angle)  
 ③ 위브 각(web angle)   ④ 날 여유각(lip clearance angle)
8. 연강의 응력-변형률선도에서 응력이 최고값인 응력은?  
 ① 비례한도                 ② 인장강도  
 ③ 탄성한도                 ④ 항복강도
9. 압력 제어 밸브에서 어느 최소 유량에서 어느 최대 유량까지의 사이에 증대하는 압력은?  
 ① 파괴 압력                ② 절대 압력  
 ③ 흡입 압력                ④ 오버라이드 압력
10. 동일 축 상에 2개 이상의 펌프 작용 요소를 가지고, 각각 독립된 펌프 작용을 하는 형식의 펌프는?  
 ① 다련 펌프                ② 다단 펌프  
 ③ 피스톤 펌프              ④ 베인 펌프
11. 경화된 강 중의 잔류오스테나이트를 마텐자이트로 변태시켜 시효변형을 방지하기 위한 목적으로 하는 열처리로서 치수의 정확성을 요하는 게이지나 베어링 등을 만들 때 주로 행하는 것은?  
 ① 오스템퍼링              ② 마템퍼링

- ③ 심랭처리                      ④ 노멀라이징

12. 길이가 50cm인 외팔보에 그림과 같이  $w=4N/cm$ 인 균일분포하중이 작용할 때 최대 굽힘 모멘트의 값은 몇  $N \cdot cm$ 인가?



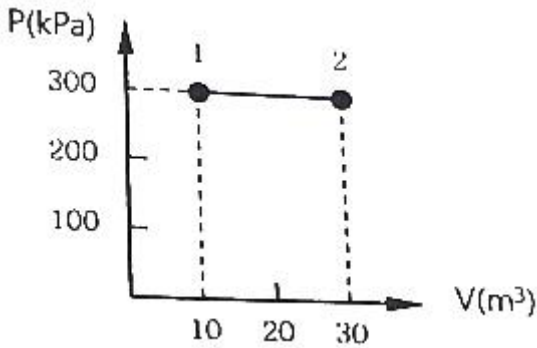
- ① 5000                         ② 4000  
 ③ 2500                         ④ 2000

13. 제동장치에서 단식 블록 브레이크의 제동력에 대한 설명 중 옳은 것은?  
 ① 제동 토크에 반비례한다.  
 ② 마찰 계수에 반비례한다.  
 ③ 브레이크 드럼의 지름에 비례한다.  
 ④ 브레이크 드럼과 블록사이의 수직력에 비례한다.
14. 1.5m/s의 원주속도로 회전하는 전동축을 지지하는 저널 베어링에서 베어링 하중은 2000N, 마찰계수가 0.04일 때 마찰에 의한 손실 동력은 약 몇 kW인가?  
 ① 0.12                         ② 0.24  
 ③ 0.48                         ④ 0.72
15. 소성가공 중에서 주전자, 물통, 배럴 등의 주름 형상을 만드는 데 적합한 가공은?  
 ① 벌징(bulging)            ② 비딩(beading)  
 ③ 헤밍(hemming)        ④ 컬링(curling)
16. 용접부의 검사법 중 시편 타단의 결함에서 반사되어 오는 반응을 시간적 연관성이 있는 오실로스코프에 받아 기록하는 방법은?  
 ① 침투 탐상검사            ② 자분 검사  
 ③ 초음파 검사                ④ 방사선 투과검사
17. 비틀림을 받는 원형 단면 봉에서 발생하는 비틀림 각에 대한 설명 중 옳은 것은?  
 ① 봉의 길이에 반비례한다.  
 ② 극단면 2차 모멘트에 반비례한다.  
 ③ 전단 탄성계수에 비례한다.  
 ④ 비틀림 모멘트에 반비례한다.
18. 단동 왕복펌프의 피스톤 지름이 20cm, 행정 30cm, 피스톤의 매분 왕복횟수가 80, 체적효율 92%일 때 펌프의 양수량은 약 몇  $m^3/min$ 인가?  
 ① 0.35                         ② 0.69  
 ③ 0.82                         ④ 1.42
19. 하중을 한 방향으로만 받는 부품에 이용되는 나사로 압착기, 바이스(vise) 등의 이송 나사에 사용되는 것은?  
 ① 동금나사                    ② 사각나사  
 ③ 삼각나사                    ④ 톱나사
20. 리밍(reaming)에 관한 설명으로 옳은 것은?



- ①  $\oint \frac{\delta Q}{T} \geq 0$       ②  $\oint \frac{\delta Q}{T} \leq 0$   
 ③  $\oint T\delta Q \geq 0$       ④  $\oint T\delta Q \leq 0$

35. 압력이 100kPa이며, 온도가 25°C인 방의 크기가 240m<sup>3</sup>이다. 이 방에 들어있는 공기의 질량은 약 몇 kg인가? (단, 공기는 이상기체로 가정하며, 공기의 기체상수는 0.287kJ/(kg·K)이다.)  
 ① 0.00357      ② 0.28  
 ③ 3.57      ④ 280
36. 효율이 40%인 열기관에서 유효하게 발생되는 동력이 110kW라면 주위로 방출되는 총 열량은 약 몇 kW인가?  
 ① 375      ② 165  
 ③ 135      ④ 85
37. 그림과 같이 실린더 내의 공기가 상태 1에서 상태 2로 변화할 때 공기가 한 일은? (단, P는 압력, V는 부피를 나타낸다.)



- ① 30kJ      ② 60kJ  
 ③ 3000kJ      ④ 6000kJ
38. Van der Waals 상태 방정식은 다음과 같이 나타낸다. 이 식에서  $\frac{a}{u^2}$ , b는 각각 무엇을 의미하는 것인가? (단, P는 압력, u는 비체적, R은 기체상수, T는 온도를 나타낸다.)
- $$\left(P + \frac{a}{u^2}\right) \times (u - b) = RT$$
- ① 분자간의 작용 인력, 분자 내부 에너지  
 ② 분자간의 작용 인력, 기체 분자들이 차지하는 체적  
 ③ 분자 자체의 질량, 분자 내부 에너지  
 ④ 분자 자체의 질량, 기체 분자들이 차지하는 체적
39. 보일러에 물(온도 20°C, 엔탈피 84kJ/kg)이 유입되어 600kPa의 포화증기(온도 159°C, 엔탈피 2757kJ/kg) 상태로 유출된다. 물의 질량유량이 300kJ/h이라면 보일러에 공급된 열량은 약 몇 kW인가?  
 ① 121      ② 140  
 ③ 223      ④ 345
40. 카르노 사이클로 작동되는 열기관이 고온체에서 100kJ의 열

- 을 받고 있다. 이 기관의 열효율이 30%라면 방출되는 열량은 약 몇 kJ인가?  
 ① 30      ② 50  
 ③ 60      ④ 70

**3과목 : 자동차기관**

41. 엔진의 크랭크축 재질로 가장 적합한 것은?  
 ① 베어링 강      ② 스프링 강  
 ③ 스테인리스 강      ④ 크롬 몰리브덴 강
42. 엔진에 사용되는 연료의 필요 옥탄가에 영향을 미치는 요소가 아닌 것은?  
 ① 압축비      ② 배기압  
 ③ 공연비      ④ 점화시기
43. 4기통 4사이클 엔진이 2000rpm에서 발생시킨 도시평균유효 압력은 5kgf/cm<sup>2</sup>이다. 실린더의 지름이 10cm, 피스톤의 행정이 10cm일 때 엔진의 도시마력은 약 몇 PS인가?  
 ① 34.88      ② 38.66  
 ③ 42.85      ④ 47.63
44. LPI 엔진에서 인젝터에 관한 설명으로 틀린 것은? (단, 베이퍼라이저가 미적용된 차량)  
 ① 전류 구동방식이다.      ② 아이싱 팁을 사용한다.  
 ③ 실린더에 직접 분사한다.      ④ 액상의 연료를 분사한다.
45. 아래 운행차 정밀검사의 경유자동차 매연측정방법에 관한 설명에서 ( )에 알맞은 것은? (단, 무부하검사방법이다.)
- 측정기의 시료채취관을 배기관의 벽면으로부터 ( )mm 이상 떨어지도록 설치하고 5cm 정도의 깊이로 삽입한다.
- ① 3      ② 4  
 ③ 5      ④ 6
46. 자동차 엔진 연료 중 LPG의 특성 설명으로 틀린 것은?  
 ① 저온에서 증기압이 낮기 때문에 시동성이 좋지 않다.  
 ② 유독성 납화화물이나 유황분 등의 함유량이 적어, 휘발유에 비해 청정연료이다.  
 ③ LPG는 가스 상태로 실린더에 공급되므로 흡입효율의 저하에 의한 출력저하 현상이 나타난다.  
 ④ 액체상태에서 단위중량당 발열량은 휘발유보다 낮지만, 공기와 혼합상태에서의 발열량은 휘발유보다 높다.
47. 디젤엔진 연소실 형식 중 직접분사식의 장점으로 틀린 것은?  
 ① 연료소비율이 향상된다.  
 ② 연소실의 구조가 간단하다.  
 ③ 연료분사 개시압력이 타 형식에 비해 높다.  
 ④ 연소실 내에 전열면적이 좁아 냉각손실이 적다.
48. 엔진을 감속할 때 연료 공급을 일시 차단시킴과 동시에 충격을 방지하기 위해 감속 조건에 따라 스로틀밸브의 닫힘 속도를 제어하는 것은?  
 ① 피드백 제어      ② 공전속도 제어

- ③ 대시포트 제어      ④ 패스트 아이들 제어
- 49. 디젤엔진의 전자식 연료분사장치에서 인젝터의 분사량 제어를 위한 입력신호가 아닌 것은?  
 ① 부스터 압력      ② 냉각수 온도  
 ③ 흡입 공기량      ④ 엔진 회전속도
- 50. 전자제어 가솔린엔진에 연속 가변밸브타이밍(CVVT) 시스템의 적용 목적으로 틀린 것은?  
 ① 연비향상      ② 공회전 안정화  
 ③ 배기가스 저감      ④ 엔진 냉각효율 향상
- 51. 전자제어 엔진의 지르코니아 산소센서에 대한 설명 중 틀린 것은?  
 ① 배기가스 중의 산소 농도를 검출한다.  
 ② 공연비 피드백 제어를 위하여 필요한 센서이다.  
 ③ 정상 작동 온도 이하에서는 산소 농도의 정확한 검출이 불가능하다.  
 ④ 배기가스 중 산소 농도가 높을수록 산소센서의 기전력은 약 5V 정도로 발생한다.
- 52. 디젤엔진 연소에 영향을 미치는 요소로 틀린 것은?  
 ① 압축비      ② 점화시기  
 ③ 흡기온도      ④ 엔진의 회전속도
- 53. 가솔린엔진에서 저온 시동성 향상과 관계가 있는 센서는?  
 ① 산소 센서      ② 대기압 센서  
 ③ 냉각수온 센서      ④ 흡입공기량 센서
- 54. 공기과잉률( $\lambda$ )이란?  
 ① 이론공연비      ② 실제공연비  
 ③ 실제공연비/이론공연비      ④ 공기흡입량/연료소비량
- 55. 엔진 충전효율에 영향을 주는 요소 중 거리가 먼 것은?  
 ① 흡입공기의 습도      ② 흡기다기관형의 형상  
 ③ 흡입공기의 입구온도      ④ 흡입공기의 입구압력
- 56. 전자제어 가솔린엔진에서 흡기온도를 감지하는 목적으로 가장 적합한 것은?  
 ① 산소센서가 고장 시 대체 역할을 한다.  
 ② 점화시기 제어에 기준이 되는 역할을 한다.  
 ③ 흡기유량센서 고장 시 연료분사를 조절하는 역할을 한다.  
 ④ 흡기온도에 따른 흡기공기의 밀도 변화를 보정하는 역할을 한다.
- 57. 이상적인 오토사이클의 효율을 증가시키는 방법으로 틀린 것은?  
 ① 압축비 증가      ② 체적비 증가  
 ③ 최고압력 증가      ④ 최고온도 증가
- 58. 디젤엔진에서 노크를 방지하는 방법으로 틀린 것은?  
 ① 압축비를 높게 한다.  
 ② 흡기온도를 높게 한다.  
 ③ 연료의 착화지연을 길게 한다.  
 ④ 연료의 착화시기를 정확하게 한다.

- 59. 전자제어 가솔린엔진(MPI)에서 연료의 분사량을 증가시키는 방법으로 옳은 것은?  
 ① 연료펌프의 공급압력을 낮춘다.  
 ② 인젝터 내의 분사압력을 낮춘다.  
 ③ 인젝터의 통전시간을 길게 한다.  
 ④ 압력조절기의 리턴 연료량을 증가시킨다.
- 60. 연소가스 온도가 1600℃, 냉각수 온도 85℃, 전열면적 1.538m<sup>2</sup>인 실린더를 가진 엔진의 방열량은 약 몇 kcal/h인가? (단, 열통과율 K=217.4kcal/m<sup>2</sup>·h·℃이다.)  
 ① 506557.2      ② 537160.4  
 ③ 632520.4      ④ 823250.2

**4과목 : 자동차새시**

- 61. 유압식 브레이크 장치에서 마스터 실린더에 35kgf/cm<sup>2</sup>의 유압을 발생시키기 위해 필요한 페달 답력은 약 몇 kgf인가? (단, 마스터 실린더의 피스톤 단면적 4cm<sup>2</sup>, 배력장치 부압 0.8kgf/cm<sup>2</sup>, 배력장치의 피스톤 직경 14cm, 페달 레버비 4:1)  
 ① 3.2      ② 4.2  
 ③ 5.2      ④ 6.2
- 62. 자동차 새시 스프링 중 스프링 상수가 자동적으로 조정되는 것은?  
 ① 공기 스프링      ② 판 스프링  
 ③ 코일 스프링      ④ 토션바 스프링
- 63. 자동차 정기검사에서 제동장치의 제동력 검사기준에 대한 설명으로 틀린 것은?  
 ① 뒤축의 제동력은 해당 축중의 20퍼센트 이상일 것  
 ② 주차 제동력의 합은 차량 중량의 50퍼센트 이상일 것  
 ③ 모든 축의 제동력 합이 공차중량의 50퍼센트 이상일 것  
 ④ 동일 차축의 좌·우 차바퀴 제동력의 차이가 해당 축중의 8퍼센트 이내일 것
- 64. 시동 후 주차브레이크 또는 ABS 경고등이 꺼지지 않을 때 점검해야 할 사항과 거리가 먼 것은?  
 ① 프로포셔닝 밸브를 점검한다.  
 ② 브레이크액 레벨을 점검한다.  
 ③ 진단 장비로 고장코드를 점검한다.  
 ④ 휠 스피드 센서 커넥터를 점검한다.
- 65. 전륜구동 차량에서 급출발 또는 급가속시 엔진 구동력의 영향으로 조향핸들이 한쪽 방향으로 쏠리는 토크 스티어가 발생하는 원인은?  
 ① 조향핸들 조립 불량  
 ② 엔진 마운트의 강도 저하  
 ③ 전체 타이어의 공기압 과대  
 ④ 드라이브 샤프트 길이와 각도 차이
- 66. 전자제어 현가장치의 특징으로 틀린 것은?  
 ① 급제동 시 노스 업(nose up)을 방지한다.  
 ② 노면으로부터 자동차의 높이를 제어할 수 있다.  
 ③ 급선회 시 원심력에 의한 차체의 기울어짐을 방지한다.

- ④ 노면의 상태에 따라 자동차의 승차감을 제어할 수 있다.
- 67. 클러치의 동력전달 용량에 대한 설명으로 가장 적합한 것은?  
 ① 용량이 작으면 내구성이 증대된다.  
 ② 용량이 크면 접촉 충격을 줄일 수 있다.  
 ③ 용량은 엔진 회전토크와 동일하여야 한다.  
 ④ 용량은 클러치가 전달할 수 있는 회전력의 크기를 말한다.
- 68. 타이어의 편평비에 대한 설명으로 옳은 것은?  
 ① 타이어 내경을 타이어 폭으로 나눈 백분율  
 ② 타이어 폭을 타이어 단면 높이로 나눈 백분율  
 ③ 타이어 단면 높이를 타이어 폭으로 나눈 백분율  
 ④ 타이어 단면 둘레를 타이어 높이로 나눈 백분율
- 69. 지름 30cm인 브레이크 드럼에 작용하는 힘이 150kgf/일 때, 이 드럼에 작용하는 토크는 약 몇 kgf·m인가? (단, 마찰계수는 0.3이다.)  
 ① 2.75                      ② 6.75  
 ③ 8.5                        ④ 13.5
- 70. 공기 브레이크의 특징으로 틀린 것은?  
 ① 베이퍼록이 발생하지 않는다.  
 ② 자동차의 중량에 따른 제한을 많이 받는다.  
 ③ 페달 밟는 양에 따라 제동력이 조절된다.  
 ④ 공기가 다조 누출되어도 제동 성능이 현저하게 저하되지 않는다.
- 71. 조향장치가 갖추어야 할 조건으로 틀린 것은?  
 ① 회전 반경이 작을 것  
 ② 선회 저항이 적고 선회 후 복원이 좋을 것  
 ③ 조향 휠이 회전과 바퀴의 선회 차가 클 것  
 ④ 조향 조작이 주행 중 충격에 영향을 받지 않을 것
- 72. 자동변속기 자동차의 스톱 포인트에 대한 설명으로 옳은 것은?  
 ① 클러치 포인트라고도 한다.  
 ② 펌프는 회전하지만 터빈은 구동되지 않는상태이다.  
 ③ 스톱 포인트에서 펌프의 회전수와 터빈의 회전비가 '1'이다.  
 ④ 약한 제동이 걸린 상태의 스톱 포인트에서는 차량 구동력이 '0'이다.
- 73. 자동차가 주행할 때 작용하는 저항을 계산하는 식에서 자동차 중량이 요구되지 않는 것은?  
 ① 구름저항                  ② 구배저항  
 ③ 가속저항                  ④ 공기저항
- 74. 드라이브 라인에서 추진축의 길이 변화가 가능하도록 설치되어 있는 이름은?  
 ① 슬립 이음                ② 버필드 이음  
 ③ 트리포드 이음         ④ 더블 오프셋 이음
- 75. 자동차 현가장치에서 트레일링 암 형식에 관한 설명으로 틀린 것은?

- ① 바퀴의 상·하 운동에 의한 윤거나 캠버의 변화가 없다.
- ② 차제 양쪽에 주행방향에 수평으로 암을 설치하여 차축을 지지한다.
- ③ 상·하 컨트롤 암의 길이에 따라 SLA형식과 평행사변형식이 있다.
- ④ 스프링 작용은 속업소버와 액슬축에 장착된 토션바에 의해 이루어진다.
- 76. 유압식 전자제어 동력조향장치에서 고속에서는 정상이나 저속에서는 조향핸들의 조작력이 무거워지는 원인으로 가장 적절한 것은?  
 ① 타이어 공기압 과다  
 ② 오일탱크 오일양 과다  
 ③ 오일펌프 토출압력 과다  
 ④ 유량제어 솔레노이드 배선 단선
- 77. 무단변속기의 변속 방식 중 트랙션(트로이달)방식의 특징에 대한 설명으로 틀린 것은?  
 ① 작동이 정속하다.  
 ② 큰 출력에 대한 강성이 필요하다.  
 ③ 무게가 가볍고 일반오일 사용이 용이하다.  
 ④ 변속범위가 넓으며 높은 효율을 낼 수 있다.
- 78. 자동차의 4륜 구동장치의 특징으로 틀린 것은?  
 ① 직진 안정성 향상  
 ② 선회 안정성 향상  
 ③ 동력손실이 적어 연비 향상  
 ④ 미끄러운 노면 주행 안정성 향상
- 79. ABS가 작동할 때 제어장치의 신호에 의해 유압을 조절하는 하이드로릭 유닛의 구성품이 아닌 것은?  
 ① 어큐뮬레이터              ② 솔레노이드 밸브  
 ③ 휠스피드 센서            ④ 하이드로릭 펌프
- 80. "235/45R 17 91H"인 타이어의 호칭기호에 대한 설명으로 틀린 것은?  
 ① 91:하중지수              ② H:속도 기호  
 ③ 45:타이어 지름          ④ 235:타이어 폭


**5과목 : 자동차전기**

- 81. 자동차의 전조등 회로에서 한쪽 전조등의 조도가 부족한 원인 중 가장 거리가 먼 것은?  
 ① 전구의 열화  
 ② 배터리의 용량 부족  
 ③ 반사경이 흐려졌을 때  
 ④ 전구의 설치 위치가 바르지 않을 때
- 82. 다음 중 차량 발전기에서 단상 대신 3상 교류발전기를 사용하는 이유로 가장 적합한 것은?  
 ① 전류제한기가 필요 없어진다.  
 ② 전력송전의 선로가 절약된다.  
 ③ DC발전기와 구조가 비슷해진다.  
 ④ 3배의 주파수 효과를 볼 수 있다.

83. 기동전동기의 주요 구성 요소가 아닌 것은?

- ① 회전력을 발생하는 부분
- ② 부하 전류를 측정하는 전류계
- ③ 회전력을 엔진에 전달하는 기구
- ④ 피니언을 링기어에 물리게 하는 부분

84. 다음 가솔린엔진 차량의 점화 2차 파형에서 점화플러그 간극, 압축비, 점화플러그 팁의 오염상태에 따라 달라지는 방전시간에 해당하는 구간은?

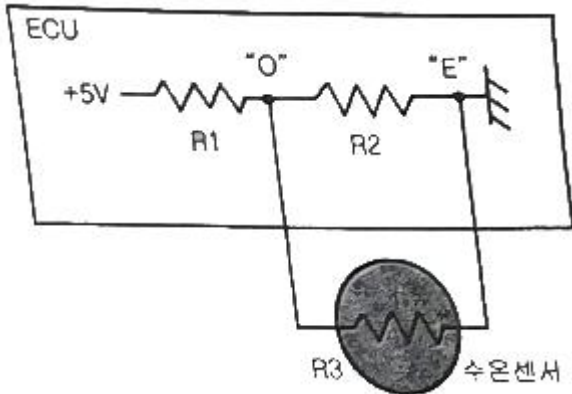


- ① A-B구간                      ② C-D구간
- ③ D-E구간                      ④ E-F구간

85. 플레밍의 오른손 법칙을 이용한 것은?

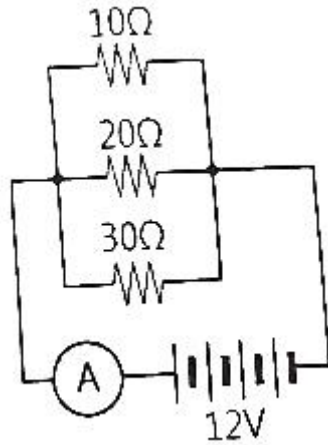
- ① 발전기                      ② 콘덴서
- ③ 다이오드                      ④ 트랜지스터

86. 그림과 같이 R1과 R2가 고정저항이고, R3이 NTC 수온센서인 회로에 대한 설명으로 틀린 것은?



- ① 냉각수 온도가 높을수록 "O~E"에 걸리는 전압이 낮아진다.
- ② 냉각수 온도가 낮을수록 "O~E"에 걸리는 저항이 작아진다.
- ③ 수온센서(R3)가 단선되면 "O~E"에 걸리는 전압은 높아진다.
- ④ 수온센서(R3)가 단락되면 "O~E"에 걸리는 전압은 낮아진다.

87. 그림과 같이 10Ω, 20Ω, 30Ω의 저항이 병렬로 연결되어 전류계와 함께 배터리에 연결되어 있을 때 전류계에 흐르는 전류는 몇 A인가?



- ① 2.2                              ② 5.5
- ③ 20                              ④ 65.5

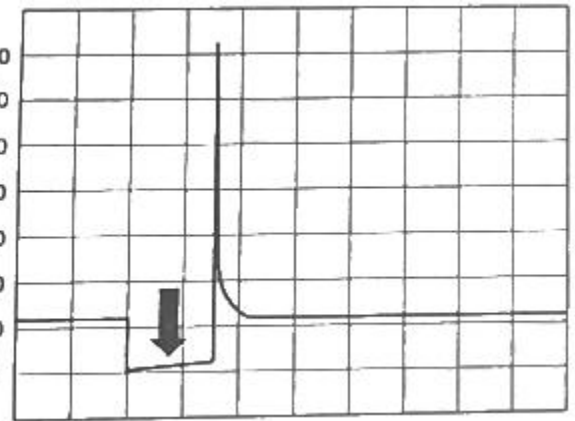
88. 무배전기 점화장치의 구성요소가 아닌 것은?

- ① 점화코일                      ② 서미스터
- ③ 파워 트랜지스터              ④ 크랭크 각도센서

89. 자동차 오토 라이트 시스템의 특성에 대한 설명으로 옳은 것은?

- ① 전조등은 ACC전원만 사용한다.
- ② 하이빔과 로빔의 회로는 직렬회로이다.
- ③ 전조등의 좌·우측 등화의 회로는 직렬회로이다.
- ④ 자동차 주위의 밝기를 감지하여 전조등을 제어한다.

90. 다음 접지(-) 제어형 가솔린 인젝터 파형에서 아래쪽 화살표가 가리키는 곳의 설명으로 옳은 것은?



- ① 드웰 구간이다.
- ② 연료 분사구간이다.
- ③ 역기전력에 의한 서지전압 구간이다.
- ④ 점화 1차 코일에 전류가 흐르는 구간이다.

91. 자동차 에어백에 대한 설명으로 옳은 것은?

- ① 충돌감지 센서는 차량 측면에만 설치되어 있다.
- ② 부풀어 오른 에어백은 계속 그 상태를 유지해야 한다.
- ③ 일정 이상의 충격이 가해지면 충돌감지 센서의 신호로 전개된다.
- ④ 전방 에어백의 이상으로 경고등이 점등되어도 큰 충격이 가해지면 작동된다.

92. 배터리의 자기방전의 원인으로 가장 거리가 먼 것은?

- ① 충전 전압이 낮을 경우 방전된다.
  - ② 전해액 중에 불순물이 혼입되어 극부 전지가 형성되었을 때 방전된다.
  - ③ 배터리 케이스의 표면에 전기 회로가 형성되어 누설에 의해 방전된다.
  - ④ 탈락한 작용물질이 극판의 아래 부분이나 측면에 퇴적되었을 때 방전된다.
93. 배터리의 보충전 방법이 아닌 것은?
- ① 전전류 충전법      ② 정전압 충전법
  - ③ 단별전류 충전법      ④ 단별전압 충전법
94. 이그니션(IG) 키를 시동(스타트) 위치로 회전시켰을 때 이그니션(IG) 키 스위치 내부 접점단자의 연결이 옳은 것은?
- ① 상시전원-IG1-START
  - ② 상시전원-IG2-START
  - ③ 상시전원-IG1-IG2-START
  - ④ 상시전원-ACC-IG1-START
95. 전자력과 자계에 대한 설명으로 틀린 것은?
- ① 전자력의 크기는 자계의 저항 크기에 비례한다.
  - ② 전자력의 크기는 자계 내의 도선의 길이에 비례한다.
  - ③ 전자력의 크기는 자계의 세기와 도선에 흐르는 전류에 비례한다.
  - ④ 전자력의 크기는 도선이 자계의 자력선과 직각이 될 때에 최대가 된다.
96. 자동차 CAN통신의 CLASS구분으로 가장 거리가 먼 것은? (단, SAE 기준이다.)
- ① SLASS A:접지를 기준으로 1개의 와이어링으로 통신선을 구성하고, 진단통신에 응용되며 K-라인 통신이 이에 해당된다.
  - ② CLASS B:CLASS A보다 많은 정보의 전송이 필요한 경우에 사용되며, 저속 CAN에 적용된다.
  - ③ CLASS C:실시간으로 중대한 정보교환이 필요한 경우로서 1~10ms간격으로 데이터 전송주기가 필요한 경우에 사용되며 파워트레인 계통에서 응용되고 고속 CAN통신에 적용된다.
  - ④ CLASS D:수백 수천 bits의 블록단위 데이터 전송이 필요한 경우에 사용되며, 멀티미디어 통신에 응용되며 FlecRay 통신에 적용된다.
97. 자동차 에어컨에서 팽창밸브 기능에 대한 설명으로 옳은 것은?
- ① 냉매를 기화하며 응축시킨다.
  - ② 냉매를 고체화하여 팽창시킨다.
  - ③ 냉매를 기화하여 증발기에 보낸다.
  - ④ 냉매를 액화하며 압력을 상승시킨다.
98. 하이브리드 자동차의 주행에 있어 감속 시 계기판의 에너지 사용표시 게이지는 어떻게 표시되는가?
- ① RPM(엔진회전수)      ② Change(충전)
  - ③ Assist(모터작동)      ④ 배터리 용량
99. 전압이 100V일 때 600W의 전열기가 있다. 전압이 변화되어 80V가 되었을 때 전열기의 실제 전력을 약 몇 W인가?
- ① 300                      ② 384

- ③ 424                      ④ 480
100. 하이브리드 자동차에서 하이브리드 모터 작동을 위한 전기 에너지를 공급하는 것은?
- ① 엔진제어기              ② 고전압 배터리
  - ③ 변속기 제어기              ④ 보조배터리 충전 컨트롤 유닛

1	2	3	4	5	6	7	8	9	10
②	③	①	③	④	②	④	②	④	①
11	12	13	14	15	16	17	18	19	20
③	①	④	①	①	③	②	②	④	④
21	22	23	24	25	26	27	28	29	30
③	③	①	②	④	③	②	①	①	④
31	32	33	34	35	36	37	38	39	40
①	③	④	②	④	②	④	②	③	④
41	42	43	44	45	46	47	48	49	50
④	②	①	③	③	④	③	③	①	④
51	52	53	54	55	56	57	58	59	60
④	②	③	③	①	④	②	③	③	①
61	62	63	64	65	66	67	68	69	70
②	①	②	①	④	①	④	③	②	②
71	72	73	74	75	76	77	78	79	80
③	②	④	①	③	④	③	③	③	③
81	82	83	84	85	86	87	88	89	90
②	④	②	②	①	②	①	②	④	②
91	92	93	94	95	96	97	98	99	100
③	①	④	①	①	④	③	②	②	②