

- ③ 37.72mm ④ 47.78mm

18. 탄소강은 아공석강 영역(C < 0.77%)에서 탄소 함유량이 증가함에 따라 변화되는 기계적 성질로 옳바른 것은?
- ① 경도와 충격치는 감소한다.
 - ② 경도는 증가하고, 충격치는 감소한다.
 - ③ 경도는 감소하고, 충격치는 증가한다.
 - ④ 경도와 충격치는 증가한다.
19. 구성인선(build-up edge)의 발생을 방지하는 대책으로 가장 적합한 것은?
- ① 절삭 속도를 느리게 하고, 절삭 깊이 및 이송 속도를 크게 한다.
 - ② 절삭 속도를 빠르게 하며, 윤활성이 좋은 절삭유를 사용한다.
 - ③ 바이트의 윗면 경사각을 작게 하고, 이송 속도를 작게 한다.
 - ④ 절삭 깊이를 깊게 하고, 이송 속도를 크게 한다.
20. 원형 단면의 단면 2차 모멘트 I로 맞는 식은? (단, d는 원형 단면의 지름이다.)
- ① $I = \pi d^4 / 32$ ② $I = \pi d^3 / 32$
 - ③ $I = \pi d^4 / 64$ ④ $I = \pi d^3 / 64$

2과목 : 기계열역학

21. 실린더 안에 0.8kg의 기체를 넣고 이것을 압축하기 위해서는 13kJ의 일이 필요하며, 또 이때 실린더를 냉각하기 위해서 10kJ의 열을 빼앗아야 한다면 이 기체의 비 내부에너지 변화량은?
- ① 3.75kJ/kg의 증가 ② 28.8kJ/kg의 증가
 - ③ 3.75kJ/kg의 감소 ④ 28.8kJ/kg의 감소
22. 에어컨을 이용하여 실내의 열을 외부로 방출하려 한다. 실외 35℃, 실내 20℃인 조건에서 실내로부터 3kW의 열을 방출하려 할 때 필요한 에어컨의 동력은 얼마인가? (단, Carnot cycle)을 가정한다.)
- ① 0.154kW ② 1.54kW
 - ③ 15.4kW ④ 154kW
23. 29℃와 227℃ 사이에서 작동하는 카르노(Carnot) 사이클 열기관의 열효율은?
- ① 60.4% ② 39.6%
 - ③ 0.604% ④ 0.396%
24. 두께 1cm, 면적 0.5m²의 석고판의 뒤에 가열판이 부착되어 1000W의 열을 전달한다. 가열판의 뒤는 완전히 단열되어 열은 앞면으로만 전달된다. 석고판 앞면의 온도는 100℃이다. 석고의 열전도율이 k=0.79W/m·K일 때 가열판에 접하는 석고면의 온도는 약 몇 ℃인가?
- ① 110 ② 125
 - ③ 150 ④ 212
25. 다음 냉동 시스템의 설명 중 틀린 것은?
- ① 왕복동 압축기는 냉매가 낮은 비체적과 높은 압력일 때 적합하며 원심 압축기는 높은 비체적과 낮은 압력일 때 적합하다.
 - ② R-22와 같이 수소를 포함하는 HCFC는 대기 중의 수명

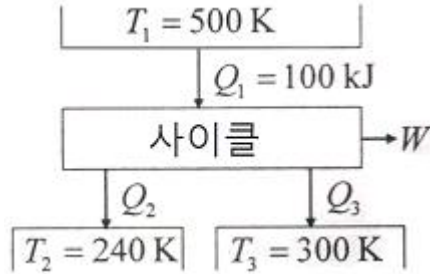
- 이 비교적 짧으므로 성층권에 도달하여 분해되는 양이 적다.
- ③ 냉동 사이클은 동력 사이클의 터빈을 밸브나 긴 모세관 등의 스로틀 기기로 대체하여 작동유체가 고압에서 저압으로 스로틀 팽창하도록 한다.
 - ④ 흡수식 시스템은 액체를 가압하므로 소요되는 입력 일이 매우 크다.
26. 고속주행 시 타이어의 온도는 매우 많이 상승한다. 온도 20℃에서 계기압력 0.183MPa의 타이어가 고속주행으로 온도 80℃로 상승할 때 압력 상승한 양(kPa)은? (단, 타이어의 체적은 변하지 않고, 타이어 내의 공기는 이상기체로 가정한다. 대기압은 101.3kPa이다.)
- ① 약 37kPa ② 약 58kPa
 - ③ 약 286kPa ④ 약 345kPa
27. 어떤 냉장고에서 질량유량 80kg/hr의 냉매가 17kJ/kg의 엔탈피로 증발기에 들어가 엔탈피 36kJ/kg가 되어 나온다. 이 냉장고의 냉동능력은?
- ① 1220kJ/hr ② 1800kJ/hr
 - ③ 1520kJ/hr ④ 2000kJ/hr
28. 오토사이클(Otto Cycle)의 이론적 열효율 η_{th} 를 나타내는 식은? (단, ϵ 는 압축비, K는 비열비이다.)

- ① $\eta_{th} = 1 - \left(\frac{1}{\epsilon}\right)^{\frac{k}{k-1}}$
- ② $\eta_{th} = 1 - \left(\frac{k-1}{k}\right)^{\epsilon}$
- ③ $\eta_{th} = 1 - \left(\frac{1}{\epsilon}\right)^{k-1}$
- ④ $\eta_{th} = 1 - \left(\frac{1}{k}\right)^{\epsilon}$

29. 다음 사항 중 옳은 것은?
- ① 엔트로피는 상태량이 아니다.
 - ② 엔트로피를 구하는 적분 경로는 반드시 가역변화라야 한다.
 - ③ 비가역 사이클에서 클라우지우스(Clausius) 적분은 영이다.
 - ④ 가역, 비가역을 포함하는 모든 이상기체의 등온변화에서 압력이 저하하면 엔트로피도 저하한다.
30. 성능계수(COP)가 0.8인 냉동기로서 7200kJ/h로 냉동하려면, 이에 필요한 동력은?
- ① 약 0.9kW ② 약 1.6kW
 - ③ 약 2.5kW ④ 약 2.0kW
31. 다음 중 열역학적 상태량이 아닌 것은?
- ① 기체상수 ② 정압비열
 - ③ 엔트로피 ④ 압력
32. 물질의 상태에 관한 설명으로 옳은 것은?
- ① 압력이 포화압력보다 높으면 과열증기 상태다.

- ② 온도가 포화온도보다 높으면 압축액체이다.
- ③ 임계압력 이하의 액체를 가열하면 증발현상을 거치지 않는다.
- ④ 포화상태에서 압력과 온도는 종속관계에 있다.

33. 다음 열기관 사이클의 에너지 전달량으로 적절한 것은?



- ① $Q_2=20\text{kJ}, Q_3=30\text{kJ}, W=50\text{kJ}$
- ② $Q_2=20\text{kJ}, Q_3=50\text{kJ}, W=30\text{kJ}$
- ③ $Q_2=30\text{kJ}, Q_3=30\text{kJ}, W=50\text{kJ}$
- ④ $Q_2=30\text{kJ}, Q_3=20\text{kJ}, W=50\text{kJ}$

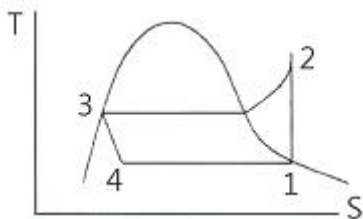
34. 질량 $m = 100\text{kg}$ 인 물체에 $a = 2.5\text{m/s}^2$ 의 가속도를 주기 위해 가해야 할 힘(F)은 약 몇 N인가?

- ① 102
- ② 205
- ③ 225
- ④ 250

35. 100kPa, 20°C의 물을 매시간 3000kg씩 500kPa로 공급하기 위하여 소요되는 펌프의 동력은 약 몇 kW인가? (단, 펌프의 효율은 70%로 물의 비체적은 $0.001\text{m}^3/\text{kg}$ 으로 본다.)

- ① 0.33
- ② 0.48
- ③ 1.32
- ④ 2.48

36. 그림과 같은 증기압축 냉동사이클이 있다. 1, 2, 3 상태의 엔탈피가 다음과 같을 때 냉매의 단위 질량당 소요동력과 냉각량은 얼마인가? (단, $h_1=178.16, h_2=210.38, h_3=74.53$, 단위 : kJ/kg)



- ① 32.22kJ/kg, 103.63kJ/kg
- ② 32.22kJ/kg, 136.85kJ/kg
- ③ 103.63kJ/kg, 32.22kJ/kg
- ④ 136.85kJ/kg, 32.22kJ/kg

37. 대기압 하에서 20°C의 물 1kg을 가열하여 같은 압력의 150°C의 과열 증기로 만들었다 면, 이때 물이 흡수한 열량은 20°C와 150°C에서 어떠한 양의 차이로 표시되었는가?

- ① 내부에너지
- ② 엔탈피
- ③ 엔트로피
- ④ 일

38. 두 정지 계가 서로 열 교환을 하는 경우에 한쪽 계는 수열에 의한 엔트로피 증가가 있고, 다른 계는 방열에 의한 엔트로피 감소가 있다. 이들 두 계를 합하여 한 계로 생각하면 단열된 계가 된다. 이 합성계가 비가역 단열변화를 하면 이 합성계의 엔트로피 변화 dS 는?

- ① $dS < 0$
- ② $dS > 0$
- ③ $dS = 0$
- ④ $dS \neq 0$

39. 질량 4kg의 액체를 15°C에서 100°C까지 가열하기 위해 714kJ의 열을 공급하였다면 액체의 비열(specific heat)은 몇 J/kg·K인가?

- ① 1100
- ② 2100
- ③ 3100
- ④ 4100

40. 800kPa, 350°C의 수증기를 200kPa로 교축 한다. 이 과정에 대하여 운동 에너지의 변화를 무시할 수 있다고 할 때 이 수증기의 Joule-Thomson 계수는? (단, 교축 후의 온도는 344°C이다.)

- ① 0.005K/kPa
- ② 0.01K/kPa
- ③ 0.02K/kPa
- ④ 0.03K/kPa

3과목 : 자동차기관

41. 전자제어 가솔린 기관의 연료장치에 대한 설명으로 틀린 것은?

- ① 연료 펌프 릴리프 밸브의 접촉 불량일 때 연료 압력이 높아진다.
- ② 연료 리턴 파이프나 호스가 막히면 연료 압력이 높아진다.
- ③ 인젝터에서 연료가 누출되면 엔진정지 후 압력이 낮아진다.
- ④ 연료 펌프의 체크 밸브 불량 시 정지 후 연료 압력이 급격히 낮아진다.

42. 자동차 기관에서 단 행정 기관의 장점이 아닌 것은?

- ① 흡·배기 밸브의 지름을 크게 할 수 있어 흡·배기 효율을 높일 수 있다.
- ② 피스톤의 평균속도를 높이지 않고 기관의 회전속도를 빠르게 할 수 있다.
- ③ 기관의 높이를 낮게 할 수 있다.
- ④ 직렬형 기관인 경우 기관의 길이가 짧아진다.

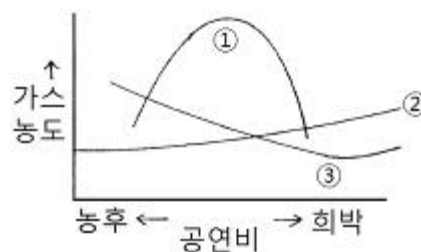
43. LPG 연료 계통에서 냉각수 라인의 영향을 받는 부품 및 그 목적은?

- ① 베이퍼라이저(vaporizer) : 내부 밸브 동결 방지
- ② 믹서(mixer) : 연료와 공기와 혼합성 증대
- ③ 긴급 차단 솔레노이드 밸브 : 연료의 누출 차단
- ④ 연료 탱크 : 연료 게이지의 동파 방지

44. 흡기다기관 진공도 시험으로 기관 상태를 알아낼 수 있는 사항으로 틀린 것은?

- ① 밸브 면과 시트와의 밀착 불량
- ② 압축 압력 누설
- ③ 실린더 헤드 캐스킷의 불량
- ④ 연료회로의 불량

45. 다음 그림은 가솔린기관의 공연비와 배출가스 농도의 관계를 나타낸 것이다. ①의 곡선이 나타내는 성분은?



- ① CO
- ② NOx

- ③ HC
- ④ SOx

46. 기관의 냉각장치에서 부동액의 구비 조건으로 틀린 것은?

- ① 물과 쉽게 혼합할 것
- ② 비등점이 낮을 것
- ③ 침전물이 없을 것
- ④ 부식성이 없을 것

47. 가솔린과 비교한 LP가스의 설명으로 틀린 것은?

- ① 공기보다 무겁다.
- ② 저장은 기체상태로 한다.
- ③ 연료 중진은 탱크 용량의 약 85% 정도로 한다.
- ④ 온도상승에 의해 압력상승이 일어난다.

48. 출력 0.6kW인 시동모터가 0.001kWh의 일을 하여 기관을 시동하였다면 시동에 소요된 시간은?

- ① 6초
- ② 12초
- ③ 24초
- ④ 36초

49. 전자제어 가솔린 연료분사장치에서 공회전 속도 제어를 위해 엔진컴퓨터(ECU)로 입력 요소가 아닌 것은?

- ① 액추에이터
- ② 인히비터 스위치
- ③ 냉각수 온도
- ④ 차속센서

50. 가솔린기관의 성능에 관계되는 가솔린 성상만으로 짝지어진 것은?

- ① 비중, 증류성상, 증기압, 옥탄가, 기화성
- ② 비중, 증류성상, 증기압, 옥탄가, 세탄가
- ③ 비중, 세탄가, 증기압, 옥탄가, 기화성
- ④ 비중, 증류성상, 세탄가, 옥탄가, 기화성

51. 유압식 밸브간극 조정 기구(HLA : Hydraulic Lash Adjuster)의 특성으로 틀린 것은?

- ① 항상 밸브간극이 '0'으로 조정된다.
- ② 밸브 소음을 줄일 수 있다.
- ③ 밸브 리프터 내에 공기 유입 시에 소음이 발생할 수 있다.
- ④ 밸브 내구성 면에서는 기계식보다 불리하다.

52. 전자제어 가솔린기관에서 차량의 성능향상과 배출가스 저감을 위해 공연비 피드백 제어를 하지 않는 경우 중 틀린 것은?

- ① 시동 시 및 시동 후 연료 증량 시
- ② 급 가속 및 고회전시 연료 차단 제어를 할 때
- ③ TPS 개도 50% 정도의 중 부하 주행 시
- ④ 흡입공기량 센서 및 인젝터의 연료 분사에 영향을 주는 센서가 고장일 때

53. 피스톤 행정의 길이가 100mm, 엔진의 회전수는 1500rpm인 4행정 사이클 가솔린 엔진의 피스톤 평균속도는?

- ① 15m/s
- ② 10m/s
- ③ 5m/s
- ④ 4m/s

54. 디젤기관의 기계식 연료분사 펌프에서 딜리버리 밸브의 기능이 아닌 것은?

- ① 연료의 역류 방지
- ② 분사의 확실한 단속
- ③ 후적 방지
- ④ 연료 분사량의 가감

55. 희박연소 기관의 엔진 컴퓨터가 전자 제어하는 항목이 아닌 것은?

- ① 연료 분사시기 제어
- ② 희박연소 보정제어
- ③ 공연비 피드백 제어
- ④ 가속성능 제어

56. 전자제어 가솔린엔진에서 운전 중 연료를 차단(fuel cut)하는 경우로 가장 적합한 것은?

- ① 일정회전속도(red zone) 이상일 때
- ② 차량이 정속 주행상태일 때
- ③ 산소 센서가 고장일 때
- ④ 퍼지 컨트롤 밸브가 누설될 때

57. 전자제어 가솔린기관에서 엔진컴퓨터(ECU)의 입력센서 중 속도밀도방식의 흡기유량 간접 계측과 관계있는 것은?

- ① 핫 필름(hot film) 방식
- ② 맵(MAP) 센서 방식
- ③ 칼만 와류(karman vortex) 방식
- ④ 메저링 플레이트(measuring plate) 방식

58. 디젤기관의 와류실식 연소실의 장점이 아닌 것은?

- ① 실린더 헤드의 구조가 간단하다.
- ② 분사압력이 낮아도 된다.
- ③ 엔진의 사용 회전속도 범위가 넓고 운전이 원활하다.
- ④ 압축행정에서 발생하는 강한 와류를 이용하기 때문에 회전속도 및 평균 유효압력을 높일 수 있다.

59. 전자제어 가솔린기관에서 공기유량 센서가 불량일 경우 예상되는 증상으로 틀린 것은?

- ① 연료펌프가 작동하지 않는다.
- ② 가속이 늦거나 거칠게 엔진 부조가 발생할 수 있다.
- ③ 크랭킹은 되나 시동이 되지 않을 수 있다.
- ④ 가속페달을 밟거나 뺄 때 시동이 꺼질 수 있다.

60. 가솔린기관, 자동변속기, 현가장치 등이 모두 전자제어식 차량일 때 공통으로 필요한 센서는?

- ① G 센서
- ② 차속센서
- ③ 수온센서
- ④ 휠 속도센서

4과목 : 자동차새시

61. 전자제어 자동변속기에서 댐퍼클러치의 작동영역을 판정하기 위해 출력축 회전수를 검측하는 부품은?

- ① 가속 페달 스위치
- ② 스톱 포지션 센서
- ③ 이그니션 신호
- ④ 펄스 제너라이터

62. 차륜정렬에서 토인의 필요성에 대한 설명으로 틀린 것은?

- ① 조향 링크지의 마멸에 의해 토아웃이 되는 것을 방지한다.
- ② 수직 방향의 하중에 의한 앞차축의 휨을 방지한다.
- ③ 앞바퀴를 평행하게 회전시킨다.
- ④ 바퀴가 옆 방향으로 미끄러지는 것과 타이어의 마멸을 방지한다.

63. 조향장치의 구비 조건이 아닌 것은?

- ① 조향 조작이 주행 중의 충격에 영향을 받지 않을 것
- ② 조향휠의 회전과 바퀴의 선회 차이가 클 것
- ③ 고속주행에서도 조향휠이 안정될 것
- ④ 선회 시 회전각과 선회반경의 관계를 예측할 수 있을 것

64. 현가장치에서 드가르봉식 속업소버의 특징에 속하지 않는 것은?

- ① 구조가 간단하다.
- ② 실린더가 2개이므로 방열성능이 크다.
- ③ 내부에 압력이 걸려있어 분해하는 것은 위험하다.
- ④ 작동할 때 오(O)링에 기포발생이 없어 장시간 작동하여도 감쇄효과의 감소가 적다.

65. 전자제어 현가장치의 장점으로 맞지 않는 것은?

- ① 승차감이 좋다.
- ② 고속주행시 안정감이 있다.
- ③ 급제동시 노스다운 된다.
- ④ 노면상태에 따라 차량의 높이가 조절된다.

66. 자동차 검차라인에서 테스터기 사용 및 측정에 관한 주의사항으로 틀린 것은?

- ① 테스터기 답판 위에 주차하거나 정비 작업을 하지 않는다.
- ② 물, 흙, 먼지 등이 테스터 내에 들어가지 않도록 한다.
- ③ 테스터기 답판 위에서 조향하거나 브레이크를 밟지 않는다.
- ④ 허용 측정 이상의 자동차는 답판과 차륜의 중앙을 정확히 일치시켜야 한다.

67. 제동장치에서 브레이크 작동 시 제동계통과 직접 관련된 고장사항과 거리가 먼 것은?

- ① 브레이크가 밀린다. ② 페달이 푹 들어간다.
- ③ 페달이 딱딱하다. ④ 엔진 rpm이 떨어진다.

68. 동력 조향장치를 장착한 자동차에서 핸들이 무거워지는 원인으로 틀린 것은?

- ① 유압이 규정압력보다 낮다.
- ② 타이어의 공기압이 낮다.
- ③ 유압회로 내에 공기가 차 있다.
- ④ 동력 조향 펌프의 회전속도가 빠르다.

69. 공기식 브레이크 작동에 대한 설명으로 틀린 것은?

- ① 휠 브레이크는 일반적으로 리딩 트레일링 슈 방식이다.
- ② 앵커 핀을 사용한 형식을 사용하고 있다.
- ③ 앞 브레이크에서 브레이크 챔버의 푸시로드는 슬랙 어저스터를 통해 브레이크 캠을 작동 시킨다.
- ④ 슬랙 어저스터는 브레이크 캠의 레버 속에 랙 피니언식을 사용한다.

70. 하이브리드 자동차가 주행 중 감속 또는 제동상태에서 모터를 발전모드로 전환시켜서 제동에너지의 일부를 전기에너지로 변환하는 모드는?

- ① 발전가속모드 ② 제동전기모드
- ③ 회생제동모드 ④ 주행전환모드

71. 변속기에서 증속 구간으로 주행할 때 장점이 아닌 것은?

- ① 연료가 절약된다.
- ② 타이어의 마모가 적게 된다.
- ③ 엔진의 운전이 조용하게 된다.
- ④ 엔진의 수명이 연장된다.

72. 타이어에서 트레드 패턴(tread pattern)의 필요성이 아닌 것은?

- ① 사이드 슬립이나 전진방향의 미끄럼을 방지한다.
- ② 타이어 내부에서 발생하는 열을 흡수한다.
- ③ 트레드에서 발생한 열을 방산시킨다.
- ④ 사용목적에 따라 구동력, 선회 성능을 향상시킨다.

73. 앞 엔진 앞바퀴 구동 차량(FF)의 특징이 아닌 것은?

- ① 직진성이 양호하다.
- ② 연료탱크 위치가 후륜구동보다 안전한 위치에 있다.
- ③ 전·후륜의 적절한 중량배분에 의해 승차감이 좋다.
- ④ 빙판에서의 발진이 후륜구동보다 양호하다.

74. 수동변속기 차량에서 클러치 디스크가 미끄러질 때 나타나는 현상으로 틀린 것은?

- ① 연료 소비량이 증가한다.
- ② 엔진이 과열한다.
- ③ 등판능력이 감소한다.
- ④ 구동력이 감소하여 출발이 쉽다.

75. 자동변속기 내부 작동에서 유압라인에 설치되어 있는 어큐뮬레이터의 역할은?

- ① 유압을 신속하게 전달하는 역할을 한다.
- ② 유압 누설을 방지하는 역할을 한다.
- ③ 유압 충격을 흡수하는 역할을 한다.
- ④ 유압을 일정하게 하는 역할을 한다.

76. 전자제어 제동장치(ABS) 장착차량의 장점이 아닌 것은?

- ① 좌우 노면 상태가 다를 때 차량의 스피ンを 줄여준다.
- ② 제동 시 직진 안정성을 유지할 수 있다.
- ③ 선회 주행 중 제동 시 조향성을 유지시킨다.
- ④ 무거운 제동조건에서 휠을 빨리 록(lock) 할 수 있다.

77. 타이어의 소음 중에 직진 주행 시 트레드 디자인에 같은 간격으로 배열된 피치가 노면을 규칙적으로 치는 데서 발생하는 소음은?

- ① 럼블(Rumble) 소음 ② 험(Hum) 소음
- ③ 스컬(Squeal) 소음 ④ 패턴(Pattern) 소음

78. 브레이크 마스터 실린더에 잔압을 두는 이유로 틀린 것은?

- ① 제동지연 방지 ② 부스터 진공형성 방지
- ③ 오일누출 방지 ④ 베이퍼록 방지

79. 자동변속기의 스톱 시험 시 보통 규정 회전수 영역으로 적합한 것은?

- ① 약 700~800rpm ② 약 1000~1500rpm
- ③ 약 2000~2600rpm ④ 약 3500~4000rpm

80. 다음 제원은 보통 화물 자동차가 적차상태에 있어서 제동초속도 35km/h에서 제동하였을 때 발생하는 각 바퀴의 제동

력의 총합이 3840kg이면 정지거리는?

- 1. 차량 중량 : 2340kg
- 2. 차량 총중량 : 5500kg
- 3. 최고 속도 : 78km/h
- 4. 회전부분 상당의 중량 7%

- ① 약 8.1m ② 약 7.1m
- ③ 약 6.1m ④ 약 5.5m

5과목 : 자동차전기

81. 전조등의 주광축은 그 하향 진폭이 전방 10m에 있어서 등화설치 높이의 얼마 이내에 있어야 안전기준에 적합한가?

- ① 2/5 ② 3/8
- ③ 3/10 ④ 5/10

82. 플레밍의 오른손 법칙을 이용한 것은?

- ① 축전기 ② 발전기
- ③ 트랜지스터 ④ 전동기

83. 물질의 전기저항 특성에 대한 설명으로 틀린 것은?

- ① 물질의 저항은 재질, 형상, 온도에 따라 변화한다.
- ② 단면적이 커지면 저항은 감소한다.
- ③ 전류가 흐르는 거리가 증가하면 저항은 커진다.
- ④ 일반적으로 금속은 온도가 상승하면 저항은 감소한다.

84. 점화장치에서 무효방전에 대한 내용으로 맞는 것은?

- ① 동시점화방식에서 배기과정에 있는 점화플러그의 방전을 말한다.
- ② 독립점화방식에서 케이블을 통해 손실되는 점화에너지의 방전을 말한다.
- ③ 동시점화방식에서 압축과정에 있는 점화플러그의 방전을 말한다.
- ④ 배전기 방식에서 나타나는 점화에너지의 방전을 말한다.

85. 가솔린기관의 점화 장치에서 한 개의 실린더 파형에서만 점화 2차 전압 피크가 높게 나타난다면 고장 원인으로 가장 적합한 것은?

- ① 고압 케이블의 저항 또는 점화 플러그 간극이 상대적으로 너무 크다.
- ② 고압 케이블의 저항 또는 점화 플러그 간극이 상대적으로 너무 작다.
- ③ 혼합기가 너무 농후하거나 또는 점화 플러그 간극이 너무 작다.
- ④ 압축비는 정상이지만 압축압력이 상대적으로 너무 낮다.

86. 충전장치에서 발전기 내부의 IC레귤레이터가 불량하여 배터리가 과충전 될 수 있는 경우는?

- ① 트랜지스터가 파손되어 로터코일에 전류가 흐르지 않는다.
- ② 여자(조정)다이오드가 파손되어 배터리에서 스테이터로 전류가 흐른다.
- ③ 로터코일이 단락되어 자화 효과가 커지면서 스테이터에서 과전류가 출력된다.
- ④ 제너다이오드가 파손되어 로터코일에 전류가 계속 흐르게 한다.

87. 하이브리드 전기 자동차와 일반 자동차와의 차이점에 대한 설명 중 틀린 것은?

- ① 하이브리드 차량은 주행 또는 정지 시 엔진의 시동을 끄는 기능을 수반한다.
- ② 하이브리드 차량은 정상적인 상태일 때 항상 엔진 기동 전동기를 이용하여 시동을 건다.
- ③ 차량의 출발이나 가속 시 하이브리드 모터를 이용하여 엔진의 동력을 보조하는 기능을 수반한다.
- ④ 차량 감속 시 하이브리드 모터가 발전기로 전환되어 고전압 배터리를 충전하게 된다.

88. 완전 충전된 축전지를 방전종지 전압까지 방전하는데 20A로 6시간이 걸렸다. 이것을 완전 충전하는데 10A로 15시간 걸렸다면 축전지의 효율(Ah)은?

- ① 50% ② 70%
- ③ 80% ④ 90%

89. 전자제어 차량에서 점화스위치(key)가 꺼져 있을 때 엔진 컴퓨터회로의 지속적인 작동으로 배터리의 방전을 방지하기 위한 컴퓨터의 기능은?

- ① 백업(back-up) 연료 모드 ② 파일세이프 기능
- ③ 웨이크 업 기능 ④ 데이터 리스트 기능

90. 자동차의 전조등 회로에서 한쪽 전조등의 조도가 부족한 원인이 아닌 것은?

- ① 반사경이 흐려졌을 때
- ② 전구의 설치 위치가 바르지 않을 때
- ③ 전구의 열화
- ④ 축전지의 용량 부족

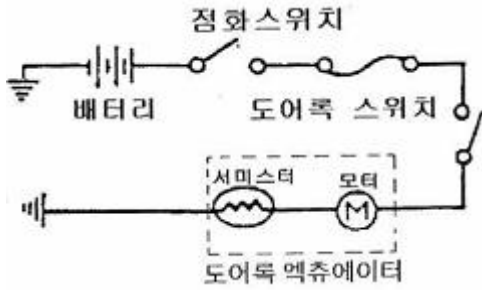
91. 미등 자동 소등(auto lamp cut) 기능에 대한 설명으로 틀린 것은?

- ① 키 오프(key off)시 미등을 자동으로 소등하기 위해서이다.
- ② 키 오프(key off)후 미등 점등을 원할 시엔 스위치를 off 후 on하면 미등은 재점등 된다.
- ③ 키 오프(key off)시에도 미등 작동을 쉽고 빠르게 점등하기 위해서이다.
- ④ 키 오프(key off)상태에서 미등 점등으로 인한 배터리 방전을 방지하기 위해서이다.

92. 에어백 모듈 취급 시 유의사항으로 틀린 것은?

- ① 물에 닿지 않도록 한다.
- ② 1.5m 이상에서 자유낙하 정도의 충격이 없어야 한다.
- ③ 배선 및 커넥터에 10kgf 이상의 인장력을 가하지 말아야 한다.
- ④ 배선에 문제가 있을 경우 수리하여 장착한다.

93. 아래 회로와 같은 정특성 서미스터를 이용한 도어록 시스템에 대한 설명으로 맞는 것은?



- ① 도어록 스위치가 작동되어 한도 이상의 전류가 흐르면 서미스터가 발열하여 저항이 증가 되어 전류를 제한한다.
- ② 도어록 스위치가 작동되어 한도 이상의 전류가 흐르면 서미스터가 발열하여 저항이 감소되어 전류를 제한한다.
- ③ 도어록 스위치가 작동되어 한도 이상의 전류가 흐르면 서미스터가 끊어져 저항이 감소된다.
- ④ 도어록 스위치가 작동되어 한도 이상의 전류가 흐르면 서미스터가 발열하여 저항이 감소되고 많은 전류를 흐르도록 유도한다.

94. 가솔린기관에서 초기 점화시기를 점검하는 방법으로 옳은 것은?

- ① 공회전 상태에서 시험기(스캔 툴)를 사용하여 점검한다.
- ② 점화시기 점검은 1500rpm에서 한다.
- ③ 3번 플러그 케이블에 타이밍 라이트를 설치한다.
- ④ 크랭크 풀리의 타이밍 표시가 일치하지 않을 때는 타이밍 벨트를 교환한다.

95. 파워트랜지스터 방식의 점화장치에서 점화코일에 고압의 2차 전압이 발생하는 시기는?

- ① 파워트랜지스터가 'on'되어 있을 때
- ② 파워트랜지스터가 'off'되어 있을 때
- ③ 파워트랜지스터가 'off' 상태에서 'on'되는 순간
- ④ 파워트랜지스터가 'on' 상태에서 'off'되는 순간

96. 자동 공조장치의 입력센서에 대한 설명으로 틀린 것은?

- ① 일사량 센서는 포토센서라고도 부르며 광 기전성 다이오드를 내장하고 있다.
- ② 습도 센서는 차량 실내의 상대 습도를 측정한다.
- ③ 핀 서모 센서는 증발기의 압력을 측정한다.
- ④ AQS 센서는 대기 중의 유해가스를 감지하여 차량 실내 유입을 차단한다.

97. 레인센서가 장착된 자동 와이퍼 시스템(RSWCS)에서 센서와 유닛의 작동특성에 대한 내용으로 틀린 것은?

- ① 레인센서 및 유닛은 다기능스위치의 통제를 받지 않고 종합제어 장치 회로와 별도로 작동한다.
- ② 레인센서는 LED로부터 적외선이 방출되면 빗물에 의해 반사되는 포토다이오드로 비의 양을 감지한다.
- ③ 레인센서의 기능은 와이퍼 속도와 구동지연시간을 조절하고 운전자가 설정한 빗물측정량에 따라 작동한다.
- ④ 비의 양이 부족하여 자동모드로 와이퍼를 동작시킬 수 없으면 레인센서는 오토딜레이 모드에서 길게 머문다.

98. 기동전동기의 회전력이 4N·m, 엔진의 플라이휠 링기어 잇수 112, 기동전동기의 기어 잇수 80이면 엔진을 기동시키는 회전력은?

- ① 56N·m
- ② 58N·m

③ 60N·m

④ 62N·m

99. 축전지로부터 기동전동기로 흐르는 회로의 전압강하에 대한 설명 중 틀린 것은?

- ① 터미널의 접촉이 나쁘면 전압강하가 발생한다.
- ② 전류가 많이 흐르는 곳이므로 접촉이 조금만 나빠도 전압강하는 크다.
- ③ 전동기의 B 단자까지의 회로는 저항이 크므로 전압강하가 큰 배선을 사용한다.
- ④ 회로의 전압강하 총합은 공급전압과 같다.

100. 전기장치 정비 시 주의사항으로 틀린 것은?

- ① 센서, 릴레이 취급 시 심한 충격을 주지 않도록 한다.
- ② 커넥터가 확실하게 연결되었는가를 확인한다.
- ③ 커넥터를 분리시킬 때는 배선을 잡고 당긴다.
- ④ 커넥터 연결은 딱 소리가 날 때까지 밀어 넣는다.

1	2	3	4	5	6	7	8	9	10
①	④	②	②	③	③	①	①	④	④
11	12	13	14	15	16	17	18	19	20
①	④	③	④	③	①	①	②	②	③
21	22	23	24	25	26	27	28	29	30
①	①	②	②	④	②	③	③	②	③
31	32	33	34	35	36	37	38	39	40
①	④	②	④	②	①	②	②	②	②
41	42	43	44	45	46	47	48	49	50
①	④	①	④	②	②	②	①	①	①
51	52	53	54	55	56	57	58	59	60
④	③	③	④	②	①	②	①	①	②
61	62	63	64	65	66	67	68	69	70
④	②	②	②	③	④	④	④	④	③
71	72	73	74	75	76	77	78	79	80
②	②	③	④	③	④	②	②	③	①
81	82	83	84	85	86	87	88	89	90
③	②	④	①	①	④	②	③	③	④
91	92	93	94	95	96	97	98	99	100
③	④	①	①	④	③	①	①	③	③